

А. А. Мицкевич

# Сборник заданий по экономике

Издание второе

Издательство  **ВИТА** Москва 1998  
*Press*

**ББК 65.01я721**  
**М70**  
**УДК 373.167.1:330**

**Мицкевич А. А.**

**М70** Сборник заданий по экономике: — М.: "Вита-Пресс",  
1998. — 144 с.: илл.  
**ISBN 5-7755-0053-9**

Сборник заданий предназначен для учащихся 9—10 классов общеобразовательной школы, профессионально-технических училищ и техникумов. Книга содержит задачи по основным темам курса экономики и может быть использована в качестве дополнительного пособия вне зависимости от того, по какому учебнику ведется изучение предмета.

Многие задачи имеют подробные решения, что, безусловно, поможет дать и представление о методах и приемах, используемых при решении задач по экономике.

ББК 65.01я721

**ISBN 5-7755-0053-9**

© Мицкевич А. А., 1997

© Макет и оформление.

Издательство "Вита-Пресс", 1997

## ПРЕДИСЛОВИЕ

В настоящее время среднее школьное образование в России не предполагает обязательного получения учащимися систематизированных знаний в области экономики. Вместе с тем, необходимость школьного экономического образования, которое поможет выпускникам правильно ориентироваться в жизни современного общества и сделать осознанный выбор жизненного пути с учетом своих склонностей и особенностей характера, настолько очевидна, что во многих школах преподавание экономики уже началось.

Опыт показывает, что такое обучение целесообразно только при использовании учебников, прошедших экспертизу Федерального экспертного совета. Занятия по другим учебникам чреваты необходимостью переобучения при поступлении в высшие учебные заведения и, что самое главное, формируют искаженное представление о процессах и тенденциях в хозяйственной сфере, их роли и влиянии на политическую и социально-экономическую ситуацию в стране.

Данный сборник является неотъемлемой частью учебно-методического комплекта по экономике, отвечающего современным требованиям экономической науки. Он предназначен в помощь ученику, изучающему курс экономики в средней школе на базе учебника И. В. Липсица «Экономика», входящего в Федеральный комплект учебников.

Наличие дополнительных материалов позволяет использовать сборник учителям и учащимся, занимающимся по учебникам Л. Л. Любимова, В. С. Автономова и других авторов.

Сборник включает 12 глав, соответствующих определенным темам экономики. Некоторые главы предваряются теоретическим материалом, но все из них содержат два типа задач: с решениями и для самостоятельной работы. Задачи повышенной трудности отмечены звездочкой.

Задачи с решениями знакомят учащихся с различными приемами выполнения заданий. Задачи для самостоятельного решения развивают навыки индивидуальной работы на основе приемов и методов, представленных в задачах с решениями. Ответы ко многим из них приводятся в конце книги.

Автор и издательский коллектив надеются, что данный сборник окажет практическую помощь всем изучающим экономику.

## ГЛАВА 1

# ПРОИЗВОДИТЕЛЬНОСТЬ ТРУДА

### Задачи с решениями

**1.А.** В первый год производительность труда выросла на 20%, а во второй — еще на 5%. На сколько процентов увеличилась производительность труда за 2 года?

*Решение:*  $(1,2 \cdot 1,05 - 1) \cdot 100\% = 26\%$ .

**1.Б.** Стоимость товаров и услуг, произведенных компанией за день, выросла к концу года в 3 раза. Цены за год выросли в 2 раза, а численность работающих увеличилась в 1,5 раза. Каковы изменения производительности труда?

*Решение:*  $\frac{3}{1,5 \cdot 2} = 1$ , т.е. производительность труда осталась прежней.

**\*1.В.** Попробуйте оценить изменение производительности труда в условиях, приближенных к реальности, когда цены и объемы выпуска разных видов продукции изменяются относительно произвольно:

Товар	1994 г.		1995 г.	
	Цена, тыс. долл.	Количество, шт.	Цена, тыс. долл.	Количество, шт.
А	2	25	2,2	20
В	3	20	2,5	25

*Решение:*

Учащемуся фактически предлагается самостоятельно вывести принятые в индексной теории и в практике расчетов индексы физического объема. Полезнейшее упражнение, в котором отличной оценкой можно оценивать получение любого из двух возможных индексов: либо ориентирующегося на цены базового периода (1994 года, в данном случае) — это  $I(б, к)$ , либо использующего цены текущего года —  $I(т, к)$ .

Попытка вычисления общего индекса как среднего геометрического должна приветствоваться в качестве исключительного результата.

$$I(б, к) = \frac{2 \cdot 20 + 3 \cdot 25}{2 \cdot 25 + 3 \cdot 20} = \frac{115}{110}$$

$$I(б, к) = \frac{2,2 \cdot 20 + 2,5 \cdot 25}{2,2 \cdot 25 + 2,5 \cdot 20} = \frac{106,5}{105}$$

Общий индекс равен  $I = \sqrt{I(б, к) \cdot I(т, л)} = 1,0297 \approx 1,03$ , что показывает прирост производительности труда на 3%.

**1.Г.** За период с 1960 по 1986 г. прирост производительности труда в США составил 35% прироста производительности труда в Японии. Темп роста этого показателя составил в США 0,5% в год, а уровень Японии составлял в 1960 г. 22% уровня США. Если указанная тенденция сохранится, когда Япония догонит США по производительности труда?

*Решение:*

Эта прогнозная задача опирается на принцип экстраполяции, то есть распространения нынешних тенденций в будущее. Поясните учащимся плюсы и минусы этого метода.

Расчеты строятся следующим образом.

Обозначим через  $x$  темп роста производительности труда в Японии, тогда:  $0,35 \cdot x$  — это темп роста производительности в США, равный 0,5%. Отсюда

$$x = \frac{0,5}{0,35} = 1,43\%.$$

Пусть  $t$  — искомое число лет начиная с 1960 г. Тогда уравнение для определения  $t$  таково:

$$(1,0143)^t \cdot 22 = 100 \cdot (1,005)^t.$$

В результате, логарифмируя это уравнение, получаем

$$t \cdot \log (1,00925) = \log \left( \frac{100}{22} \right).$$

*Ответ:*  $t = 164$  года или в 2124 г.

## **Задачи для самостоятельного решения**

**1.1.** Молокозавод выпускал 50 тыс. литровых пакетов молока в сутки по цене 100 руб. за литр. После повышения отпускной цены до 150 руб. стал производить 45 тыс. пакетов в сутки. На сколько процентов увеличилась или уменьшилась производительность труда, если численность работающих на молокозаводе не изменилась?

**1.2.** После реконструкции главного конвейера на автосборочном заводе в прошлом году производительность труда увеличилась: вместо 80 автомашин на одного работающего пришлось 104 автомашины в год. Однако на следующий год производительность упала на 10%. Определите общий прирост производительности труда за 2 года в процентах и в натуральном выражении.

**1.3.** Каков среднегодовой прирост производительности труда, если в первый год она выросла на 20%, а во второй — на 40,833%?

**1.4.** Рабочий день уменьшился с 8 до 7 часов. На сколько процентов повысилась производительность труда, если при тех же расценках сдельная заработная плата выросла на 5%? (Задача из курса математики.)

**1.5.** Оборудование реконструировалось дважды: в декабре и июне. В результате производительность труда повышалась дважды в год каждый раз на полгода и на один и тот же процент. Найдите этот процент, если за час работающий производил до реконструкции продукции на 2500 руб., а теперь на 2809 руб. (Задача из курса математики.)

**1.6.** За год при сохранении численности работающих количество выпускаемой фирмой продукции изменилось следующим образом:

Продукт	Количество	
	1993 г.	1994 г.
А	20	40
Б	30	25
В	100	60

Оцените изменение производительности труда в фиксированных ценах:  
 продукт А — 10 долл.,  
 Б — 5 долл. и В — 1 долл.

**1.7.** Выпуск продукции увеличился на 20% при росте числа занятых на 10%. На сколько процентов выросла производительность труда?

**1.8.** Выпуск продукции в стоимостном выражении увеличился в 2 раза, а цены на продукцию предприятия за это же время выросли в 1,6 раза при неизменном числе работающих. Во сколько раз увеличилась производительность труда?

**\*1.9.** Определите изменение производительности труда в 1995 году по сравнению с 1994 годом по следующим данным:

Товар	1994 год		1995 год	
	цена	кол-во	цена	кол-во
А	20	20	200	17
В	30	30	300	45

**\*1.10.** За период 1960–1986 годов прирост производительности в промышленности США составлял 35% прироста японской промышленности. Можно ли подсчитать, на сколько процентов рост производительности в японской промышленности обгонял ее рост в американской промышленности?

\*1.11. Два соседних государства, Эколандия и Экомания, имеют следующие показатели:

	Денежная единица	Курс валют	Цена месячной потребительской корзины	Часовая производительность
Эколандия	дукат	1	250	8
Экомания	золотой	15	3000	110

Где производительность труда больше и на сколько процентов?



## ГЛАВА 2

# ТЕОРИЯ ПОЛЕЗНОСТИ И ВЫБОР ПОТРЕБИТЕЛЕЙ

### Задачи с решениями

**2.А.** Постройте кривые общей и предельной (маржинальной) полезности по следующим данным:

Условие задачи

Ответы по заполнению  
таблицы

Количество товаров	Общая полезность	Предельная полезность	Общая полезность	Предельная полезность
1	...	20	(20)	20
2	37	...	37	(17)
3	51	...	51	(14)
4	...	11	(62)	11
5	71	9	71	9

**Решение:**

Во второй части таблицы в скобках указаны правильные ответы для заполнения пропусков. Эти ответы получены из простой формулы:

$$\text{Общая полезность } (n) \text{ товаров} = \text{Общая полезность } (n-1)\text{-го товара} + \text{Маржинальная полезность } n\text{-го товара}$$

или

$$TU(1 + \dots + n) = TU[(1 + \dots + (n - 1))] + MU(n). \quad (1)$$

Построение обеих функций общей полезности ( $TU$ ) и маржинальной полезности ( $MU$ ) по точкам труда не представляет.

**2.Б.** Василий решил израсходовать 2000 руб. на покупку пирожных. Полезность он оценивает деньгами (в руб.), предполагая два способа использования пирожных — для гостей и для собственной семьи:

Количество пирожных	Гостям		Семье	
	<i>TU</i>	<i>MU</i>	<i>TU</i>	<i>MU</i>
1	800	800	1200	...
2	1400	...	...	900
3	1900	500	...	600
4	2300	...	3000	...
5	...	300	3100	...

Через *TU* обозначена общая полезность (от англ. *total utility*), а через *MU* — маржинальная полезность (от англ. *marginal utility*).

Заполните недостающие клетки в таблице и определите наилучший способ использования Василием этих денег, если цена пирожного равна 400 руб.

*Решение:* Заполненная таблица имеет следующий вид:

Количество пирожных	Гостям		Семье	
	<i>TU</i>	<i>MU</i>	<i>TU</i>	<i>MU</i>
1	800	800	1200	(1200)
2	1400	(600)	(2100)	900
3	1900	500	(2700)	600
4	2300	(400)	3000	(300)
5	(2600)	300	3100	(100)

В скобках указаны заполненные клетки, значения которых вычислены по формуле (1) (см. задачу 2.А).

Допустим, наилучшим распределением денежной суммы в 5000 руб. будет такое, что  $MU(G, n) \neq MU(C, m)$ , где  $MU(G, n)$  — маржинальная полезность последнего  $n$ -го пирожного из общего числа  $n$  пирожных, купленных для гостей, а  $MU(C, m)$  — маржинальная полезность последнего  $m$ -го пирожного, купленного для семьи. Естественно, что  $(n + m) \cdot p \leq 2000$ , то есть должно быть выполнено бюджетное ограничение.

Согласно второму закону Госсена, мы могли бы попытаться обменять единицу менее выгодного блага на единицу более выгодного или, если позволяет бюджетное ограничение, просто добавить наиболее выгодную единицу блага к имеющейся комбинации. Причем нужно следить, чтобы полезность добавляемого блага была больше цены, за него уплаченной. Пошаговое решение останавливается, как только такая попытка не приносит увеличения общей полезности.

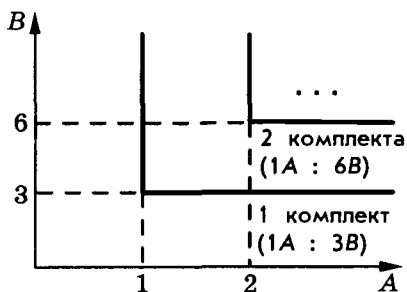
Таким образом, решение задачи может быть пошаговым и представленным следующей таблицей:

Семье			Гостям		
Добавляемая единица	Добавляемая полезность	Номер шага	Добавляемая единица	Добавляемая полезность	Номер шага
1	800	3	1	1200	1
2	600	4	2	900	2
			3	600	5

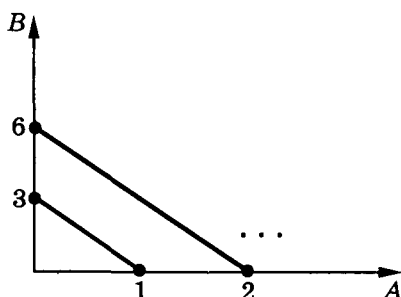
Бюджетное ограничение будет исчерпано при покупке пяти пирожных: двух для семьи и трех для гостей.

**2.В.** Постройте кривые безразличия полезности для двух взаимодополняющих товаров в пропорции 3 : 1 и для двух абсолютно взаимозаменяемых товаров (с некоторой натяжкой это могут быть мандарины и апельсины, тонкие тетради в клетку и тетради потолще и т. п.) в той же пропорции.

Решение:



Взаимодополняющие  
товары ( $1A : 3B$ )



Взаимозаменяемые  
товары ( $1A = 3B$ )

*Примечание.*

Кривые безразличия для взаимозаменяемых товаров построены с учетом неограниченной делимости товаров  $A$  и  $B$ .

## Задачи для самостоятельного решения

2.1. Что можно сказать о полезности 21-го товара, если

Количество товаров	16	18	20	22	24
Общая полезность	20	23	25	26	26,8

2.2. В честь победы школьной баскетбольной команды устроен прием, на котором из напитков есть только апельсиновый сок и минеральная вода. Центральной команды-победительницы оценивает для себя так полезность этих напитков (в условных единицах или рублях — это безразлично):

Количество, в литрах	0,5	1	1,5	2	2,5	3
Сок	1000	1800	2500	3100	3600	4000
Минеральная вода	900	1750	2550	3300	4000	4650

Больше 4 литров ему не выпить. Что он будет пить и в каких количествах, максимизируя полезность?

**2.3.** Отметьте на графиках области, где полезность больше  $\bar{u}$  и меньше  $\bar{u}$ :

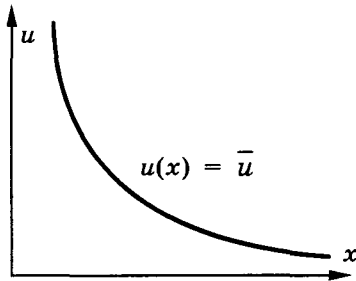


Рис. 2.1

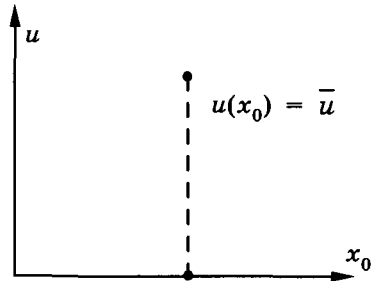


Рис. 2.2

**\*2.4.** Докажите, что наилучшее использование суммы  $D$  достигается в точке касания соответствующего бюджетного ограничения и некоторой кривой безразличия.

**2.5.** Постройте кривые безразличия полезности для двух взаимодополняющих товаров в пропорции 5 : 1 и для двух абсолютно заменяемых видов товаров (с некоторой натяжкой это могут быть мандарины и апельсины, тонкие тетради в клетку и потолще и т. п.).

**\*2.6.** Покажите, что кривая безразличия вогнута.

**2.7.** Даны три точки на кривой безразличия (рис. 2.3). Определите дуговую норму замещения на отрезках  $[A, B]$  и  $[B, C]$ .

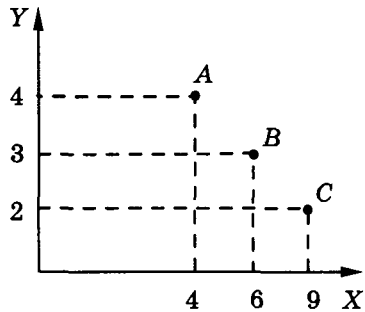


Рис. 2-3

**\*2.8.** Найдите маржинальную полезность прироста денежного дохода  $M$  при наилучшем его использовании, если  $u(x, y) = u_1(x) + y$  — функция полезности,  $x$  — приобретенное количество какого-либо товара по цене  $P$ , а  $y$  — оставшаяся часть дохода.

**2.9.** Сделайте наиболее рациональные покупки в магазине, где есть три товара  $A$ ,  $B$  и  $C$ , руководствуясь возможностью потратить 12 000 рублей и своей функцией полезности вида

$$u(A, B, C) = u(A) + u(B) + u(C),$$

измеряемой в рублях, если

$u(A)$	5000	6000	7000	7000	7000
$u(B)$	3000	5500	8200	10 000	10 000
$u(C)$	2500	4000	5500	6400	7000
Количество единиц	1	2	3	4	5

Цены:  $P(A) = 1500$ ;  $P(B) = 1300$ ;  $P(C) = 1000$ .

## ГЛАВА 3

# АЛЬТЕРНАТИВНАЯ СТОИМОСТЬ. КРИВАЯ ПРОИЗВОДСТВЕННЫХ ВОЗМОЖНОСТЕЙ

### Задачи с решениями

**3.А.** Могут ли следующие точки лежать на одной кривой производственных возможностей:

$A(15, 3)$ ;  $B(8, 13)$ ;  $C(13, 6)$ ;  $D(5, 12)$ ?

*Решение:* Нет, так как  $b_1 > d_1$  и  $b_2 > d_2$  ( $8 < 5$  и  $13 > 12$ ) и кривая не является выпуклой, что не соответствует свойствам кривой производственных возможностей.

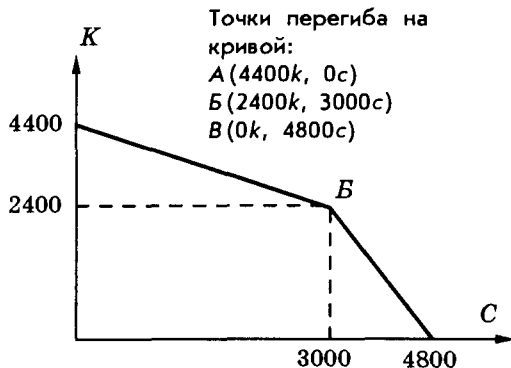
**3.Б.** Два фермера — Петр и Павел — могут выращивать свеклу и картофель, засеивая ими свои угодья в любой пропорции. Если Петр все свои поля площадью 100 га отведет под свеклу, то соберет урожай 3000 т, а если под картофель, то получит 2000 т. У Павла земли больше — 150 га, но она похуже, и он может получить 4800 т свеклы и 2400 т картофеля. Постройте общую кривую производственных возможностей.

*Решение:*

Альтернативная стоимость единицы картофеля выражается следующим соотношением:

$1 \text{ к} = 1,5 \text{ с}$  (у Петра);

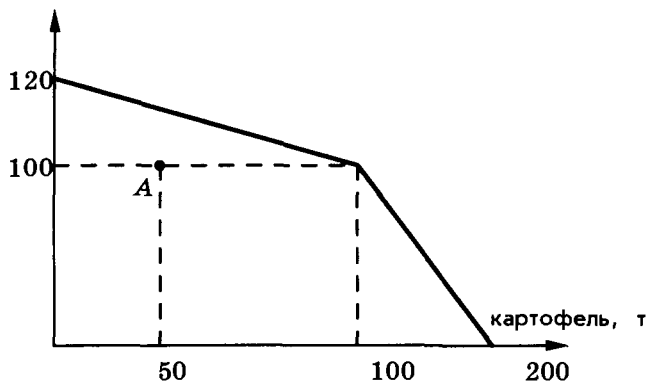
$1 \text{ к} = 2 \text{ с}$  (у Павла).



## Задачи для самостоятельного решения

**3.1.** На одном поле фермер может вырастить 300 т картофеля или 100 т пшеницы, а на другом альтернативная стоимость выращивания 1 т пшеницы равна 2 т картофеля при максимальном урожае картофеля, равном 400 т. Постройте кривую производственных возможностей.

**3.2.** Ниже приведена кривая производственных возможностей фермера, который выращивает пшеницу и картофель на двух полях:



а) Какова альтернативная стоимость производства еще 1 т картофеля, если его производится 75 т? 150 т? Какова при этом альтернативная стоимость 1 т пшеницы?

б) Определите альтернативную стоимость выращивания 50 т пшеницы.

в) Вычислите максимальную урожайность пшеницы и картофеля, если площадь каждого поля равна 1000 га, а картофеля выращено 70 т.

г) Картофеля вырастили 50 т, а пшеницы 100 т. На сколько можно было увеличить урожай пшеницы и картофеля? Какова была альтернативная стоимость пшеницы и могла бы она измениться при более рациональном использовании земли?



**3.3.** Допустим, год назад вы имели возможность вложить 50 тыс. руб. в акции трех предприятий, а также положить деньги в банк под 200% годовых. Вы купили за 50 тыс. руб. единственную акцию предприятия А и теперь можете подвести итоги:

Предприятие	Цена одной акции (в тыс. руб.)	Дивиденды на одну акцию (в тыс. руб.)
А	50	250
Б	5	30
В	30	200

Сколько у вас было конкурентоспособных альтернатив год назад? Сколько вы проиграли по сравнению с лучшей альтернативой? Можно ли назвать этот проигрыш ценой выбора? Если уровень цен вырос за год в 20 раз, то какова прибыльность лучшего варианта?

**3.4.** Могут ли следующие точки лежать на одной кривой производственных возможностей: А(15, 3); В(8, 13); С(13, 6); D(5, 12)?

**3.5.** Фермер имеет три поля, каждое из которых он использует под картофель и пшеницу. На первом поле фермер может вырастить либо 16 т картофеля, либо 4 т пшеницы, на втором — 8 и 3 соответственно, а на третьем — 4 и 2. Построить кривую производственных возможностей.

**\*3.6.** Выполняя задание Центра, майор Пронин узнал, что точки А(90 пушек, 80 т масла), В(70, 100) и С(30, 120) принадлежат кривой производственных возможностей противника. Кроме этого, он выведал, что генеральный штаб врага планирует произвести 50 пушек. Какой прогноз сделает отличник по экономике Пронин относительно минимального и максимального выпуска масла при полном напряжении сил вражеской державы?

**3.7.** Допустим, что квалифицированный бухгалтер может за каждый час работы по своей специальности заработать 500 руб.

Предположим, что ему необходимо сделать ремонт собственной квартиры. Если он возьмется за это сам, то это отнимет у него 30 ч, и при этом он не испытает большого удовольствия от работы. Бухгалтер может нанять маляра, заплатив за каждый час его работы 250 руб. Маляр — начинающий, поэтому провозится 40 ч. Что выгоднее для бухгалтера: покрасить все стены самому или пригласить маляра? Подтвердите ответ расчетами. Что можно сказать об абсолютных и относительных преимуществах бухгалтера и маляра в малярном деле?

**3.8.** Перечислите альтернативы и постройте границу «производственных» возможностей на графике «время — деньги» в следующей ситуации.

Вы попали в Стокгольм без кроны в кармане, и через 6 ч вам придется вернуться в Россию. Можно все 6 ч бродить по прекрасному городу, но, обладая предприимчивостью, вы быстро находите способ заработать на продаже газет: 8 крон за 2 ч, 18 крон за 4 ч и 30 крон за 6 ч. Допустим, других альтернатив вам в силу ограниченности времени найти не удалось. Обсудите преимущества и недостатки каждого из вариантов. Расположите их в порядке предпочтительности, сделайте выбор и определите его альтернативную стоимость.

## ГЛАВА 4

# СПРОС И ПРЕДЛОЖЕНИЕ

### Задачи с решениями

**4.А.** Предположим, что Смит, Рикардо, Маркс и Кейнс могут преподавать вводный курс экономики. Каждый хочет работать по 8 ч в день там, где платят больше денег. С точки зрения студентов, их услуги являются абсолютно заменимыми: час преподавания каждого из четырех одинаково ценен для студентов.

Маркс готов преподавать 8 ч в день при ставке 4 долл./ч, так как для него лучшая из всех остальных возможностей — подготовка революции — в настоящее время приносит ему только 3,99 долл./ч. Рикардо может работать по 4 ч в день на фирме «Мэррилл Линч» за 13,99 долл./ч; помимо этого он довольствуется продажей обуви, что дает ему еще 4,99 долл./ч. Для Смита наилучший выбор — преподавание нравственной философии в местном колледже за 7,99 долл./ч по 8 ч в день. Кейнс работает 8 ч в день за 11,99 долл./ч, собирая пожертвования в пользу местного симфонического оркестра.

а) Используя эти данные, постройте кривую предложения услуг преподавателей на графике с осями: часы преподавания экономики в день и часовой заработок.

б) Покажите, каким образом изменится кривая предложения, если «Мэррилл Линч» наймет Рикардо на полный рабочий день.

в) Покажите изменения кривой, если Марксу предложат работать репортером в газете за 9,99 долл./ч.

г) Как изменится кривая предложения, если общественность вдруг сильно заинтересуется моральной философией?

[Источник: Хейне П. *Экономический образ мышления*. — М.: Дело, 1992, задача 10 к главе 3.]

*Решение:*

а) Построим шкалу предложения. Величину предложения будем измерять в часах преподавания вводного курса экономики в день.

Цена часа	$0 \leq P < 4$	$4 \leq P < 5$	$5 \leq P < 8$
Величина предложения	0	8	12
Цена часа	$8 \leq P < 12$	$12 \leq P < 14$	$P \leq 14$
Величина предложения	20	28	32

При цене до 4 долл./ч не найдется ни одного желающего лектора. При цене от 4 до 5 долл. единственным преподавателем будет Маркс, который будет работать 8 ч в день. Если цена будет от 5 до 8 долл., то к нему присоединится Рикардо на 4 ч в день. При цене от 8 до 12 долл. экономику на полную ставку станет преподавать Смит. Итого величина предложения составит  $8 + 4 + 8 = 20$  ч. Далее при цене 12 – 14 долл./ч к ним присоединится Кейнс. И наконец, при цене не менее 14 долл. Рикардо перейдет полностью на чтение лекций по экономике.

б) Если «Мэррилл Линч» наймет Рикардо на полный рабочий день, то шкала предложения примет следующий вид:

Цена часа	$8 \leq P < 4$	$4 \leq P < 8$	$8 \leq P < 12$
Величина предложения	0	8	16
Цена часа	$12 \leq P < 14$	$14 \leq P$	
Величина предложения	24	32	

в) Если Марксу предложат работать репортером в газете за 9,99 долл./ч, то шкала предложения примет следующий вид:

Цена часа	$0 \leq P < 5$	$5 \leq P < 8$	$8 \leq P < 10$
Величина предложения	0	4	12
Цена часа	$10 \leq P < 12$	$12 \leq P < 14$	$14 \leq P$
Величина предложения	20	28	32

г) Если общество сильно заинтересуется моральной философией, то спрос на услуги Смита как преподавателя моральной философии увеличится. При этом цена может стать больше 7,99 долл./ч. Отсюда следует, что возможны различные изменения шкалы предложения в сторону уменьшения.

**4.Б.** Допустим, функция спроса равна  $Q_d = 100 - P$ , а функция предложения  $Q_s = 2 \cdot P - 50$ , где  $P$  — это цена в рублях, а величина спроса  $Q_d$  и предложения  $Q_s$  в тысячах штук.

а) Найдите равновесную цену и равновесное количество.

б) Если правительство решит снизить цену до 40 рублей, стремясь стимулировать потребителя, к чему это приведет? Определите величины спроса и предложения, наблюдается ли избыточное предложение (перепроизводство, затоваривание) или избыточный спрос (дефицит), каков объем потребления?

*Решение:*

Точку равновесия до вмешательства правительства в работу данного рынка находим из уравнения:

$$Q_s = Q_d \text{ или } 100 - P = 2P - 50.$$

Следовательно,

$$P_0 = 50, Q_0 = 50.$$

Если правительство снизит цену до 40 руб., то величина спроса достигнет 60 ( $Q_d = 100 - 40 = 60$ ), но предложение сократится до 30 ( $Q_s = 2 \cdot 40 - 50 = 30$ ). Имеем избыточный спрос, равный 30 при таком же объеме продаж:  $Q = \min(Q_d, Q_s) = 30$ .

**4.В.** Функции спроса и предложения заданы:  $Q_d = 200 - 4 \cdot P$  и  $Q_s = 6 \cdot P - 100$ , известны также затраты на единицу продукции  $C = 25$ , которые не зависят от объема производства. Сравните объемы продаж при равновесной цене и цене, максимизирующей

совокупную прибыль производителей в отрасли. Сделайте вывод, почему государству не рекомендуется вмешиваться в рыночные механизмы.

*Решение:*

Найдем точку равновесия:  $P_o = 30$ ,  $Q_o = 80$ , при цене  $P > P_o$  объем продаж определяется функцией спроса, а при  $P < P_o$  — предложения. Необходимо найти цену  $P'$ , определяющую максимум прибыли, естественно, при  $P > C$ :

$$\max \begin{cases} (P - C) \cdot Q_d, & \text{при } P > P_o = 30 \\ (P - C) \cdot Q_s, & \text{при } P \leq P_o = 30 \end{cases}$$

— при  $(P - 25) \cdot (200 - 4 \cdot P) = -4 \cdot P^2 + 300 \cdot P - 5000$  максимум достигается в точке  $P = 75/2$  и равен 625;

— при  $(P - 25) \cdot (6 \cdot P - 100)$  и при  $25 \leq P \leq 30$  максимум достигается при  $P = 30$  и равен 400.

Следовательно, оптимальной для производителей является цена  $P' = 37,5$ , дающая им наибольшую прибыль в размере 625 денежных единиц.

## Задачи для самостоятельного решения

**4.1.** Допустим, в мире есть три наиболее богатых коллекционера марок, охотящихся за уникальной маркой. Все три оставшихся экземпляра марки у вас. Вы оцениваете спрос следующим образом:

Жан готов купить марку за 5000 долл., Иван — за 4000 долл., а «скряга» Джон — только за 3000 долл.

Как вы будете действовать, если они не знают друг о друге?

- Постройте кривую спроса.
- Что вам надо делать, чтобы максимизировать собственный доход?

**4.2.** В результате опроса потребителей удалось выяснить, кто по какой цене согласен купить телевизор «Электрон», причем каждый назвал максимально возможную для себя цену. Все данные сведены в таблицу:

Цена (тыс. руб.)	100	120	140	160	180	200
Потенциальное количество продаж по данной цене	4	5	7	6	3	2

- а) Постройте кривую спроса.  
 б) Определите величину спроса при цене 170 тыс. руб.

**4.3.** Оцените дуговую эластичность предложения по двум точкам: величина предложения увеличивается со 120 до 160 штук при росте цены с 6 до 8 рублей.

**4.4.** На рыбном рынке в окрестностях Таллинна, где утром можно купить свежую рыбу, два рыбака предлагают 4 угрей по цене 6 крон за каждого угря.

Ян предлагает сократить предложение, выбросив одного угря в море, а Питер советует сбросить цену. Если графики спроса и предложения выглядят, как на рис. 4-1, то кто прав и почему? Что можно сказать, если Ян предлагает не выкинуть угря, а съесть?

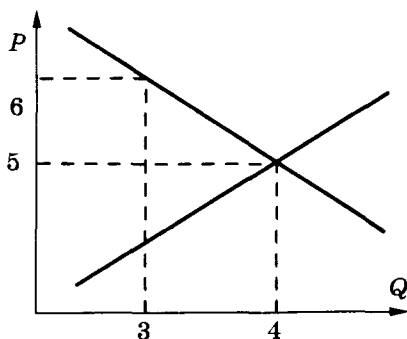


Рис. 4-1

**4.5.** Определите кривую суммарного спроса на основании данных об индивидуальном спросе:

$$Q(1) = 50 - 5P, P \leq 10;$$

$$Q(2) = 40 - 8P, P \leq 5;$$

$$Q(3) = 32 - 4P, P \leq 8.$$

Является ли построенная функция выпуклой вниз?

**4.6.** В таблице приведены шкалы спроса и предложения мяса. Заполните графы «избыточный спрос», «избыточное предло-

жение», «объем продаж», «направление изменения цены» и отметьте строчку, соответствующую положению равновесия на рынке.

Цена, тыс. руб. за кг	Величина спроса, тыс. кг	Величина предложения, тыс. кг	Избыточный спрос	Избыточное предложение	Объем продаж	Направление изменения цены
1,0	160	10				
1,5	130	30				
2,0	110	55				
2,5	80	80				
3,0	60	100				
3,5	40	130				
4,0	20	160				

**4.7.** Постройте график эластичности линейной функции спроса

**4.8.** Постройте график эластичности линейной функции предложения

**4.9.** На рынке некоторого товара два производителя имеют две разные шкалы предложения:

$Q_s(1)$	0	10	20	30	40	50
$Q_s(2)$	10	40	55	65	70	70
$P$ , тыс. руб.	1	1,2	1,4	1,6	1,8	2,0

Определите равновесную цену при функции спроса

$$Q_d = 103 - 20 \cdot P$$

**4.10.** Постройте кривую предложения меди на мировом рынке в 1985 году по следующим данным:



Страны	Ежегодная добыча (тыс. т)	Предельные издержки (долларов за фунт)
Канада	724,4	0,88
Чили	1356,4	0,58
Перу	397,2	0,79
США	1007,3	0,68
Заир	560,0	0,49
Замбия	363,0	0,54

(Источник: Пиндайк Р., Рубинфельд Д. *Микроэкономика/* Пер с англ. — М.: Экономика, Дело, 1992. С. 239.)

Какую кривую предложения можно построить по этим данным: кривую максимально возможного или минимально возможного предложения или какие-либо еще кривые предложения? Как вы думаете, на всех ли рудниках США одни и те же предельные издержки? Как получено число 0,68? Верно ли, что цена на уровне предельных издержек дает нулевую прибыль? Как вы думаете, эти данные позволяют анализировать краткосрочное или долгосрочное предложение?

**4.11.** Экономисты вычислили кривые спроса и предложения газа в США в 1975 году (см.: Пиндайк Р., Рубинфельд Д. *Микроэкономика*, с. 63):

$$Q_s = 14 + 2 \cdot P_g + 0,25 \cdot P_n \text{ — предложение,}$$

$$Q_d = - 5 \cdot P_g + 3,75 \cdot P_n \text{ — спрос,}$$

где  $Q_d, Q_s$  — величины спроса и предложения в трлн. куб. футов,  $P_g$  — цена газа в долларах за 1 тыс. куб. футов,  $P_n$  — цена нефти за баррель

- а) Найдите равновесную цену газа при  $P_n = 8$   
 б) Определите эластичность предложения и эластичность спроса по цене в точке равновесия при  $P_n = 8$ .

в) Принесет ли дополнительный доход производителям газа уменьшение цены на 3%?

г) Найдите перекрестную эластичность газа по цене нефти в точке равновесия.

д) Найдите те же величины (а)–(г) при резком росте цены нефти до  $P_n = 16$ .

**4.12.** Функции спроса и предложения заданы:  $Q_d = 600 - 70 \cdot P$ ,  $Q_s = -400 + 30 \cdot P$ . При какой цене, устанавливаемой директивно, избыточное предложение будет равно величине спроса?

**4.13.** Найдите и начертите функцию «мгновенного» предложения в следующей ситуации. В городе три магазина, торгующих книгой И. В. Липсица «Экономика без тайн». Первый магазин торгует по цене 6500 рублей, имея запас 1000 книг; другой — по цене 7000 рублей при запасе 500 книг, а третий, имея 2000 книг, держит цену 7500 рублей.

**4.14.** Опрос показал, что максимальная цена ваучера, по которой готовы его купить, неодинакова для разных людей:

Количество человек	200	150	120	100	60	40
Максимальная цена ваучера, тыс.руб.	20	21	22	23	24	25

Можно ли построить функции спроса и предложения? Если да, то постройте.

**4.15.** Проанализируйте, при каких коэффициентах функции  $Q_d = A - a \cdot P - d \cdot P^2$  и  $Q_s = b \cdot P - B$  описывают типичные кривые спроса и предложения.

**4.16.** Предположим, что на рынке некоторого товара каждый продавец продает лишь одну единицу товара, а каждый покупатель стремится купить только один товар. В таблице приведены цены, по которым покупатели готовы приобрести, а продавцы согласны продать товар:

Покупатель	1	2	3	4	5	6
Цена, руб.	1500	1800	2250	3000	4000	4500
Продавец	1	2	3	4	5	6
Цена, руб.	1500	2000	3000	4500	5500	6000

- Найдите цену равновесия.
- Постройте зависимость объема продаж от цены.
- При установлении равновесия удастся ли купить товар третьему покупателю? А четвертому покупателю?

- г) Каков выигрыш шестого покупателя?  
 д) Сколько выиграют третий и четвертый продавцы?  
 е) Если бы продавцы пятый и шестой не вышли на рынок, как бы это повлияло на цену равновесия?  
 ж) Изменится ли точка равновесия, если третьему покупателю добавить 250 рублей? А 1250 рублей?  
 з) Постройте графики спроса и предложения.

**4.17.** Какие данные о спросе и предложении в предыдущей задаче нужно изменить, чтобы вместо точки равновесия образовался интервал? Чем объясняется этот эффект «неопределенности» равновесия?

**4.18.** Продавцы согласны продать единственный телевизор по цене, не ниже указанной в таблице, а покупатели готовы купить по цене, не выше указанной в таблице:

Покупатель	1	2	3	4	5
Цена, руб.	150	180	220	300	350
Продавец	1	2	3	4	5
Цена, руб.	150	200	300	400	450

- а) Определите шкалы спроса и предложения.  
 б) Что вы можете сказать о равновесной цене?  
 в) Определите равновесный объем продаж. Когда можно утверждать, какие именно продавцы продадут, а какие именно покупатели купят?

**4.19.** В условиях предыдущей задачи данные о спросе и предложении изменились:

Покупатель	1	2	3	4
Цена, руб.	150	160	180	186
Продавец	1	2	3	4
Цена, руб.	160	170	185	200

Какая цена в равновесном интервале уравнивает выгоды покупателей и продавцов?

**4.20.** Решите предыдущую задачу при следующих данных:

Покупатель	1	2	3	4	5	6
Цена, руб.	150	155	158	165	170	175
Продавец	1	2	3	4	5	6
Цена, руб.	140	150	155	160	170	180

**\*4.21.** На бирже торгуют стандартным товаром — фьючерсами на 100 т нефти, то есть документами на поставку товара в будущем. Брокеры-покупатели получили следующие заявки от своих клиентов на покупку фьючерсов со сроком поставки через 3 месяца:

Цена, тыс. долл.	14,4	14,5	14,6	14,7	14,8	14,9	15,0	15,1	15,2	15,3	15,4
Число заказов	1	2	3	4	5	4	3	2	2	1	1

При этом брокеры-продавцы получили следующие заказы (указано число предлагаемых фьючерсов):

Цена, тыс. долл.	14,5	14,6	14,7	14,8	14,9	15,0	15,1	15,2	15,3	15,4	15,5
Число предлагаемых к продаже фьючерсов	1	2	3	4	5	4	2	2	2	2	1

- Постройте шкалы и графики спроса и предложения.
- Найдите равновесную цену и равновесное предложение.

**4.22.** Покупатели имеют обычно порог чувствительности к цене. Например, увеличение цены холодильника на 10 тыс. руб. вряд ли остановит покупателя, тогда как рост цены на 50 тыс. руб., скорее всего, при прочих равных способствует перемене

решения. Опрос трех покупателей показал, что двое из них готовы купить холодильник по цене от 150 до 160 тыс. руб., а один — по цене 160–180 тыс. руб. Постройте шкалу и кривую спроса. Какова должна быть цена для максимизации прибыли продавца при оптовой цене?

- (а) 140 тыс. руб.
- (б) 160 тыс. руб.
- (в) 150 тыс. руб.

**\*4.23.** Покупатели и продавцы вышли на рынок некоторого товара со следующими предложениями по цене и количеству:

Покупатели	A	B	C	D	E	F
Цена, тыс. руб.	12	13	14	14,5	15	15,5
Количество	5	3	5	2	4	1

Продавцы	$t$	$x$	$y$	$z$
Цена, тыс. руб.	13,5	14,0	14,5	15,0
Количество	5	10	10	5

- а) Постройте шкалы и графики спроса и предложения.
- б) Что можно сказать о цене равновесия?
- в) Как изменится точка равновесия, если на рынок не выйдут покупатели  $B$  и  $D$ ?
- г) Сколько товаров приобрел каждый покупатель?
- д) Сколько товаров продал каждый продавец?
- е) Каковы выигрыши покупателя  $C$  и продавца  $t$ ?
- ж) Определите неудовлетворенный спрос и количество товаров, оставшихся нереализованными.
- з) Найдите общую выгоду (выигрыш) покупателей, участвовавших в сделках, и выгоду продавцов, сумевших продать свой товар.

**4.24.** Как бы вы оценили выгоду тех покупателей, которые сумели купить товары по цене, ниже максимально возможной

для себя, и выгоду тех продавцов, которые продали свой товар по цене, выше минимально возможной для себя, если:

$$Q_d = 400 - 2 \cdot P \text{ — функция спроса,}$$

$$Q_s = -100 + 3 \cdot P \text{ — функция предложения?}$$

**\*4.25.** Пусть функция полезности потребителя имеет вид:  $u(x, y) = V(x) + y$ , где  $x$  — потребление мороженого и  $y$  — прочие расходы. Найдите функцию спроса на мороженое при условии постоянства дохода  $I$ .

**4.26.** Допустим, предельная полезность, выраженная в рублях, меняется следующим образом с приобретением  $n$ -го товара:

$n$ -й товар	1	2	3	4	5	6	7
Прирост полезности, руб.	10 000	8000	7000	5000	3000	1000	0

Постройте шкалу спроса на основании этих данных.

**4.27.** Постройте кривые общей полезности, предельной полезности и спроса при следующих данных об общей полезности муки:

Количество, кг	1	2	3	4	5	6
Общая полезность, руб.	500	950	1350	1700	2000	2250

**4.28.** Является ли спрос на товар эластичным, если известно:

Цена (руб.)	Объем спроса (шт.)
500	300
700	240

**4.29.** Как повлияют на цену говядины следующие события?

- В стране увеличилось число любителей мяса.
- Поднялась цена на цыплят.
- Резко подскочили цены на корма для мясного скота.
- Врачи стали рекомендовать есть меньше мяса.

Подкрепите ваши доводы графически.

**\*4.30.** Оценка спроса тремя покупателями *A*, *B*, *C* выражается следующими шкалами:

ПОКУПАТЕЛЬ	Цена единицы товара, руб.					
	100	110	120	130	140	150
Покупатель <i>A</i>	1	1	1	1	1	1
Покупатель <i>B</i>	3	3	2	2	1	1
Покупатель <i>C</i>	1	1	1	0	0	0

Два производителя могут предложить следующее количество товаров в зависимости от цены:

Цена, руб.	110	120	130	140	150	160	170	180
Производитель <i>D</i>	0	1	1	2	2	3	4	5
Производитель <i>E</i>	1	2	2	3	3	4	4	5

- Постройте шкалы спроса и предложения.
- Определите эластичность спроса покупателя *A* и общего спроса при цене 120 руб.
- Найдите точку равновесия.

**4.31.** На рынке условного товара два производителя имеют две разные шкалы предложения:

$Q_1(1)$	0	10	20	30	40	50
$Q_1(2)$	10	40	55	65	70	70
<i>P</i> (в тыс. руб.)	1	1,2	1,4	1,6	1,8	2,0

Определите равновесную цену при функции спроса

$$Q_d = 103 - 20 \cdot p.$$

Можно ли сказать, сколько будет при этом продано товара всего и сколько продаст каждый продавец?

**4.32.** Представьте себе аукцион произведений искусства. Последний лот. Стартовая цена 50 тыс. долл. В зале осталось 100 человек. Аукционер опытным взглядом оценил ситуацию. Торговаться будут не более 50, остальные пришли «посмотреть». Все участники скрывают свою «функцию спроса», то есть свою предельную цену. (Почему?) Ведущий решил поднять стартовую цену до 60 тыс. В зале осталось 6 активных участников торгов. В дальнейшем цены росли так, как показано в таблице. В таблице указан номер участника, «проголосовавшего» за соответствующую цену.

Номер участника	1	2	3	1	4	5	6	Конец торгов
Цена, долл.	65	70	75	80	85	90	100	

Начертите нижнюю границу «функции спроса».

**4.33.** Можно ли определить эластичность спроса, если цена снизилась на 10%, а выручка при этом увеличилась на 8%?



## ГЛАВА 5

**ДЕНЬГИ И ИНФЛЯЦИЯ. ИНДЕКСЫ****Теория: Индексы**

Обозначения. Цены обозначаются буквой  $P$ , а количества —  $q$ . Базисная ситуация (базовый период) обозначается за 0, а текущая — за 1. В наборе  $n$  товаров пронумерованы от 1 до  $N$ . Таким образом,

$\{P_{10}, P_{20}, \dots, P_{N0}\}$  — набор цен на товары 1, 2, ...,  $N$  в базовом периоде, а

$\{q_{10}, q_{20}, \dots, q_{N0}\}$  — набор соответствующих количеств.

В текущем году также формируются два аналогичных набора. Общие затраты на приобретение набора товаров  $\{P_0\}$  в базовом периоде есть сумма, потраченная на покупку товара 1 ( $P_{10} \cdot q_{10}$ ), плюс расходы на товар 2 ( $P_{20} \cdot q_{20}$ ) и так далее:

$$P_{10} \cdot q_{10} + P_{20} \cdot q_{20} + \dots + P_{N0} \cdot q_{N0} = \sum_{i=1}^N P_{i0} \cdot q_{i0}. \quad (5-1)$$

В математике такого рода суммы «неопределенной длины» для краткости записывают так, как показано в правой части равенства (5-1).

Греческой буквой  $\sum$  (сигма) обозначено действие суммирования, буквой  $i$  — индекс суммирования (тоже индекс, но математический), пределы суммирования по  $i$  от 1 до  $N$  показаны снизу и сверху. В экономической статистике введены упрощающие понимание обозначения:

$\sum P_0 \cdot q_0$  означает суммирование расходов на базовые количества ( $q_0$ ) в ценах базового периода  $P_0$ ;

суммы  $\sum P_0 \cdot q_0$  и  $\sum P_1 \cdot q_1$  оценивают, сколько в действительности стоила потребительская корзина в базовом и текущем периодах;

$\sum P_1 \cdot q_0$  — сколько бы стоила потребительская корзина базового периода в ценах текущего периода;

$\sum P_0 \cdot q_1$  — сколько бы стоила потребительская корзина текущего периода в ценах базового периода.

Изменение цен и структуры потребления предопределяют два индекса цен и два индекса количества! Либо индекс цен опирается на количества базового года (тогда это базисно-взвешенный индекс), либо при определении индекса цен используются объемы потребления текущего года (тогда это текуще-взвешенный индекс).

Точно так же существуют два индекса количества. Они показывают, как изменились физические объемы потребления, выраженные через расходы на потребительскую корзину. Базисно-взвешенный индекс количества (физического объема) оценивает изменения в ценах базового периода, а текуще-взвешенный — в ценах текущего периода.

Запомните правило: при расчете индексов цен фиксируется набор товаров, а при вычислении индексов объема используются постоянные цены.

### Базисно-взвешенные индексы

Индекс цен (5.5)  
(индекс Ласпейреса)

$$IP(0) = \frac{\sum P_1 \cdot q_0}{\sum P_0 \cdot q_0}$$

показывает изменение расходов на «старую» потребительскую корзину

Индекс (5.6)  
физического объема  
(индекс количеств)

$$IQ(0) = \frac{\sum P_1 \cdot q_1}{\sum P_0 \cdot q_0}$$

показывает изменение расходов на потребительскую корзину в «старых» ценах

Текуще-взвешенные индексы

Индекс цен (5.7)  
(индекс Плаше)  $IP(1) = \frac{\sum P_1 \cdot q_1}{\sum P_0 \cdot q_1}$  показывает изменение расходов на «новую» потребительскую корзину

Индекс (5.8)  
физического объема  
(индекс количеств)  $IQ(1) = \frac{\sum P_1 \cdot q_1}{\sum P_1 \cdot q_0}$  показывает изменение расходов на потребительскую корзину в «новых» ценах

Тот индекс, которым мы, как правило, пользуемся, предложил выдающийся американский экономист и статистик Ирвинг Фишер. Это среднее геометрическое между базисными и текущими индексами:

$$I = \sqrt{I_a \cdot I_r} \tag{5-2}$$

Приведем пример расчетов индексов для 4 товаров, определяя изменения, произошедшие с августа по сентябрь 1992 года для семьи из двух человек. Эти расчеты сделаны московскими школьниками.

Товары	Базовый период: август 1992 года		Текущий период: сентябрь 1992 года	
	Цена, руб.	Количество, кг	Цена, руб.	Количество, кг
Масло	170	3	200	2
Сыр	140	2	160	2
Хлеб	10	30	20	25
Мука	20	4	40	2

Базисно-взвешенный индекс цен:

$$IP(0) = \frac{\sum P_1 \cdot q_0}{\sum P_0 \cdot q_0} = \frac{200 \cdot 3 + 160 \cdot 2 + 20 \cdot 30 + 40 \cdot 4}{170 \cdot 3 + 140 \cdot 2 + 10 \cdot 30 + 20 \cdot 4} = 1,4359, \text{ или } 143,59\%.$$

Текуще-взвешенный индекс равен 142,86%, а индексы физического объема составили соответственно 77,77% и 77,38%.

Таким образом, индексы Фишера равны:

$$\begin{aligned} I_{\text{цен}} &= 143,22\%; \\ I_{\text{объема}} &= 77,57\%. \end{aligned}$$

## Задачи с решениями

**5.А.** «Инфляционным налогом» называют часть доходов, сгорающих в огне инфляции.

Инженер подрядился сделать работу в течение месяца за 200 тыс. руб. Определите «инфляционный налог», или сколько потеряет инженер, потому что не получил плату вперед при инфляции, равной 50% в месяц?

*Решение:*

$$\left(1 - \frac{1}{1,5}\right) \cdot 100\% = 33,3\%, \text{ или } 66,7 \text{ руб.}$$

**5.Б.** Инфляция в 1994 году составила 220%, индекс роста цен в 1995 году был равен 2,3. Во сколько раз выросли цены в течение 1994–1995 годов?

*Решение:*

Индекс роста цен в 1994 году был равен:

$$\frac{100\% + 220\%}{100\%} = 3,2.$$

Индекс роста цен за 1994–1995 годы составил:

$$3,2 \cdot 2,3 = 7,36.$$

*Ответ:* в 7,36 раза.

## Задачи для самостоятельного решения

**5.1.** В стране Эколандии за год изменились цены, объемы выпуска, объемы продаж трех основных продуктов:

Продукт	Прошлый год			Текущий год		
	средняя цена	объем продаж	объем выпуска	средняя цена	объем продаж	объем выпуска
A	200	300	300	300	400	500
B	300	300	300	400	300	300
C	400	300	400	500	300	400

Что можно сказать об уровне цен?

**5.2.** Индекс потребительских цен снизился до 85%.

Как изменилась покупательная способность денежной единицы?

**5.3.** Перед вами задача из школьного учебника по математике: «Рабочий день увеличился с 8 до 10 часов. На сколько процентов должна повыситься производительность труда, чтобы при тех же расценках зарплата возросла на 50%?» Примените индексный метод.

**5.4.** В 1990 году выпуск чугуна составил 100 млн. т, а в 1991 году — 120 млн. т. Каков выпуск чугуна в 1992 году, если соответствующий индекс 1992 года равен 95%?

**5.5.** Дом, купленный в январе 1985 года за 10 тыс. рублей, был продан в январе 1992 года за 1,5 млн. рублей. Инфляция по годам составляла:

1985	1986	1987	1988	1989	1990	1991
10%	15%	20%	40%	60%	200%	600%

Выиграли вы или проиграли и на сколько процентов?

**5.6.** Дом, купленный в январе 1987 года за 10 тыс. рублей, вы продали в январе 1990 года за 150 тыс. рублей. Инфляция по годам составляла:

1987	1988	1989	1990
20%	40%	60%	200%

Выиграли вы или проиграли и на сколько процентов?

**5.7.** Вычислите индексы по следующим данным опроса школьников о продовольственной корзине семьи из трех человек.

Наименование	Сентябрь 1989 года		Сентябрь 1993 года	
	Цена, руб.	Количество	Цена, руб.	Количество
Мясо	2	20 кг	120	10 кг
Молоко	0,36	30 л	14	10 л
Масло	3,60	4 кг	200	2 кг
Творог	1	5 кг	45	5 кг
Сметана	1,70	5 кг	61	2 кг
Рис	0,88	4 кг	48	2 кг
Гречка	0,56	2 кг	60	2 кг
Хлеб	0,18	30 б.	16	50 б.
Картофель	0,1	20 кг	20	30 кг
Капуста	0,16	15 кг	30	5 кг
Морковь	0,25	5 кг	25	2 кг

**5.8.** Вычислите индекс занятости в машиностроении в Великобритании в 1973 году по сравнению с 1972 годом, если в июне 1972 года занятых было 963 тыс., а в июне 1973 года — 942,4 тыс. Индекс вычислите с точностью до десятых долей процента.

**5.9.** Вычислите индекс занятости во всей промышленности в Великобритании в 1973 году по сравнению с 1972 годом, если в июне 1972 года занятых было 7613,3 тыс., а в июне 1973 года — 7604,0 тыс. Индекс вычислите с точностью до десятых долей процента.

**5.10.** Вычислите индекс физического объема.

Вычислите индекс 3-го года по отношению к первому ( $I(1,3)$ ), если известно, что объем выпуска  $V(1) = 1000$  единиц,  $V(2) = 1080$  единиц, а  $I(3) = 99\%$ .

**5.11.** Вычислите индекс физического объема.

Вычислите индекс 3-го года по отношению к первому ( $I(1,3)$ ), если известно, что объем выпуска  $V(1) = 2000$  единиц,  $V(2) = 1900$  единиц, а  $I(3) = 120\%$ .

**5.12.** Инфляция составляет 500%, а номинально зарплата выросла в 3 раза. Каков индекс реальной заработной платы?

**5.13.** Цена куклы «Барби» увеличилась с 1200 в сентябре до 1800 руб. в октябре. На сколько процентов должно упасть количество продаж, чтобы спрос на куклы «Барби» считался эластичным, если за этот месяц инфляция составила 20%?

**5.14.** У вас два варианта вложения капитала на два года с условием реинвестирования прибыли:

Годовая прибыль (в процентах)

Год	1-й вариант	2-й вариант
1-й	20	10
2-й	10	20

Какой вариант и на сколько процентов (по отношению к исходному капиталу) лучше без учета инфляции? Сколько процентов составила реальная прибыль по каждому варианту при ежегодной инфляции 5%?

**5.15.** У вас два варианта вложения капитала на два года с условием реинвестирования прибыли:

Годовая прибыль (в процентах)

Год	1-й вариант	2-й вариант
1-й	30	20
2-й	10	20

Какой вариант и на сколько процентов (по отношению к исходному капиталу) лучше без учета инфляции? Сколько процентов составила реальная прибыль по каждому варианту при ежегодной инфляции 10%?

**5.16.** Стартовая цена брокерского места на МТБ в 1990 году составляла 70 тыс. руб. В 1991 году — 3,5 млн. руб. Брокеры считают, что ценность места по сравнению с прошлым годом возросла примерно в 10 раз, судя по объему продаж в натуральном выражении. Какой вывод можно сделать об инфляции за год? Совпадает ли ваша оценка инфляции с общепринятой, полученной по потребительской корзине?

**5.17.** В сказочной стране Эколандии население потребляет только два продукта. Определите индекс цен и физического объема по продовольствию, пользуясь следующими данными:

Яйца (в десятках)				Картофель (в кг)			
Потребление, дес.		Стоимость, дес.		Потребление, кг		Стоимость, кг	
прош- лый год	теку- щий год	прош- лый год	теку- щий год	прош- лый год	теку- щий год	прош- лый год	теку- щий год
30 000	29 000	13	39	1 000 000	1 100 000	10	22

**5.18.** Даны таблица количеств и таблица цен:

Цены

Объемы

Продукт	год	0	1	Продукт	год	0	1
A		5	10	A		20	15
B		10	15	B		15	12



Как отличаются текуще-взвешенный и базисно-взвешенный индексы цен? А индексы физического объема? Подберите цифры, чтобы эти отличия увеличились. Можно ли подобрать такие данные, чтобы разница между индексами увеличилась в несколько раз? Может ли один индекс составлять 50% другого?

**5.19.** Вычислите индекс роста цен конца 1979 года к ценам конца 1976 года, если известны:

$$I(1976) = 108\%, \quad I(1977) = 100\%, \\ I(1978) = 95\%, \quad I(1979) = 105\%$$

**5.20.** В течение 3 лет инфляция составляла 10% ежегодно. Вашему другу не удалось вложить свой капитал в дело в течение этого времени. На сколько в процентном отношении он проиграл?

**5.21.** Инфляция в первом году составила 20%, а во втором — 40,833%. Какова среднегодовая инфляция за два года?

**5.22.** В течение 3 лет ваше предприятие имело следующие результаты при реинвестировании всей прибыли:

- 1-й год — 50% прибыли по отношению к вложенному капиталу;
- 2-й год — 200 тыс. руб. убытков;
- 3-й год — 20% прибыли по отношению к капиталу на начало

года.

Какова сумма вложенного капитала, если общая прибыль за 3 года достигла 5% с учетом инфляции, составившей по годам 5%, -5%, 5%?

**5.23.** Стоимость предприятия в ценах конца 1990 года составила 2 млн. руб. В течение 1991 года в предприятие было вложено 500 тыс. руб. в ценах на конец 1990 года. Какова реальная стоимость предприятия в тех же ценах, если оценка фондов предприятия выросла за 1991 год на 10% в текущих ценах, а инфляция составила 50%?

**5.24.** На сколько процентов снизилась покупательная способность рубля в октябре 1992 года по сравнению с декабрем 1991 года на продовольственном рынке, если индекс роста средних розничных цен по 70 основным продовольственным товарам в России за этот период составил 1000%?

**5.25.** Вычислите индекс роста цен с 31 декабря 1986 года по 31 декабря 1989 года, если индексы по годам составляли:

1986	1987	1988	1989	1990
108%	100%	95%	105%	113%

**5.26.** Определите «инфляционный налог» в годовом исчислении, если в первые 4 месяца инфляция составляла 12% ежемесячно, а в последующие месяцы уменьшилась до 5% в месяц. («Инфляционный налог» показывает, на сколько процентов обесценился рубль за год.)

**5.27.** Индекс потребительских цен в 1993 году, по разным оценкам, составил

от 897,5% (Центр экономической конъюнктуры правительства РФ)  
до 950% (Госкомстат РФ).

а) В каких пределах оценивается изменение покупательной способности рубля за год?

б) Что такое «инфляционный налог» и какова его оценка на основании приведенных данных?

**5.28.** Что можно сказать об изменении скорости обращения денег, если денежная масса выросла на 5%, объем производства упал на 10%, а индекс цен составил 1,4?

**5.29.** Как можно оценить выигрыш или проигрыш заемщика, получившего кредит под 200% годовых с возвратом суммы кредита и процентов через год, если эта ставка процента сложилась на рынке ссудного капитала, в том числе и под влиянием прогноза инфляции, на уровне 300% годовых, а на самом деле инфляция составила 700% в год?

**5.30.** Цена купленной вами акции за три года выросла в 6 раз, а за те же три года инфляция составила по годам 140, 80 и 60%. Определите индекс реальной стоимости акции за эти три года.

## ГЛАВА 6

## БАНКИ И БАНКОВСКАЯ СИСТЕМА

## Теория: Сравнение условий кредиторов

Люди, и особенно банкиры, с давних времен заметили, что кредиты могут даваться и действительно даются на разных условиях. Одно и то же число, фигурирующее в различных кредитных договорах в качестве процента, означает иногда разные реальные цены кредита. Например, 50% годовых вперед — это совсем не то, что 50% после года пользования кредитом. Действительно, при уплате 50% вперед заемщик получает на руки 50% кредита и возвращает 100% через год, то есть платит 100% годовых. Тогда как, заплатив за 100% кредита на руки в начале года 150%, в конце года мы имеем только 50% годовых. Этот пример прост, но в жизни и крупные кредиты, и мелкие бытовые нередко и получают частями, и возвращаются не сразу, тоже частями. Не зная основ финансовой математики, люди плохо ориентируются в этих своеобразных ценах рынка ссудного капитала. Необходимость общего стандарта цен очевидна. В качестве эталона используется **эффективная ставка процента** (термин, принятый в Европе и в России), или, что то же самое, **APR** (термин, принятый в США от начальных букв *Annual Percentage Rate* — годовая ставка процента). Эффективная ставка процента ( $i_e$ ) определяется как ставка продукта для следующей стандартной схемы кредита:

$$t = 1 \text{ год}$$


100% суммы кредита  
выдается заемщику в  
начале года

100% суммы кредита +  
 $i_e$  погашается заемщи-  
ком в конце года

Математически, используя общепринятые банковские правила или правила, специально оговоренные в кредитных договорах, можно оценить любую схему кредита через *APR*. Важность этого трудно переоценить. В Америке принят федеральный закон, который требует информировать заемщиков об истинной цене кредита, то есть об *APR*. А заемщиками в рыночной экономике выступают все! Это и владельцы кредитных карточек, это и покупатели в рассрочку, которые используют так называемый потребительский кредит, это, естественно, и фирмы, и государство. Схема эффективной ставки процента нуждается в уточнении: как определять сумму процента для срока меньше года? Следуя обычной банковской практике, для этого используют простой процент, если процент годовых не слишком высок — до 40–50%. В условиях инфляции высокий процент обчисляется по правилу сложного процента сначала по кварталам, затем по месяцам, а в худшем случае — по неделям и дням. Четких и однозначных правил в мире банков на этот счет нет.

В условиях инфляции возникает необходимость учета роста цен. Соответствующая ставка процента получила название реальной:

$$1 + i_p = \frac{1 + i_n}{\text{индекс роста цен}},$$

где  $i_p$  и  $i_n$  — реальный и номинальный проценты.

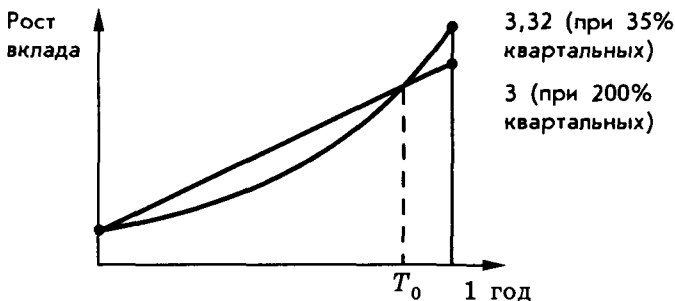
Может ли ставка банковского процента быть отрицательной?

Номинальная — вряд ли, а реальная — да. Когда инфляция обгоняет ставку процента, то реально в банке деньги не растут, а уменьшаются. Так было в России в начале 90-х годов. Например, в 1993 г. инфляция составила 950%, а банк «Империял» давал 650% годовых. Таким образом, реальная ставка процента была отрицательной:

$$\left[ \frac{100 + 650}{100 + 950} - 1 \right] \cdot 100\% = -28,6\%.$$

### Задачи с решениями

**6.А.** Как выгоднее оформить бессрочный вклад: под 200% годовых или под 35%, начисляемых ежеквартально? Учтите, что «внутри» года и «внутри» квартала во втором случае банк начисляет простые проценты.



**Решение:**

До какого-то момента  $T_0$  выгоднее иметь 200% годовых, а после  $T_0$  — 35% «квартальных».

Например, за I квартал по первому варианту получим:

$$\frac{200}{4} = 50\%,$$

а по второму — только +35%, но при  $t = 1$  год:

$$(1,35^4 - 1) \cdot 100\% = 232\% > 200\%.$$

Фактически в задаче нужно найти  $T_0$  из уравнения

$$(1,35)^n \cdot \left(1 + \frac{35}{100} \cdot \frac{T_0 - 90 \cdot n}{90}\right) = 1 + \frac{200}{100} \cdot \frac{T_0}{360}$$

при  $0 \leq T_0 - 90 \cdot n < 90$ , где  $n$  — целое число кварталов в течение периода  $T_0$ , а  $T_0$  измеряется в днях по банковским правилам (в месяце 30 дней).

Решение этого уравнения с двумя неизвестными не столь уж очевидно.

1. Для начала найдем  $n$ :

$$n = 3, \text{ так как } (1,35)^3 = 2,46 < 1 + \frac{3}{4} \cdot 2 = 2,5.$$

2. Имеем в результате уравнение с одним неизвестным:

$$1,35^3 \cdot \left( 1 + \frac{T_0 - 270}{90} \cdot 0,35 \right) = 1 + \frac{T_0}{180}.$$

Отсюда  $T_0 = 279,97 = 280$  дней, точнее — это 10-й день четвертого квартала, так как расчет ведется по правилам коммерческих банков.

Следовательно, ответ: до 10-го дня четвертого квартала выгоднее иметь 200% годовых, а после — выгоднее становятся условия ежеквартальной индексации по 35%.

**6.Б.** Заемщик получил 500 тыс. руб. в кредит на следующих условиях: вернуть через год 300 тыс. руб. и еще через год — 405 тыс. руб. Какая эффективная ставка процента предусмотрена этим кредитным договором?

*Решение:*

Приводим выплаты к начальному моменту, обозначив через  $x$  эффективную ставку процента в долях:

$$\frac{300}{1+x} + \frac{405}{(1+x)^2} = 500,$$

откуда  $x = 0,2$ , или 20%.

**6.В.** Две фирмы предлагают проекты строительства дома отдыха. Первая берется построить за два года и просит в первом году 200 млн. руб., а во втором — 300 млн. руб. Вторая фирма нуждается в трехлетних инвестициях: 90, 180 и 288 млн. руб. соответственно. Какой из этих проектов дешевле, если для сравнения использовать 20%-ную ставку дисконтирования?

*Решение:*

$$\text{Оценка I варианта (в млн. руб.): } 200 + \frac{300}{1,2} = 450.$$

$$\text{Оценка II варианта: } 90 + \frac{180}{1,2} + \frac{288}{1,44} = 440.$$

**6.Г.** Что было для вкладчика лучше в 1993 году: 500% годовых в рублях или 35% — в долларах, если курс доллара вырос с 450 руб. до 1250 руб. (расходами на конвертацию можно пренебречь), а инфляция составила примерно 900%?

*Решение:*

Обозначим через  $I(R)$  индекс роста номинального рублевого вклада:

$$I(R) = \frac{100 + 500}{100} = 6.$$

Индекс же роста номинального долларového вклада составил:

$$I(D) = \frac{100 + 35}{100} = 1,35,$$

что в переводе на номинальный рублевый вклад дало:

$$I'(D) = 1,35 \cdot \frac{1250}{450} = 3,75.$$

Но при инфляции в 900% индекс цен равен 10. Поэтому реальные вклады сокращались:

$$\bar{I}(R) = 0,6, \text{ а } \bar{I}(D) = 0,375.$$

Потери на условиях 500% годовых в рублях составляют только 40% реальной стоимости вклада, а на условиях 35% в долларах — 62,5%, что значительно хуже.

## Задачи для самостоятельного решения

**6.1.** Почему банку выгодно работать даже в условиях отрицательной ставки процента и по кредитам, и по депозитам? Допустим, процент по депозитам  $i_d$ , а по кредитам  $i_k$  при инфляции в 1%. При каких соотношениях банку работать выгодно?

**6.2.** Что выгоднее банкиру: обычный (банковский) учет векселей:  $P = S \cdot \left[ 1 - \frac{n \cdot d}{360} \right]$  или оплата векселей по формуле математического дисконтирования:

$$P \cdot \left[ 1 + \frac{n \cdot d}{360} \right] = S,$$

где  $P$  — цена векселя;

$S$  — номинальная сумма долга;

$d$  — ставка дисконтирования (дисконт) в долях;

$n$  — число дней, оставшихся до выплаты суммы  $S$  по векселю.

**6.3.** Определите эффективную ставку процента за потребительский кредит, который предоставляется на следующих условиях:

— 40% стоимости плюс 5% в качестве платы за кредит вносятся сразу;

— оставшиеся 60% стоимости покупки оплачиваются через год.

**6.4.** Банкир берет 8% с уплатой вперед за годовой кредит. Определите эффективную процентную ставку при возврате всех 100% от суммы кредита в конце года.

**6.5.** Найдите *APR* (эффективную ставку процента) при ставке 6% за трехмесячный кредит при погашении и суммы, и процента в конце периода.

**6.6.** Начислите проценты по кредиту, выданному на 2 года и 7 месяцев под 12% годовых. Используйте правила обычной практики банков.

**6.7.** В состав услуг банка входит учет векселей под 360% годовых. Сколько вы можете выручить за вексель на 2 млн. руб. со сроком погашения через 45 дней?

**6.8.** Должник фирмы выписал вексель на сумму 90 млн. руб. со сроком погашения через 30 дней — 8 марта 1994 года. Но деньги фирме нужны сейчас. Один коммерческий банк предлагает дисконтировать (математически) сумму векселя по ставке ЦБР плюс 30 пунктов, то есть под  $210 + 30 = 240\%$ . Другой банк согласен учесть вексель на обычных условиях по ставке ЦБР. Чьи условия выгоднее? Определите дисконты в обоих случаях.

**6.9.** Банкир берет 50% годовых с годового кредита по стандартной схеме: проценты вместе с суммой кредита возвращаются через год. Каков реальный процент годовых с поправкой на инфляцию, составляющую 30%?

**6.10.** Кредитный договор предусматривает выплату процентов и возврат суммы в конце периода и следующий порядок начисления процентов: 6% за первый год, а за каждые последующие полгода начисляются дополнительно еще 0,5%, но при этом действует правило простых процентов. Определите сумму выплат процентов по кредиту на 2,5 года в сумме 10 млн. руб. Будет ли для заемщика выгоден обычный договор на условиях 5% годовых с выплатой в конце срока кредита суммы кредита с процентами?



**6.11.** Банкир просит уплатить в качестве процента за кредит 250 тыс. руб. в момент выдачи номинальной суммы кредита, равной 1,5 млн. руб., сроком на полгода. Найдите реальную эффективную ставку процента при инфляции, составляющей 1% в месяц.

**6.12.** Определите, что выгоднее и насколько: взять в кредит в банке под сложный процент из расчета 20% годовых на 2 года или под 22%, выплачиваемые ежегодно.

**6.13.** В течение одного года можно вычислять процент двумя способами: «коммерчески», беря за базу 360 дней, и «точно» с базой 365 дней. Определите разницу между процентами, вычисленными этими двумя способами, по 3-месячному кредиту с 1 марта по 31 мая включительно, данному под 300% годовых.

**6.14.** Вам предлагают за 200 тыс. руб. купить 22 ноября вексель, выписанный на 220 тыс. руб. с датой погашения 12 декабря того же года. Определите учетную ставку.

**6.15.** В современных условиях проценты капитализируются не один, а несколько раз в год. Найдите *APR* (годовую стандартную ставку процента), если проценты начисляются ежеквартально в размере 20%, то есть сумма вклада или долга автоматически увеличивается на 20% в квартал.

**6.16.** Что выгоднее банкиру и насколько в переводе на *APR*: начислять по вкладам (депозитам) 40% ежеквартально или 10% ежемесячно?

**6.17.** Найдите среднюю процентную ставку, то есть процент, дающий тот же результат, что и следующая переменная ставка, составляющая 8% в первый год, 10% — во второй и 12% — два последующих года.

**6.18.** Имеются два обязательства:

- 91 млн. руб. с оплатой через 4 месяца и
- 96 млн. руб. с оплатой через 9 месяцев.

При какой ставке простого дисконтирования (учетной ставке банка) они эквивалентны?

**6.19.** Банк обещает по депозитам 900% годовых, но экономисты оценивают инфляцию на уровне 1100%. Какова реальная ставка банковского процента?

**6.20.** На сколько процентов удалось уменьшить «инфляционный налог», вложив средства на год в бессрочные депозитные сертификаты под 350% годовых при инфляции 800%?

**6.21.** Страховой фонд создается годовыми рентными платежами по 100 тыс. руб. в год, которые вносятся в конце года, начиная с 1994 года. Страховая компания гарантирует 200% роста в год. Какая сумма накоплена к 01.01.99?

**6.22.** Найдите приведенную к настоящему моменту сумму рентных платежей при фиксированной величине ренты в 1000 долл. под 9% годовых, если еще только предстоит платить ренту в течение 5 лет.

**6.23.** Какую сумму надо ежегодно вносить в банк начиная с сегодняшнего дня под 25% годовых, чтобы через 5 лет накопить 1 млн. долл.?

**6.24.** Какой из двух вариантов годового кредита выгоднее для заемщика:

а) 20% вперед;

б) 10% вперед плюс 13% после окончания года вместе с возвратом всей суммы кредита?

**6.25.** Договаривающиеся стороны считают эквивалентными 100 000 долл. сейчас и 207 360 долл. через 4 года. Найдите принятую сторонами ставку дисконтирования.

**6.26.** Пусть восьмилетняя рента под 10% с платежом 5000 долл. откладывается на 3 года. Найдите новый размер годового платежа.

**6.27.** Сколько нужно положить в банк под 5% годовых, чтобы выплачивать владельцу ренту в 100 тыс. руб. в год, а сумма на счете в банке была бы неизменна?

**6.28.** Соседний банк дает 200% годовых по стандартной схеме. Ваш банк начисляет проценты ежеквартально. Какую ставку годовых нужно объявить, чтобы «выйти» на те же 200% APR?

**6.29.** Государство заняло сумму у банка на условиях «вечной ренты», то есть согласилось выплачивать ежегодно по 1 млн. руб., не возвращая долга. Какова минимальная сумма кредита, если, заключая договор, стороны исходили из 10% годовых за такой кредит?

**6.30.** Заемщику предоставлен льготный период, в течение которого он выплачивает 15% ежегодно с суммы кредита и в конце срока возвращает всю сумму целиком. Найдите *APR*, если кредит дан на 5 лет.

**6.31.** Стороны договорились ежемесячно индексировать сумму долга в 30 млн. руб. на величину инфляции, а также погасить весь долг за три месяца, выплачивая ежемесячно по 1/3 долга плюс набравшие проценты. Определите все три суммы выплат при начислении 1% за месячный кредит, если в первый месяц инфляция составляет 20%, во второй — 25%, а в третий — 15%.

**6.32.** Определите сумму на сберегательном счете на 1 апреля, если:

а) вклад на 1 января составлял 400 000 рублей;

б) процентная ставка равнялась 24% годовых, но с 1 февраля введена новая ставка — 36%.

**6.33.** Вексель с уплатой через 90 дней 1 млн. руб. куплен за 750 тыс. руб. и через 30 дней продан за 850 тыс. руб. Определите доходность этой операции в рублях и в *APR*.

**6.34.** Некая фирма «встала на ноги», получив деньги в размере 150 млн. рублей 1 июля 1991 года. На какую сумму могут рассчитывать лица, ссудившие фирму деньгами, по состоянию на 01.01.94? Ставка Центрального банка росла за этот период следующим образом:

Дата изменения	01.07.91	01.10.91	01.01.92	01.07.92
Процент годовых	40%	60%	80%	100%

Дата изменения	01.01.93	01.07.93	01.08.93	01.09.93	01.10.93
Процент годовых	120%	140%	160%	180%	210%

**6.35.** При какой ставке дисконтирования стоимость двух проектов одинакова?

Капиталовложения по годам:

Проект 1	150	700	—
Проект 2	400	300	70

**6.36.** Определите доходность ссудной операции на основе расчета *APR*, если при выдаче ссуды удерживаются комиссионные в размере 1,5%, а погашение ссуды в 3000 долл. осуществляется ежегодными платежами в 1050 долл. в течение 3 лет.

**6.37.** Какой процент годовых при оценке векселя со сроком погашения через 45 дней по формуле математического дисконтирования эквивалентен учетной ставке коммерческого учета векселей под 360%?

**\*6.38.** Объявлена следующая схема (стратегия) погашения годового кредита: в конце каждого квартала погашается сумма, равная 5% суммы кредита, а в последнем квартале плюс к погашению 5% возвращается и вся сумма кредита. В течение этого года коммерческие банки принимают срочные вклады на 3–9 месяцев под 30% годовых с начислением простых процентов. Какова действительная цена кредита (эффективная ставка)?

**\*6.39.** Вычислите *APR* для кредитного договора, согласно которому за первые полгода надо вернуть не только 5%, но и половину суммы кредита, а по истечении второй половины года следует вернуть не только оставшуюся часть кредита, но и 7% от суммы кредита.

**\*6.40.** Потребительский кредит дается на следующих условиях:  
— 40% покупки оплачивается сразу плюс 5% от стоимости покупки в качестве платы за кредит;

— оставшаяся сумма вносится так:

\* 30% через 3 месяца;

\* еще 30% через 6 месяцев.

Найдите эффективную ставку процента.

**\*6.41.** Заемщик должен вернуть 102 тыс. долл. через 72 дня и 206 тыс. долл. через 108 дней. Он просит консолидировать платежи и согласен вернуть 308 тыс. долл. На какую отсрочку может рассчитывать заемщик при одной и той же 10%-ной годовой ставке?

**\*6.42.** Определите срок ежегодной ренты в 700 долл., для того чтобы накопить 10000 долл., если рента копится под 15% годовых.

**\*6.43.** Заемщик должен 5 лет выплачивать по 1 млн. руб. в счет погашения займа. Но когда нужно было делать первый взнос, денег не оказалось и заемщик попросил банк об отсрочке и был согласен в течение последующих 4 лет погасить долг равными взносами под 13% годовых. Определите сумму этого взноса.

**\*6.44.** Как удержание комиссионных из расчета 1% от суммы кредита увеличивает эффективность ссуды с позиций кредитора при 4-летнем сроке кредита?

**6.45.** Определите доходность ссудной операции, если ссуда предоставляется на 2 года на условиях ежегодной выплаты процента из расчета 6% за первый год и 6,5% за второй год. Изменится ли как-нибудь доходность, если процент, наоборот, равен 6,5% за первый год и 6% за второй год?

**6.46.** Выведите формулу зависимости депозитного мультипликатора от нормы банковского резерва.

**6.47.** Доля банковских счетов в денежной массе, находящейся в обращении, составляет 70%. На сколько процентов изменится вся денежная масса, если норма банковского резерва снизится с 20% до 10%?

**6.48.** За какой срок окупятся инвестиции в сумме 85 тыс. долл., взятых в кредит, если процент, который надо выплачивать за кредит ежегодно, составляет 7%, а ожидаемая отдача равна всего 5 тыс. долл. в год?

**6.49.** Сумма инвестиций равна 100 тыс. долл., предполагаемая отдача составляет 20 тыс. долл. в год. За какой срок окупятся инвестиции, если на долг начисляются 8% годовых?

Предполагается, что вся прибыль образуется в конце каждого года и тогда же надо платить проценты за кредит.

**6.50.** По условиям кредита его можно вернуть в любой удобный для заемщика момент в течение года. Кредит дан под 240% годовых с помесечной уплатой процентов. Взяв кредит в сумме 1 млн. руб. в начале года, предприниматель вкладывает средства в торговые операции, каждый раз сроком на один месяц, получая 40% прибыли на вложенный капитал. Как наилучшим образом предприниматель может спланировать свои взаимоотношения с банком, если на иные кредиты ему рассчитывать не приходится и через год он сворачивает дело?

**6.51.** Предыдущую задачу можно усложнить: каким должно быть соотношение в будущем году инфляции, роста курса доллара и платы за конвертацию, чтобы процент в рублях был выгоднее процента в долларах?

**6.52.** При покупке до 01.01.96 г. 500 акций концерна «Гермес» вы становитесь владельцем однокомнатной квартиры.

Умные люди подсчитали, что для этого надо было вложить в акции 2 тыс. долл. в начале 1994 г.

Определите эффективность вложений через эффективную ставку процента.

**6.53.** Ставка банковского процента равна 90%, а инфляция составляет 160%. Эффективен ли проект с ожидаемой прибылью от инвестиций в 70%?

**6.54.** Под какой процент нужно давать займы на неделю при условии непрерывности таких операций, чтобы выйти на ту же месячную доходность, что и при кредите на 1 месяц под 210% годовых? Ответ дайте в процентах годовых.

## ГЛАВА 7

# РЫНОК ТРУДА

### Задачи с решениями

**7.А.** Найдите уровень безработицы в областях  $A$  и  $B$ , если: производительность на одного работающего в области  $A$  выше на 3%, чем в области  $B$ , а на душу населения — ниже на 5%; безработица в области  $B$  выше в 1,5 раза, чем в области  $A$ ; доля экономически активного населения в области  $A$  составляет 60%, а в области  $B$  — 68%.

*Решение:*

Обозначим через  $a$  и  $b$  соответственно неизвестные уровни безработицы в областях  $A$  и  $B$ . Как известно, уровень безработицы измеряется в процентах от численности экономически активного населения. Введем также производительность одного работающего — соответственно  $P(a)$  и  $P(b)$ .

Тогда  $P(a) = 1,03 \cdot P(b)$ , а в пересчете на душу населения имеем следующее соотношение производительностей:

$$P(a) \cdot \frac{60 \cdot (1-a)}{100} \cdot 1,05 = P(b) \cdot \frac{68 \cdot (1-b)}{100}.$$

Кроме того,  $b = 1,5a$ .

Из этих уравнений находим, что

$$a = 0,09147, \text{ или } \approx 9,15\%, \text{ а } b = 13,72\%.$$

### Задачи для самостоятельного решения

**7.1.** Зарплата выросла на 10%, а цены на 5%. Что можно сказать об уровне жизни, если производительность труда увеличилась на 8%?

**7.2.** Инфляция составляет 24,5% в месяц. Сколько она в среднем съедает при задержке выплаты зарплаты на 7 дней?

**\*7.3.** Нефтяники не получали зарплату в течение трех месяцев — с сентября по ноябрь. В самом начале декабря им выплатили всю причитающуюся им номинальную зарплату. Обычно они получают зарплату равными долями дважды в месяц: 15-го числа и в 1-й день следующего месяца. Какую максимальную компенсацию своих потерь из-за инфляции они могли бы потребовать 1 декабря, если номинально начислено в сентябре по 400 тыс. руб., в октябре — по 500 тыс. руб., а в ноябре — по 600 тыс. руб., при инфляции, составлявшей соответственно 10, 20 и 15% в месяц?

**7.4.** В мастерской по изготовлению матрешек месячный выпуск зависит от количества мастеров, каждый из которых целиком производит матрешки, выполняя самостоятельно все необходимые для этого операции:

Кол-во работников	1	2	3	4	5	6
Месячный выпуск, шт.	200	480	800	1000	1150	1315

1) Найдите число работников, при котором достигается максимум прибыли, если зарплата мастера составляет 160 тыс. руб., а отпускная оптовая цена куклы равна 1 тыс. руб.

2) Постройте шкалу спроса данной мастерской на труд.

**7.5.** С увеличением числа работающих в ресторане средняя производительность труда изменяется так:

Кол-во работников	1	2	3	4	5	6
Производительность, долл./час	3	3,2	3,1	2,9	2,7	2,6

Какой должна быть часовая ставка заработной платы, чтобы выгоднее всего было нанять 4 рабочих?

**7.6.** К сожалению, предпринимателям выгодно нарушать законы, в том числе и в трудовой сфере, конечно, если они на этом



не попадают. Насколько российскому предпринимателю выгоднее платить зарплату «вчерную», избегая всякой отчетности, если подоходный налог составляет 13%, а начисления на фонд заработной платы равны 40% от величины фонда?

**7.7.** В конечном счете, спрос монополиста на труд ограничен спросом на товар, выпускаемый монопольно. Постройте шкалу спроса на труд при фиксированных капитальных ресурсах по следующим данным:

Число работающих	2	3	4	5	6	7
Выпуск продукции, шт./нед.	20	35	50	63	75	85
Цена, DM/шт.	10	9	8	7	6	5

**7.8.** Определите чистую месячную заработную плату работников бюджетной сферы с учетом обязательного удержания 12% подоходного налога и 1% отчислений в пенсионный фонд (до уплаты ежегодного подоходного налога по налоговой декларации) исходя из минимальной заработной платы, равной 200 00 руб., и единой тарифной сетки:

Разряд	...	11	12	13	14	15	...
Коэффициент	...	4,51	5,1	5,76	6,51	7,36	...

а) чиновника 15-го разряда, имеющего 40% надбавки к окладу за сверхурочные;

б) учителя 11-го разряда, имеющего дополнительную почасовую нагрузку из расчета 20 часов по 5 тыс. руб. за час.

**7.9.** Во сколько обходится оплата труда экономиста-консультанта банку, если экономист согласится работать 2 дня в неделю при оплате 6 млн. руб. в год «чистыми»? Налоги и начисления все время меняются, но вы ориентируйтесь на следующие цифры:

- 40% — общие начисления на фонд заработной платы;
- 1% — отчисления в пенсионный фонд из зарплаты работника;

12% — подоходный налог на сумму зарплаты, не превышающую 3 млн. руб. в год;

20% — налог на сумму оплаты труда от 3 до 6 млн. руб. в год;

30% — подоходный налог на сумму, превышающую 6 млн. руб. в год.

Кроме того, предприятие платит в бюджет специальный налог 32% на сумму превышения шестикратного уровня минимальной заработной платы, составляющей 20 тыс. руб. в месяц.

**7.10.** Вычислите уровень безработицы в городе по следующим данным:

— численность населения: 100 тыс.;

— численность работающих: 48 тыс., в том числе работающих пенсионеров 2 тыс.;

— детей и лиц пенсионного возраста: 41 тыс.;

— нетрудоспособных лиц в трудоспособном возрасте: 3 тыс.

**7.11.** Постройте кривую предложения труда трех строителей-каменщиков, подходящих по своей квалификации малому предприятию «Три +» и ведущих себя экономически рационально, то есть соглашающихся на любую работу, где платят больше:

\* Безработный Джон согласен работать 8 часов в день за любую плату, превышающую пособие по безработице, которое составляет 500 долл. в неделю. По этическим соображениям он согласится работать еще 4 часа сверхурочно — только за двойную оплату.

\* Йохан устроился бухгалтером, зарабатывая 5,99 долл. в час. При любых условиях он будет работать только 8 часов в день.

\* Иван согласен работать не более 12 часов в день, если будет получать не менее чем в два раза больше, чем у себя на родине, где его зарплата составляет 440 тыс. руб. в месяц при среднем числе рабочих дней в месяце — 22 и курсе доллара — 2000 руб./долл. Кстати, Иван имеет предложение работать учителем русского языка в школе за 4,99 долл. в час в течение 4 часов ежедневно.

**7.12.** Допустим, население одного из регионов России составляет 15 млн. человек, из них:

— детей до 16 лет — 4,5 млн.;

— лиц, находящихся в психиатрических больницах и исправительных учреждениях, — 0,3 млн. человек;  
 — пенсионеров — 3,2 млн. человек;  
 — безработных — 0,7 млн. человек;  
 — занятых неполный рабочий день — 0,3 млн. человек.  
 Определите уровень безработицы.

**7.13.** Вычислите наиболее достоверную оценку естественного уровня безработицы по следующим данным за 3 года:

Год	Уровень безработицы, в %			
	Фрикционная	Структурная	Циклическая	Застойная
1	1,4	2,5	0,5	0,2
2	1,2	2,8	3,1	0,2
3	1,3	2,8	1,8	0,2

**7.14.** Найдите уровень безработицы в поселке, если из 1000 человек трудоспособного населения 12 человек не работали весь год, 60 человек сменили работу, истратив на поиски новой работы в среднем по одному месяцу, еще 4 человека не имели работы по 6 месяцев каждый.

**7.15.** Вычислите структурную безработицу в поселке, насчитывающем 1000 работоспособных, если в связи с реконструкцией производства с 1 февраля 60 человек сменили профессию, затратив на переподготовку и поиск новой работы в среднем по 4 месяца, а 24 человека оставались безработными с февраля по декабрь.

**7.16.** Дайте количественную оценку тем видам безработицы, для которых это возможно, и поясните свои выводы на основе следующего фрагмента:

«В результате реконструкции предприятия в этом году ликвидировано 800 рабочих мест, а вновь открыто только 600, занятых затем не только работниками данного предприятия. В среднем на переквалификацию и поиск работы тратится 3 месяца. В течение

этого года на пенсию вышли 50 тыс. человек, из которых 20 тыс. продолжили трудиться».

**7.17.** Сколько стоит час досуга, если известно, что  $Y_0$  — дневной доход из нетрудовых источников,  $Y$  — общий доход,  $L$  — рабочее время, а  $w$  — ставка почасовой заработной платы?

**7.18.** Изобразите на графике изменение бюджетного ограничения при прогрессивном налогообложении доходов.

## ГЛАВА 8

# ТЕОРИЯ ПРОИЗВОДСТВА И РЫНОЧНАЯ СТРУКТУРА

### Теория: Издержки и прибыль

Предприниматели каждый день сталкиваются с простыми и понятными затратами и, если повезет, то и с прибылью. Экономисты же и здесь умудрились все запутать. Во-первых, они различают два метода соизмерения затрат и результатов: бухгалтерский и экономический. Во-вторых, исходя из разной роли в обороте капитала и с целью поиска максимума прибыли, разделяют постоянные (точнее, фиксированные) и переменные издержки. В-третьих, техническая сторона поиска оптимума в поведении фирмы требует введения маржинальных величин. В-четвертых, в своих решениях люди часто оперируют средними издержками и средней выручкой. Иногда это корректно, а иногда и нет.

#### 1. Доход.

*Доходом* называют общую сумму средств, поступившую на расчетный счет за какой-либо период. Доходы делят на выручку и внереализационные доходы. Выручка — это платежи от покупателей за реализованную продукцию. Если производится один вид продукции, то выручка равна произведению цены на количество проданных товаров:  $R = P \cdot Q$ . При нескольких видах производимых фирмой товаров общая выручка складывается из частных:

$$R = \sum P_i \cdot Q_i.$$

Внереализационные доходы включают все остальные поступления, например: пени, штрафы и неустойки, полученные предприятием от неаккуратных контрагентов, доходы от акций и других ценных бумаг, комиссионные и прочие. При анализе результатов работы фирмы экономическая теория принимает во внимание только выручку.

## 2. Бухгалтерский и экономический подходы для сопоставления затрат и результатов.

### *Бухгалтерские затраты и прибыль.*

Бухгалтерские затраты — это реально произведенные платежи внешним поставщикам, иначе именуемые внешними издержками. При этом мы абстрагируемся от внереализационных издержек. Остаток дохода за вычетом бухгалтерских затрат называется валовой или бухгалтерской прибылью. Если из валовой прибыли вычесть налоги и другие обязательные платежи, то образуется чистая прибыль.

### *Экономические затраты и прибыль.*

Экономические затраты, помимо бухгалтерских, включают так называемые внутренние издержки, то есть затраты на ресурсы, принадлежащие предпринимателю, и нормальную прибыль. И то и другое оценивается через альтернативную стоимость. Допустим, предприниматель использует в производственном процессе принадлежащее ему помещение. Экономисты полагают, что соответствующие затраты должны быть учтены. Но как? Ведь никто никому ничего не платил. Бухгалтер здесь бессилен. Экономист же считает, что эту площадь можно было бы использовать иначе, например сдать в аренду. Если это наилучший способ извлечения дохода, то увеличиваем внутренние издержки на величину арендной платы.

Нормальная прибыль тоже величина гипотетическая. Есть по меньшей мере три варианта ее толкования. Первый подход определяет нормальную прибыль как прибыль наилучшего из возможных применений предпринимательской способности. В таком варианте экономическая прибыль, в лучшем случае, равна нулю. Этот подход хотя и экономически оправданный, но неконструктивный. Второй вариант рассматривает экономическую прибыль как среднюю по отрасли. Наконец, третий подход определяет ее как наибольшую прибыль от нерискового, не предпринимательского использования, с которым чаще всего ассоциируется банковский вклад. Во втором и третьем случаях экономическую прибыль называют еще и сверхприбылью.

Общая структура анализа доходов и расходов в экономической теории приведена на рис. 8-1.

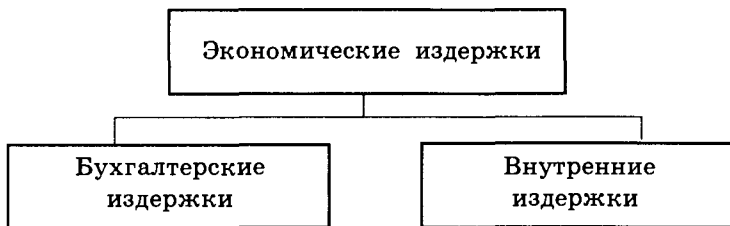
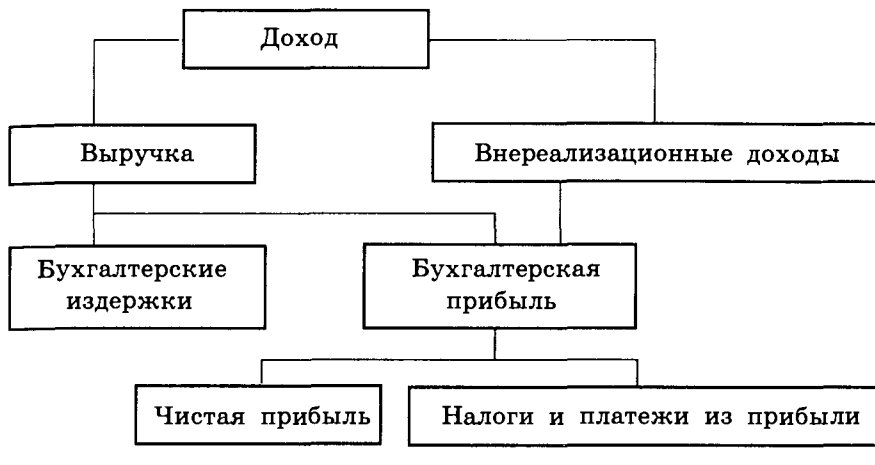


Рис. 8-1. Структура доходов, затрат и результатов

### 3. Постоянные и переменные затраты.

Постоянные (они же фиксированные, условно-постоянные) и переменные (условно-переменные) в зависимости от чего? Не от времени, а от объема выпуска продукции ( $Q$ ). Те затраты, которые изменяются с изменением выпуска, называются переменными (*variable cost*). Издержки, не зависящие от объема выпуска, именуются постоянными или, точнее, фиксированными (*fixed cost*). В мгновенном периоде предприниматель никак не может изменить затраты и выпуск, поэтому все затраты рассматриваются как постоянные. В краткосрочном периоде какие-то ресурсы можно увеличить и, соответственно, вырастет объем выпуска. Значит, есть и переменные и постоянные затраты. В долгосрочном периоде все затраты рассматриваются как переменные.

Одна и та же статья затрат может быть отнесена в разных случаях к разным затратам. В школе затраты на электроэнергию, скорее всего, постоянные, фиксированные. На алюминиевом заводе издержки на электроэнергию почти прямо пропорциональны выпуску и, следовательно, относятся к переменным.

*Обозначения и соотношения:*

$TVC$  (или  $VC$ ) — общие переменные затраты (от английского *total variable cost*);

$TFC$  (или  $FC$ ) — фиксированные затраты (*total fixed cost*);

$TC$  — общие затраты:  $TC = FC + VC$ .

### 4. Средние и маржинальные (предельные) издержки.

В один и тот же момент времени можно произвести различное количество продукции. При этом средние издержки, то есть затраты в среднем на единицу продукции, будут зависеть от выпуска. Сначала средние затраты снижаются за счет лучшего использования фиксированных затрат, затем растут из-за необходимости вкладывать все больше и больше ресурсов для получения дополнительной единицы продукции. Поэтому маржинальные за-

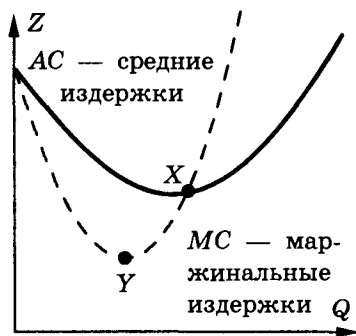


Рис. 8-2. Средние и маржинальные издержки



траты, то есть затраты на выпуск дополнительной единицы продукции, и средние затраты связаны между собой так, как это изображено на рисунке 8-2.

*Вопросы:*

- 1) Охарактеризуйте точку  $X$ .
- 2) В чем заключается особенность участка  $YX$ ?
- 3) Почему кривые  $AC$  и  $MC$  стартуют из одной точки  $Z$ ?

*Эффект масштаба (экономия от масштаба).*

Если с ростом выпуска продукции средние затраты снижаются, то говорят, что наблюдается положительный эффект масштаба. Таково, например, положение в энергетике. Если издержки не зависят от масштаба производства, то это нулевой эффект масштаба. Он достигается при постоянных затратах на каждую дополнительную единицу продукции. И, наконец, если с ростом выпуска растут и средние издержки, то это отрицательный эффект масштаба. В сельском хозяйстве легко наблюдать все три эффекта при незначительных вариациях выпуска продукции.

*Обозначения и соотношения:*

$AC = TC/Q$  — общие средние затраты или просто средние затраты;

$AFC = FC/Q$  — соответственно, средние фиксированные и

$AVC = VC/Q$  — средние переменные затраты;

$MC = \frac{\Delta TC}{\Delta Q}$  — маржинальные затраты, или прирост затрат на дополнительную единицу продукции.

## Теория: Анализ производства

Максимальный выпуск продукции  $Q$  традиционно описывается производственной функцией  $f$ :

$$Q = f(F_1, F_2, \dots, F_n),$$

где  $F_i$  представляет количество затраченного фактора  $i$ . Обычно ограничиваются рассмотрением только двух факторов: труда ( $L$ )

и капитала ( $K$ ). Вводятся средний  $AP = Q/F_i$  и маржинальный (предельный)  $MP = Q/F_i$  продукты факторов. В силу закона убывающей предельной производительности обе эти функции, начиная с какого-то момента, являются убывающими с ростом затрат фактора.

Самостоятельно объясните изменение среднего и предельного продуктов труда в зависимости от величины затрат труда, что показано на рис. 8-3.

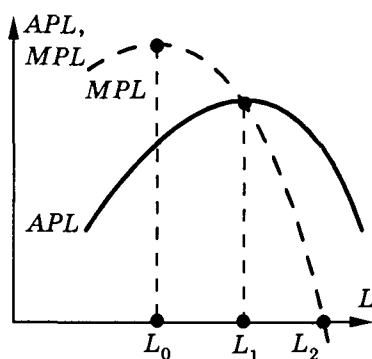
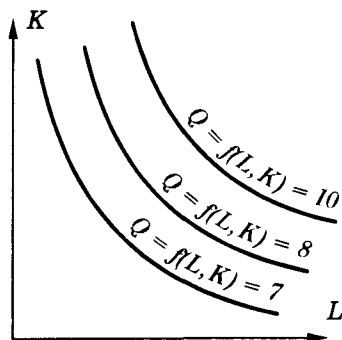


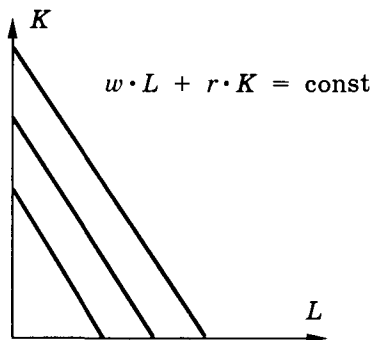
Рис. 8-3. Изменение среднего и маржинального продуктов труда с ростом затрат

#### Изокванта и изокоста.

Изокванта — это линия (поверхность, в общем случае) постоянства выпуска продукции при различных комбинациях затрат ресурсов. Изокоста — это линия постоянства затрат. Закон убывающей предельной производительности определяет вид изокванты — это вогнутая кривая (см. рис. 8-4).



а) Семейство изоквант.



б) Семейство изокост:  
 $w$  — ставка заработной платы;  $r$  — цена капитала, то есть ставка процента.

Рис. 8-4. Изокванта и изокоста

*Максимум прибыли.*

Обозначим за  $MR$  предельный продукт в денежном выражении, или предельную выручку:  $MR = \Delta R / \Delta Q$ . Аналогично введем предельные затраты  $MC = \Delta TC / \Delta Q$ .

Условие максимума прибыли:  $MR = MC$ . Попробуйте вывести его логически.

Другое правило максимума прибыли:  $MRP_i = P_i$  для всех факторов. На графике максимум прибыли достигается в точке касания изокванты и изокосты или на другом графике в точке пересечения маржинальной отдачи и маржинальных затрат.

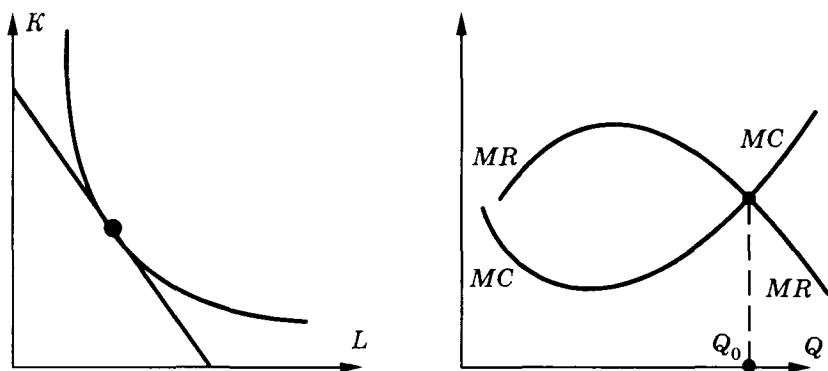


Рис. 8-5. Максимум прибыли

*Правило наименьших издержек* заключается в том, что последний рубль, затраченный на каждый ресурс, дает одинаковый предельный продукт. В этом и только в этом случае издержки минимальны при некотором постоянном выпуске продукции:

$$\frac{MPR_1}{P_1} = \frac{MPR_2}{P_2} = \dots = \frac{MPR_n}{P_n},$$

где  $P_i$  — цены факторов,  $MPR_i$  — маржинальная отдача фактора:

$$MPR_i = \Delta R / \Delta F_i.$$

Действительно, если это равенство нарушено, то можно «переложить» затраты на тот ресурс, взвешенная предельная производительность которого максимальна, за счет менее производительных ресурсов.

*Норма замещения.*

При движении вдоль изокванты один фактор замещает другой:

$$MPL \cdot \Delta L + MPK \cdot \Delta K = 0.$$

Отсюда норма замещения  $MRTS$  равна:

$$MRTS = -\frac{\Delta K}{\Delta L} = \frac{MPL}{MPK}.$$

## Теория: Рынки и цены

Наиболее емкий признак того или иного рынка — это рыночная власть, то есть способность продавца или покупателя влиять на цену товара. Наибольшая рыночная власть у монополиста и монополиста, хотя и эта власть не абсолютна. Для монополиста она ограничена спросом, а для монополиста — предложением.

Совершенная конкуренция практически недостижима. В наибольшей степени к ней приближаются рынки зерна и валют.

В долгосрочном периоде на рынке совершенной конкуренции соблюдается условие нулевой экономической прибыли и

$$MR = MC = AC = P.$$

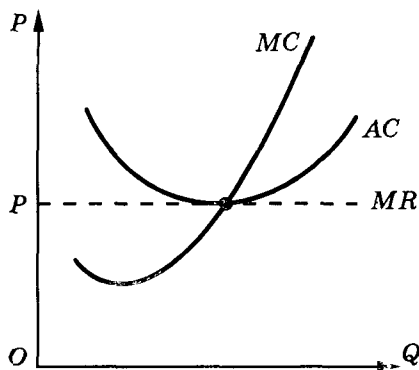


Рис. 8-6. Экономические затраты и прибыль в условиях совершенной конкуренции

Бухгалтерскую прибыль производители, естественно, получают, а их поведение диктуется затратами на производство.

На другом полюсе расположена чистая монополия, где границы фирмы и отрасли совпадают. Чистая монополия довольно типична. В городе может быть одна электростанция, одна железная дорога, одна больница. В США 5% ВВП создается в условиях, близких к чистой монополии.

Цена и объем производства монополиста ограничены спросом и издержками (рис. 8-7).

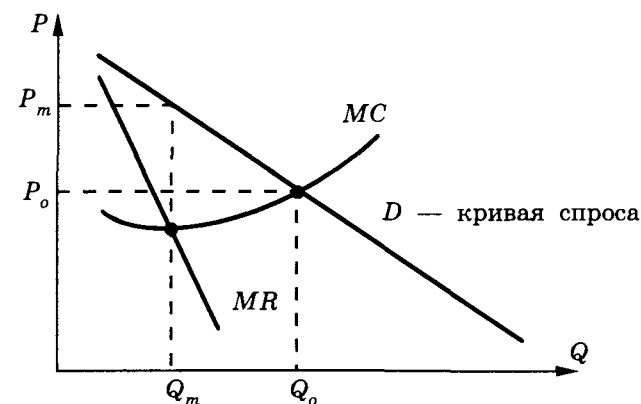


Рис. 8-7. Определение объема производства и цены при монополии

Обозначения:

$TC$  — общие (*total*) затраты (*cost*);

$TVC$  (или просто  $VC$ ) — общие переменные (*variable*) затраты;

$TFC$  (или  $FC$ ) — общие фиксированные (*fixed*) затраты;

$AC$ ,  $AFC$ ,  $AVC$  — средние (*average*), соответственно общие, фиксированные и переменные затраты;

$MC$  — маржинальные (*marginal*), или предельные, затраты;

$TR$ ,  $MR$ ,  $AR$  — выручка (*revenue, return*), соответственно общая, маржинальная и средняя.

Формулы	Комментарий
$TC = TVC + TFC$ $VC = TC - FC$ при $Q = 0; TC = FC$	Общие затраты есть сумма фиксированных и переменных со всеми следствиями
$AC = \frac{TC}{Q}$	Средние затраты — это общие затраты, деленные на выпуск
$AVC = \frac{VC}{Q}$ $AFC = \frac{FC}{Q}$	Аналогично вычисляются средние переменные и средние фиксированные
$MC = \frac{\Delta TC}{\Delta Q}$	Прирост затрат на дополнительную единицу продукции
$TR = Q \cdot P$	Выручка равна количеству, умноженному на цену
$MR = \frac{\Delta TR}{\Delta Q}$	Прирост выручки на дополнительную единицу продукции
$AR = \frac{TR}{Q}$	Средняя выручка — это общая выручка $Q$ , деленная на выпуск

## Задачи с решениями

**8.А.** Постоянные затраты монополиста составляют 400 млн. руб. в год, переменные затраты на единицу продукции составляют 10 тыс. руб. Спрос в интервале цен от 30 до 50 тыс. штук описывается линейной функцией в тыс. шт.:  $100 - 1,4 \cdot P$ , где  $P$  — цена в тыс. руб. При какой цене достигается максимум прибыли?

*Решение:*

Приведем решение с полным выводом всех формул. Пусть  $P$ ,  $q$  и  $\Pi$  — неизвестные цена, количество и прибыль:

$$\Pi(P, q) = R(P, q) - C(q),$$

где  $R$  — выручка, а  $C$  — производственные затраты.

$$R(P, q) = P \cdot q,$$

$$C(q) = F + V(q) = F + v \cdot q,$$

где  $F$ ,  $V$  — постоянные и переменные расходы,

$v$  — удельные расходы ( $v = 10$  тыс. руб./шт.).

Количество  $q$  ограничено спросом:

$$q \leq D_d(P) = D - d \cdot P,$$

где  $D = 100$  тыс. шт., а  $d = 1,4$  тыс. шт./тыс. руб. = 1,4 шт./руб.

Итак, математически задача формулируется следующим образом:

$$\Pi(P, q) = P \cdot q - v \cdot q - F \rightarrow \max$$

$$\text{при } q \leq D_d(P) = D - d \cdot P.$$

При цене ( $P$ ), большей, чем переменные издержки на единицу продукции ( $v$ ), выгодно производить максимально возможное для продажи количество товаров, то есть ограничивающее неравенство превращается в равенство:

$$q = D - d \cdot P,$$

и путем подстановки получаем:

$$- d \cdot P^2 + (D + d \cdot v) \cdot P - D \cdot v - F \rightarrow \max \text{ (по } P \text{)}.$$

Максимум квадратичной формы с отрицательным коэффициентом при квадрате ( $-d$ ) достигается в точке среднего арифметического корней:

$$\text{цена: } P = \frac{P_1 + P_2}{2} = \frac{D + d \cdot v}{2d} = 40,714 \text{ тыс. руб.};$$

$$\text{количество: } q = \frac{D - d \cdot v}{2} = 43 \text{ тыс. шт.},$$

где  $D = 100$ ;  $d = 1,4$ ;  $v = 10$ ;

максимальная прибыль:

$$\Pi_{\max} = \frac{[D - d \cdot v]^2}{4d} - F = 1178 - 400 = 778 \text{ млн. руб.}$$

**8.Б.** Предприятие находится в условиях совершенной конкуренции. Цена установилась на уровне 10 тыс. руб. Зависимость общих затрат от выпуска продукции представлена в таблице:

Выпуск (шт.)	Общие затраты (тыс. руб.)
10	80
11	86
12	93
13	102
14	113
15	125

Какой объем производства выберет предприятие, максимизирующее прибыль?

*Решение:*

Применим маржинальный анализ. До тех пор пока маржинальная (предельная) отдача будет превышать маржинальные (предельные) затраты, следует увеличивать выпуск продукции. В общепринятых обозначениях этот критерий может быть записан так:  $MR > MC$ .

Выпуск (шт.)	Общие затраты (тыс. руб.)	Маржинальные затраты $MC$ (тыс. руб.)	Маржинальная отдача $MR$ (тыс. руб.)	Маржинальная прибыль $MP$ (тыс. руб.)
10	80	—	10	—
11	86	6	10	4
12	93	7	10	3
13	102	9	10	1
14	113	11	10	-1
15	125	12	10	-2



В данном случае  $MR = P$ , то есть отдача возрастает при фиксированной цене каждый раз на эту самую цену. Из составленной таблицы следует, что, выпустив тринадцать единиц продукции, нужно остановиться, так как четырнадцатая единица принесет уменьшение общей прибыли на 1 тыс. руб.

*Ответ:* 13.

**8.В.** Допустим, общие затраты конкурентной фирмы на выпуск  $Q$  единиц продукции составляют  $Q^2 - 16 \cdot Q + 74$ . Сколько нужно выпускать, чтобы прибыль была максимальной, если рынок диктует цену, равную 20 единицам? Какова эта максимальная прибыль?

*Решение:*  $MC = 2 \cdot Q - 16$ , условие максимизации прибыли  $MC = MR$ , а в данном случае  $MR = P$ , следовательно,  $Q_0 = 18$ ,  $TC = 110$ ,  $TR = 360$ , прибыль равна 250.

**8.Г.** Затраты на 1000 единиц продукции формировались исходя из следующего:

- заработная плата — 20 млн. руб.;
- сырье и материалы — 30 млн. руб.;
- здания и сооружения — 250 млн. руб.;
- оборудование — 100 млн. руб.

Продана вся продукция по цене 122,5 тыс. руб., норма амортизации зданий и сооружений составляет 5%, а срок службы оборудования в среднем равен 5 годам. Определите прибыль от уплаты налогов.

*Решение:*

Затраты:  $20 + 30 + 0,05 \cdot 250 + 0,2 \cdot 100 = 82,5$  млн. руб.

Выручка:  $122,5$  тыс. руб.  $\cdot 1000 = 122,5$  млн. руб.

Прибыль:  $122,5 - 82,5 = 40$  млн. руб.

**8.Д.** Среднегодовая стоимость основных фондов составляет 100 млн. руб., в том числе:

- здания — 20 млн. руб. (норма амортизации 7%);
- оборудование — 15 млн. руб. (10%);
- ЭВМ — 5 млн. руб. (12%);
- транспорт — 50 млн. руб. (10%);
- прочие — 10 млн. руб. (12%).

Стоимость произведенной за год продукции 120 млн. руб  
 Определите годовую сумму амортизации, начисляемую прямо линейным методом, и фондоотдачу.

*Решение:*

Перед вами одна из простейших задач традиционной для советского периода экономики промышленности. Тем не менее своей актуальности она не потеряла, и ее решение в школе не должно вызывать вопросов.

Сумма амортизационных отчислений определяется так:

$$0,07 \cdot 20 + 0,1 \cdot 15 + 0,12 \cdot 5 + 0,1 \cdot 50 + 0,12 \cdot 10 = 9,7.$$

А фондоотдача показывает, сколько рублей продукции «снято» с одного рубля основных фондов:  $120/140 = 0,857$ , или 85,7%

В популярной ныне американской терминологии основные фонды именуется капитальными ресурсами, а фондоотдача называется чаще всего просто отношением «продукт/капитал»

**8.Е.** В условиях монополии с ростом выпуска продукции цена на нее падает. Сформулируйте условие максимизации прибыли и решите задачу при следующих данных:

Выпуск (Q), шт.	Цена (P), руб.	Общие затраты (ТС), руб.
1	4000	1500
2	3000	2500
3	2500	3000
4	2000	5000
5	1500	8500

*Решение:*

Максимум прибыли будет достигаться при равенстве маржинальной выручки  $MR(Q)$  и маржинальных затрат  $MC(Q)$ . Увеличивать выпуск монополист может до тех пор, пока маржинальная выручка будет больше затрат на дополнительную единицу продукции

Для определения оптимального объема производства следует рассчитать общую выручку ( $TR = P \cdot Q$ ), прибыль ( $\Pi = TR - TC$ ), предельные затраты ( $MC$ ) и предельную выручку

$$MR = \frac{\Delta TR}{\Delta Q}.$$

Выпуск в единицу ( $Q$ ), шт.	Цена ( $P$ ), руб.	Затраты общие ( $TC$ ), руб.	Общая выручка ( $TR$ ), руб.	Прибыль ( $\Pi$ ), руб.	Предельные затраты ( $MC$ ), руб.	Предельная выручка ( $MR$ ), руб.
1	4000	1500	4000	2500	1000	2000
2	3000	2500	6000	3500	500	1500
3	2500	3000	7500	4500	3000	500
4	2000	5000	8000	3000	3500	- 500
5	1500	8500	7500	- 1000		

Максимум достигается при выпуске трех единиц продукции.

## Задачи для самостоятельного решения

8.1. Предприятие находится в условиях совершенной конкуренции. Зависимость общих затрат от выпуска продукции представлена в таблице:

Выпуск (шт.)	Общие затраты (руб.)
0	4
1	6
2	10
3	16
4	28
5	42

На рынке установилась цена на уровне 10 руб. Какой объем производства выберет предприятие?

**8.2.** Какова максимальная выручка монополиста, если спрос вплоть до пересечения с осями описывается линейной функцией  $Q_d = b - a \cdot P$ ?

**8.3.** Предприятие выпускало в период с 1989 по 1992 год 2 типа двигателей. Определите изменение производительности по годам, если мощность двигателей равна: для типа *A* – 30 единиц, а для типа *B* – 50 единиц.

Выпущено двигателей	1989 г.	1992 г.
Тип <i>A</i> , шт.	20	25
Тип <i>A</i> , цена	25	30
Тип <i>B</i> , шт.	70	68
Тип <i>B</i> , цена	10	15

Для каких измерений можно использовать мощность двигателей?

**8.4.** Вычислите индекс производительности труда на предприятии, если в базовом периоде работало 100 человек, а в текущем — 90 человек при следующей динамике выпуска продукции:

		Базовый период	Текущий период
Продукт <i>A</i>	количество	50	55
	цена	100	200
Продукт <i>B</i>	количество	70	60
	цена	80	150
Продукт <i>C</i>	количество	—	10
	цена	—	400

**8.5.** Стоимость продукции 100 млн. руб. оплачивается в рассрочку ежемесячно равными долями в течение 6 месяцев под 20% в месяц. Найдите месячный взнос, если платежи начинаются через месяц после покупки.

**8.6.** Первоначальная стоимость оборудования составляла 240 млн. руб., а ликвидационная стоимость после 10 лет эксплуатации — 20 млн. руб. в неизменных ценах.

а) Найдите ежегодную сумму амортизационных отчислений прямым методом.

б) Определите амортизационные отчисления при использовании так называемого погасительного фонда под 10% годовых.

**8.7.** Среднегодовая стоимость основных фондов 245 млн. руб., в том числе:

- здания — 96,4 (норма амортизации 2,8%);
- сооружения — 24,4 (6%);
- передаточные устройства — 19,6 (8%);
- силовые машины и оборудование — 17,2 (7,5%);
- рабочие машины и оборудование — 108,4 (11,5%);
- ЭВМ — 19,0 (12%);
- транспорт — 18,0 (10%);
- прочие — 20,0 (12%).

Стоимость произведенной за год продукции равна 255 млн. руб.

Определите годовую сумму амортизации, начисляемую прямым методом, и фондоотдачу.

**8.8.** Затраты на 1000 единиц продукции формировались исходя из следующего:

- заработная плата — 20 млн. руб.;
- сырье и материалы — 30 млн. руб.;
- здания и сооружения — 250 млн. руб.;
- оборудование — 100 млн. руб.

Продана вся продукция по цене 122,5 тыс. руб., норма амортизации зданий и сооружений составляет 5%, а срок службы оборудования в среднем равен 5 лет. Определите прибыль до уплаты налогов.

**8.9.** Выведите функцию средних издержек от объема выпуска продукции  $AC(Q)$ , если маржинальные издержки линейно уменьшаются с ростом объема

$$MC(Q) = a - b \cdot Q.$$

Начертите графики обеих функций.

**8.10.** Затраты фирмы на производство 10 тыс. единиц продукции в течение года составили:

- заработная плата — 25 млн. руб.;
- сырье и материалы — 9 млн. руб.

Кроме того, фирма арендовала производственные помещения за 48 млн. руб. в год и использовала собственное оборудование, стоимость которого составляла в текущих ценах 300 млн. руб., а срок окупаемости — 10 лет. В конце года все затраты были произведены и учтены. Удалось реализовать 100% выпущенных изделий по цене 12 тыс. руб. за штуку. Определите прибыль, накопленную к концу года. Составьте баланс доходов и расходов, именуемый в бухгалтерском учете счетом прибылей и убытков.

**8.11.** В течение года предприятие равномерно в конце каждого месяца осуществляло производственные затраты. Бухгалтерия за фиксировала общую сумму затрат, равную 600 млн. руб. Инфляция была также равномерной и в годовом исчислении составила 40%. Как оценивается общая сумма затрат в ценах на конец года?

**8.12.** На каком уровне должен установить цену монополист, имеющий постоянные затраты  $f$  и удельные переменные затраты  $v$ , чтобы максимизировать свою прибыль при следующих данных отдела маркетинга: абсолютная потребность в продукте равна  $D$ , а с увеличением цены на каждый рубль величина спроса падает на  $d$  единиц?

- а) Каков должен быть объем выпуска?
- б) Как изменится формула для расчета оптимальной цены, если с увеличением цены на каждые 100 рублей величина спроса будет падать на  $d$  единиц?

в) Определите наибольшую прибыль в предположении, что спрос задан кривой  $Q = D/P$

г) Найдите оптимальные цену и прибыль при ином законе изменения величины спроса:

$$q = \max \left\{ 0, \frac{D}{P} - Q_0 \right\}.$$

**\*8.13.** Изменение затрат труда при постоянстве затрат других ресурсов, по расчетам технологов, должно привести к следующим результатам:

Затраты труда ( $L$ )	Выпуск продукции ( $Q$ )	Предельная (маржинальная) производительность труда ( $MPL$ )	Средняя производительность труда ( $APL$ )
3		////////////////////	1300
///////	///////	1300	////////////////////
4		////////////////////	
///////	///////		////////////////////
5	6400	////////////////////	
///////	///////		////////////////////
6		////////////////////	1250

а) Заполните пропуски в таблице.

б) При каком уровне затрат труда достигается максимум прибыли, если цена труда — 12 000 долл., а цена продукции — 10 долл.?

в) В каком диапазоне цен максимум прибыли будет при  $L = 5$  и при цене труда, равной 15 000 долл.?

**8.14.** Рассчитайте предельный продукт труда, валовой доход и предельный доход и заполните следующую таблицу:

Единицы труда	Валовой продукт	Предельный продукт труда, тыс. руб.	Цена ед. продукта, тыс. руб.	Валовой доход, тыс. руб.	Предельный доход (предельный продукт в денежном выражении), тыс. руб.
1	23	?	30	?	?
2	41		30		
3	55		30		
4	65		30		
5	71		30		
6	76		30		
7	79		30		

а) Сколько работников наймет фирма, если ставка заработной платы равна 28 000 руб.? 53 000 руб.? 63 000 руб.? 89 000 руб.? Почему ни одним больше и ни одним меньше?

б) Представьте графически кривую спроса на труд данной фирмы.

**\*8.15.** Допустим, фирма считает свой доход максимальным, когда продукт обходится ей не дороже 380 руб. и когда при каждой из указанных в приводимой ниже таблице альтернативных технологиях выпускается желаемый объем продукции.

Фактор производства	Цена за ед., тыс. руб.	Технологии (ед. ресурса)		
		№ 1	№ 2	№ 3
Предпринимательская способность	50	6	3	5
Труд	30	10	3	3
Земля	200	3	2	6
Капитал	200	2	5	8

а) Какую технологию предпочтет фирма? Почему? При какой технологии производство будет более эффективным?

б) Допустим, создана новая технология изготовления данного продукта — технология № 4, использующая одну единицу предпринимательской способности, две единицы труда, три единицы земли и шесть единиц капитала (цены на ресурсы прежние). Предпочтет ли фирма новую технологию? Объясните, почему «да» или почему «нет».

в) Предположим, что увеличилось предложение рабочей силы и цена труда упала в два раза, а также уменьшилось предложение капитала и он подорожал в полтора раза. Какая технология предпочтительнее теперь для фирмы (при прежних ценах на предпринимательскую собственность и землю)?



**8.16.** Процесс производства на некотором предприятии описывается производственной функцией

$$Q = 6 \cdot L \cdot K ,$$

где  $Q$  — объем производства;

$L$  — объем используемых трудовых ресурсов в человеко-часах;

$K$  — объем используемого оборудования в станко-часах.

Найдите алгебраическое выражение для изокванты при  $Q = 12$ . Нарисуйте эту изокванту.

Ставка арендной платы за оборудование в час вдвое выше ставки часовой оплаты труда. Предприятие использует две единицы оборудования и две единицы труда. Может ли предприятие, изменив комбинацию используемых ресурсов, уменьшить затраты, не сокращая выпуска?

**\*8.17.** Заполните пропуски в таблице и найдите оптимальный объем использования труда в данной ситуации при ценах единицы продукции 120 руб. и единицы труда 75 руб.:

Количество труда, тыс. чел.-час.	Общий выпуск продукции, $Q$	Маржинальный продукт труда, $MPL$	Средний продукт труда, $APL$
3	...	//////////	200
//////////	//////////	100	//////////
4	...	//////////	...
//////////	//////////	...	//////////
5	750	//////////	...
//////////	//////////	...	//////////
6	...	//////////	130
//////////	//////////	...	//////////
7	840	//////////	...

**8.18.** Предприятие производит объем продукции, используя такие объемы ресурсов, при которых маржинальный продукт оборудования превышает маржинальный продукт труда в 2 раза. Ставка платы за аренду единицы оборудования превышает ставку оплаты труда в 3 раза. Может ли предприятие уменьшить затраты, не сокращая выпуска? Если «да», то в каком направлении следует изменить соотношение между объемами использования оборудования и труда? Объясните с помощью изокванты и изокосты.

**8.19.** В таблице показана зависимость общих затрат предприятия от выпуска продукции. Рассчитайте затраты: постоянные, переменные, средние общие, средние постоянные, средние переменные. В таблице заполните графы  $FC$ ,  $VC$ ,  $MC$ ,  $ATC$ ,  $AFC$ ,  $AVC$ . Последние четыре величины изобразите графически:

Выпуск в единицу времени $Q$ , шт.	Общие затраты $TC$ , руб.	$FC$	$VC$	$MC$	$ATC$	$AFC$	$AVC$
0	60						
1	130						
2	180						
3	230						
4	300						

**8.20.** Допустим, общие затраты фирмы на выпуск  $Q$  единиц продукции составляют:

$$Q^2 - 16 \cdot Q + 400.$$

Выведите функции всех видов затрат, используемых в экономической теории для описания поведения фирмы. При каких значениях  $Q$  средние и маржинальные затраты достигают минимума?

**8.21.** Информация о функции спроса на продукцию монополиста и его общих затратах приведена в таблице:

Выпуск в единицу времени $Q$ , шт.	Цена $P$ , руб.	Общие затраты $TC$ , руб.	$TR$	$MC$	$MR$	$\Pi$
1	100	100				
2	90	110				
3	80	120				
4	70	130				
5	60	140				
6	50	150				
7	40	170				
8	30	200				

а) изобразите графически кривую общей выручки и кривую общих затрат;

б) изобразите графически кривую предельной выручки и предельных затрат;

в) при каком объеме выпуска продукции монополист максимизирует прибыль?

**8.22.** Даны функция спроса на продукцию монополиста

$$Q = 12 - P$$

и функция общих затрат

$$TC = 6 + 6 \cdot Q - Q^2.$$

Найдите максимальную прибыль и соответствующую цену.

**8.23.** Даны функция затрат монополии  $TC = 5 \cdot Q + 0,25 \cdot Q^2$  и функция спроса на двух рынках:  $Q_1 = 160 - P_1$ ,  $Q_2 = 160 - 2 \cdot P_2$ .

Найдите объемы продаж и цены на каждом из двух рынков, при которых прибыль монополии будет максимальной. Как изменится объем продаж, цены и прибыль, если ценовая дискриминация запрещена государством?

**8.24.** Монополия максимизирует выручку при целевой прибыли не ниже 1500 млн. руб. Известны функция спроса  $P = 304 - 2 \cdot Q$  и функция затрат

$$TC = 500 + 4 \cdot Q + 8 \cdot Q^2.$$

Определите оптимальный объем выпуска и цену. Какими были бы оптимальный выпуск и цена, если бы монополия преследовала цель максимизации прибыли?

**8.25.** Монополист на рынке компакт-дисков, изучив спрос, ищет наиболее выгодную цену и объем выпуска. Постоянные затраты составляют 50 млн. руб. в год, переменные затраты на один компакт-диск составляют 2000 руб. Спрос не превышает 100 тыс. штук в год и падает на 1 тыс. штук при увеличении цены на каждые 100 руб. На какую максимальную прибыль может рассчитывать монополист, какую он должен для этого назначить цену и каким должен быть выпуск?

**8.26.** Монополист увеличил выпуск продукции с 6 до 8 тыс. штук в месяц в надежде продавать все изделия по наилучшей для себя цене. Как изменится его прибыль, если установится функция месячного спроса:  $14\,000 - P$ , где  $P$  — цена в рублях?

**8.27.** Предположим, предприятие находится в условиях совершенной конкуренции. Зависимость общих затрат предприятия (ТС) от выпуска представлена в таблице:

Выпуск в единицу времени ( $Q$ ), шт.	Общие затраты (ТС), руб.
0	100
1	140
2	200
3	300
4	440
5	600

На рынке цена установилась на уровне 110 руб. Сколько продукции должно производить предприятие, чтобы достичь максимума прибыли? Ниже какого уровня не должна снизиться цена, чтобы предприятие не было вынуждено прекратить производство данного товара?

**8.28.** При спросе, меняющемся в зависимости от цены:  $Q_d = 110 - P$ , и функции предложения  $Q_s = 2 \cdot P - 70$  (в тыс. шт.), к чему приведет введение 20%-ного налога на добавленную стоимость (НДС)?

**8.29.** Монополист на рынке газа имеет общие переменные затраты на  $1000 \text{ м}^3$  1,5 тыс. руб. Постоянные затраты составляют 250 млрд. руб. Спрос не превышает  $100 \text{ млрд. м}^3$  в год и падает на  $1 \text{ млрд. м}^3$  при увеличении цены за  $1000 \text{ м}^3$  на каждые 500 руб. На какую максимальную прибыль может рассчитывать монополист и какую он должен для этого назначить цену?

**8.30.** Закон о естественных монополиях предписывает ограничение на цену до 6 тыс. руб. за единицу товара. Какую цену выгодно установить монополисту, если постоянные издержки составляют 150 млн. руб. в год, переменные затраты на единицу товара составляют 3000 руб., а спрос не превышает 200 тыс. шт. в год и падает на 2 тыс. шт. при увеличении цены на каждые 100 руб.?

**\*8.31.** Информация о функции спроса на продукцию монополиста и его общих затратах приведена в таблице:

Выпуск в единицу времени $Q$ , шт.	Цена $P$ , руб.	Общие затраты $ТС$ , руб.
3	100	300
4	90	310
5	80	320
6	70	330
7	60	340
8	50	350

При каком объеме выпуска продукции монополист максимизирует прибыль?

**8.32.** Известны функция спроса на продукцию монополии  $P = 304 - 2 \cdot Q$  и функция затрат  $ТС = 500 + 4 \cdot Q + 8 \cdot Q^2$ .

Определите оптимальный объем выпуска и цену.

## ГЛАВА 9

# РЫНКИ КАПИТАЛА И ЗЕМЛИ

### Задачи с решениями

**9.А.** Фермер может выращивать на своем участке земли в среднем 400 т картофеля в год. Цена из года в год одна и та же — 0,2 долл. за 1 кг. Банковский процент устойчиво держится на уровне 10%. За какую цену имеет смысл фермеру продать землю, если затраты на выращивание, сбор и реализацию картофеля оцениваются в 50 тыс. долл. в год?

*Решение:*

Ежегодная рента оценивается как разница между выручкой (80 тыс. долл.) и издержками (50 тыс. долл.). Тогда оценка стоимости земли составит  $30\,000/0,1 = 300$  тыс. долл. Обоснование этого представлено ниже.

Пусть  $r$  — ставка банковского процента, заданная в долях. Поскольку мы считаем, что земля даст отдачу через год, затем еще через год и так далее, то этот поток доходов нужно дисконтировать по ставке  $r$  или с коэффициентом дисконтирования  $(1 + r)$ :

$$\frac{R}{1+r} + \frac{R}{[1+r]^2} + \dots + \frac{R}{[1+r]^n} + \dots = \frac{R}{r},$$

то есть земля должна давать тот же доход, что и деньги, вложенные в банк.

**9.Б.** Эластичность спроса на зерно составляет 0,5. Предположим, что из-за плохих погодных условий в регионе, дающем 50% всего урожая, у каждого фермера погибло 20% урожая. Как изменится средняя норма прибыли фермеров, если норма прибыли фермерских хозяйств в обычный год невелика и составляет 10% от цены, а затраты в данном, неурожайном году остались на прежнем уровне?

*Решение:* Общие потери урожая составляют 10%, это означает, что цены вырастут на 20% ( $10/20 = 0,5$ ). Значит, выручка составит  $0,9 \cdot 1,2 = 1,08$ , или 108% от обычной выручки при тех же затратах — 100%. Таким образом, норма прибыли увеличилась до 8%.

## Задачи для самостоятельного решения

**9.1.** Производительность труда на ферме зависит от его количества. В период посевной кампании (продолжительность 2 месяца) эта зависимость такова:

Количество наемных работников	1	2	3	4	5
Производительность (в тыс. руб. в месяц на человека)	900	1000	800	700	600

В течение 3 месяцев уборки урожая производительность зависит от количества труда так:

Количество наемных работников	1	2	3	4	5	6
Производительность (в тыс. руб. в месяц на человека)	1000	1200	1000	800	600	500

Сколько надо нанять рабочих в период посевной и для уборки урожая при оплате труда, равной 450 тыс. руб. в месяц?

**\*9.2.** В первую неделю июля 1994 года на всех крупнейших биржах мира цена на кофе поднялась сразу на 40% — до 3025 долл. за тонну нового урожая. Это в 3 раза больше, чем в 1993 году. Причина скачка цен заключалась в сильных заморозках, в результате которых Бразилия потеряла от 20 до 40% урожая сезона 1994/95 года. Доля крупнейшего производителя — Бразилии — составляет 30% мирового урожая, равного 73,5 млн. мешков (1 мешок — 60 кг). Потери оцениваются от 4 до 9 млн. мешков, или от 300 до 700 млн. долл. Мировой рынок недосчитается 5% объема кофе, который поступал ежегодно.

(Источник: «Известия», 1994, 7 июля.)

- 1) Согласуются ли все эти данные?
- 2) Каков механизм биржевой торговли кофе? На какой объект биржевой торговли поднялась цена?
- 3) Что изменилось на рынке кофе: спрос или предложение?
- 4) Оцените потери бразильских фермеров в целом и выигрыш тех, кто сохранил урожай.
- 5) Каков выигрыш всех вместе взятых небразильских фермеров? А в целом все производители кофе выиграли или проиграли?
- 6) Какова эластичность спроса на кофе по цене?
- 7) Что можно сказать об эластичности предложения кофе по цене?
- 8) Что может лежать в основе роста цены на кофе в 3 раза по сравнению с 1993 годом?
- 9) Как вы думаете, в России розничная цена на кофе подскочила сразу же или нет? Почему?

**\*9.3.** Фермер может выращивать на своем участке земли в среднем 400 т картофеля в год. Цена 1 кг картофеля из года в год одна и та же — 0,2 долл. (в рублевом эквиваленте, естественно). Банковский процент держится на уровне 10%. За какую цену имеет смысл фермеру продать землю?

**9.4.** Фермеру банкир предлагает купить абсолютно надежные облигации, по которым через 2 года можно будет получить 1 млн. руб.

а) Какую максимальную сумму мог бы согласиться уплатить фермер за облигации, рассчитывая на инфляцию в 100% годовых?

б) Как повлияет на решение фермера информация из местного банка, обещающего 3% годовых в реальном исчислении?

в) Попробуйте учесть риск, заключающийся в данном случае в том, что в 10 случаях из 100 облигации остаются непогашенными.

**9.5.** Два фермера выращивают пшеницу и картофель. Иван Петрович может на своем участке получить 100 т пшеницы или 300 т картофеля, а Петр Иванович — 80 т пшеницы или 400 т картофеля.



- а) Каковы альтернативные стоимости (цены выбора)?
- б) Что может дать кооперация?
- в) Может ли быть взаимовыгодным обмен при следующих ценах: 100 долл. за тонну пшеницы и 50 долл. за тонну картофеля?
- г) Какие ценовые пропорции гарантируют взаимовыгодность торговли?
- д) Меняются ли альтернативные затраты производства пшеницы у фермеров при изменении цен на картофель? На пшеницу? На другие товары?

**9.6.** Фермер владеет тремя полями площадью 100, 150 и 200 га, урожайность которых оценивается в 25, 20 и 22 ц пшеницы с гектара и в 50, 60, 40 ц кукурузы, соответственно.

Постройте график производственных возможностей и таблично задайте кривую производственных возможностей.

**9.7.** Иван может получить на своем поле либо 400 т пшеницы, либо 1000 т картофеля. Для Петра альтернативной стоимостью выращивания 1 т картофеля будет производство 2,5 ц пшеницы при максимальном урожае картофеля, равном 1200 т. Два фермера — Иван и Петр — решили объединить свои усилия.

а) Постройте кривую производственных возможностей «коллективного» хозяйства при условии, что производительность труда в результате объединения не увеличилась.

б) Верно ли, что альтернативной стоимостью производства 1200 т картофеля является производство 400 т пшеницы?

в) Верно ли, что нельзя произвести 600 т картофеля и 550 т пшеницы?

г) Верно ли, что при производстве 1700 т картофеля альтернативной стоимостью увеличения производства картофеля на 20 т является отказ от 8 т пшеницы?

д) Верно ли, что для увеличения производства пшеницы с 200 т до 500 т нужно пожертвовать снижением урожая картофеля на 900 т?

**9.8.** В счет государственных закупок зерна колхозу должны были заплатить за зерно по договору 1 сентября, но задержали оплату до 1 декабря. За этот период инфляция составила 10% в сентябре, 5% в октябре и 7% в ноябре. Какая надбавка в цене компенсирует инфляцию?

**9.9.** Скорее всего, рыночный спрос на зерно неэластичен по цене. Предположим, что из-за плохих погодных условий в регионе, дающем 50% всего урожая, у каждого фермера погибло 20% урожая.

Ухудшится или улучшится в результате этого положение всех фермеров в целом? Нужны ли будут дотации фермерам, если норма прибыли фермерских хозяйств невелика и составляет 10% при обычном урожае? В чем заключается неполнота информации в этой ситуации?

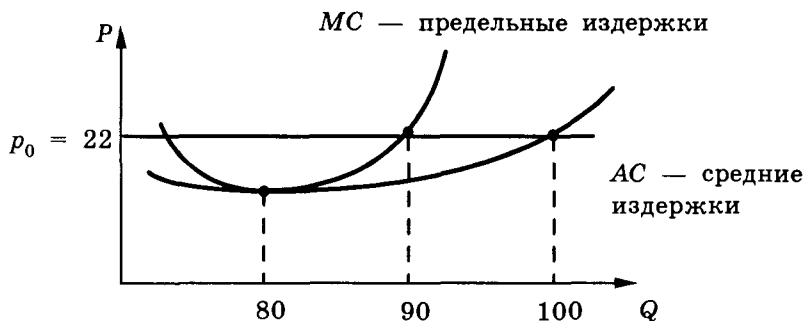
**9.10.** Допустим, что вы являетесь собственником земельного участка, приносящего вам ренту (например, в виде арендной платы или в виде сверхприбыли за счет качества земли или местоположения участка) по  $R$  руб. в год.

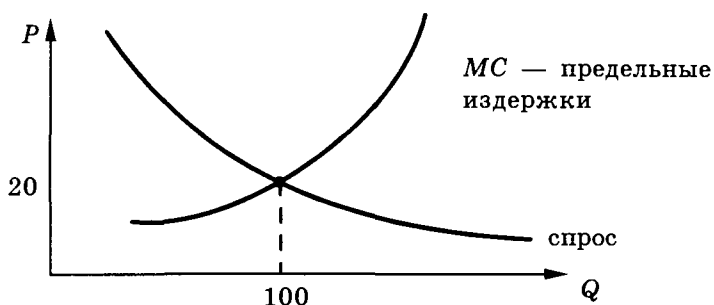
Забудьте об инфляции и, ориентируясь на то, что  $r$  — ставка банковского процента, докажите, что цена земли в январе будет

$$\frac{R}{r} \cdot 100\%.$$

В данном случае это не равновесная цена на рынке земли, а справедливая цена этой земли, даже если на рынке всего один продавец и один покупатель. Справедливая — значит равновыгодная.

**9.11.** Допустим, перед вами рынок пшеницы, и на этом рынке установилась совершенная конкуренция. На двух рисунках изо-





бражены кривые спроса и предложения. Выберите тот рисунок, на котором представлены кривые спроса и предложения для одного фермера, и определите выручку, соответствующую его максимальной прибыли.

**9.12.** При оценке земли принята гипотеза, что рента, которую она приносит, прибыльнее в 2 раза, чем банковский процент, составляющий 6%. Какова будет ориентировочная цена земли, если чистая прибыль от ее использования за год оценивается в 60 тыс. долл.?

**9.13.** Допустим, инфляция в долгосрочной перспективе оценивается на уровне 10% в год, а банковский процент — 20%. Определите цену земли, приносящей 909 тыс. долл. чистой прибыли, в ценах текущего года.

**\*9.14.** Эластичность спроса на зерно составляет 0,33. Рекордный урожай составил 120% от обычного. В обычный год фермеры получают 4% прибыли от цены. На какую прибыль они могут рассчитывать при тех же затратах?

**9.15.** Выгодно ли будет увеличение урожая на 10% при эластичности спроса на зерно, равной 0,8, и при сохранении затрат на прежнем уровне?

**9.16.** Заполните пропуски в таблице и выясните, на каком уровне очистки загрязнений окружающей среды принесет наибольшую выгоду:

Единицы загрязнений, уничтожаемые при контроле за выбросами	Суммарная общественная выгода от очистки, млн. долл.	Маржинальная общественная выгода, млн. долл.	Суммарные общественные затраты на очистку, млн. долл.	Маржинальные общественные затраты на очистку, млн. долл.
1	450	450	260	260
2	750	...	470	...
3	1000	...	...	300
4	1200	...	1050	...
5	1350	150	1300	250

**9.17.** Заполните пропуски в таблице и выясните оптимальный уровень очистки загрязнений, который принесет наибольшую выгоду:

Единицы загрязнений, уничтожаемые при контроле за выбросами	Суммарная общественная выгода от очистки, долл.	Маржинальная общественная выгода, долл.	Суммарные общественные затраты на очистку, долл.	Маржинальные общественные затраты на очистку, долл.
1	350	...	...	160
2	650	...	...	160
3	900	...	...	160
4	1100	...	...	160
5	1250	...	...	160

**\*9.18.** Предположим, что сельскохозяйственное товарищество продало в начале октября весь свой урожай пшеницы государству

по цене 120 долл. за тонну, в рублевом эквиваленте, естественно. Деньги поступили на расчетный счет товарищества 1 февраля, а закупки для посевной делались так: 30% — в феврале, 50% — в марте и 20% — в апреле. На это ушло 40% прошлогоднего дохода, 20% дохода оставлено на уборочную кампанию (поровну на август и сентябрь), а оставшаяся часть пошла на равные ежемесячные выплаты членам товарищества. Предположим, что октябрьская цена устанавливала паритет цен. Индекс потребительских цен ежемесячно составил 5%, а индекс цен на товары и услуги для посевной и уборочной кампаний — 7%. Какие «ножницы» цен образовались за счет инфляции в предположении, что месячная зарплата получается первого числа и тратится членами товарищества в течение того же месяца?

## ГЛАВА 10

# СЕМЬЯ В МИРЕ ЭКОНОМИКИ

### Задачи с решениями

**10.А.** Опытная хозяйка предполагала, что цена на новую стиральную машину со временем должна упасть на 25%. Каков рациональный период ожидания, если номинальные доходы семьи постоянны, а инфляция составляет 5% в месяц?

*Решение* основано на том, что с течением времени постоянная цена стиральной машины будет занимать в бюджете семьи все большую долю. Если за это время реальные доходы сократятся более чем на 25%, то столь длительное ожидание снижения цены стиральной машины было неоправданно. Неизвестный период  $t$  находится из уравнения  $t \cdot \log(1,05) = -\log(0,75)$ . Так как  $t$  измеряется в месяцах, то рациональный период ожидания равен 5,9, то есть примерно 5 месяцев и 27 дней.

**10.Б.** Сколько лет можно выплачивать по 100 тыс. руб. пенсии ежегодно 31 декабря, если проценты на остаток личного счета в пенсионном фонде в сумме 1 млн. 200 тыс. руб. начисляются из расчета 5% годовых, а вклад на счет положен 1 января 1995 г.?

*Решение:*

Обозначим сумму фонда через  $X$ , ежегодный платеж — через  $R$ , а процент —  $i$ , тогда фонд уменьшается за  $n$  лет так:

$$\begin{aligned} & (((X \cdot (1 + i) - R) \cdot (1 + i) - R) \cdot (1 + i) - R \cdot (1 + i) - R) \dots = \\ & = X \cdot (1 + i)^n - R \cdot (1 + i)^{n-1} - R \cdot (1 + i)^{n-2} - \dots - R = \\ & = X \cdot (1 + i)^n - R \cdot \left( \frac{(1 + i)^n - 1}{i} - 1 \right) = 0. \end{aligned}$$

Примем  $Z = (1 + i)^n$ .

$$\text{Тогда } X \cdot Z - R \cdot \left( \frac{Z-1}{i} \right) = 0.$$

Следовательно, это и есть искомое соотношение. Или

$$Z = \frac{R}{R - X \cdot i} = \frac{100}{100 - 0,05 \cdot 1200} = \frac{100}{100 - 60} = 2,5.$$

Отсюда следует, что

$$(1 + i)^n = (1,05)^n = 2,5 \text{ или } n \log 1,05 = \lg 2,5.$$

Следовательно,

$$n = \frac{0,39794}{0,0211992} = 18,78 = 19 \text{ лет.}$$

## Задачи для самостоятельного решения

**10.1.** Каков индекс реальной квартплаты в 1976 году по сравнению с 1967 годом, если квартплата возросла на 70%, а общий индекс цен — на 100% (данные по США)?

**10.2.** Ипотечный банк предлагает ссуду под 360% годовых на год с месячными выплатами, а финансовая компания берет всего 5% при той же схеме погашения, но 5% — это индексируемая ставка, то есть взносы индексируются.

Допустим, инфляция составила в течение 12 месяцев с момента приобретения квартиры стоимостью 32 млн. руб.:

Месяц	1	2	3	4	5	6	7	8	9	10	11	12
Инфляция в %	20	15	20	25	15	20	25	20	15	15	20	25

Срок взноса — последнее число месяца.

Чему равен взнос за первый месяц по каждому из конкурирующих вариантов?

**10.3.** Ипотечная ссуда дана под залог дома в размере 60% его цены, составляющей 5 млн. руб. Ссуда погашается равными взносами раз в квартал в течение 5 лет под 240% годовых. Найдите размер взноса.

**10.4.** Согласно правилу «78» проценты за потребительский годовой кредит начисляются пропорционально номеру месяца, начиная с 12 в первом месяце и заканчивая 1 в последнем месяце. Найдите сумму выплат в июне, если покупка на сумму 1 млн. 300 тыс. руб. совершилась в декабре под 300% годовых по правилу «78». Почему это правило так называется?

**10.5.** Найдите ту часть цены выбора Ивана (альтернативной стоимости), которую можно оценить в рублях. Принятое решение — учиться на врача в течение 6 лет за единовременную плату в 6 млн. руб. Отвергнутая альтернатива — работа санитаром за 2 млн. руб. в год. Ивану 20 лет, работать он намерен до 60 лет и рассчитывает на зарплату в 3 млн. руб. в год. Все цены даны по состоянию на 1 января 1994 года. Иван не боится инфляции: все указанные цены будут двигаться параллельно росту индекса потребительских цен.

Определите альтернативную стоимость при различных коэффициентах дисконтирования: 0,05; 0,1; 0,2; 0,3.

**10.6.** Найдите долю ипотечной ссуды, погашенную за 3 года, если ссуда дана на 5 лет под 240% годовых с ежеквартальными выплатами.

**10.7.** Вычислите, как меняется доля расходов на удовлетворение основных материальных потребностей с ростом доходов (эко/год) на примере «среднего» жителя Эколандии:

Год	Расходы на повседневные			Общие доходы	Общие расходы
	пищу	одежду	жилье		
1	2000	1000	1000	5000	6000
2	2300	1080	1100	7000	7000
3	2400	1000	1100	8000	7500

Подтверждается ли этими данными закон Энгеля?

**10.8.** Вычислите среднюю долю расходов на удовлетворение основных материальных потребностей в Экомании при наличии там всего трех жителей:

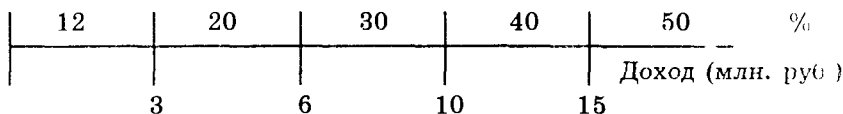


Жители	Расходы на повседневные			Общие доходы	Общие расходы
	пищу	одежду	жилье		
Иванов	200	100	100	400	500
Петров	300	500	400	1600	1500
Сидоров	500	1500	800	3900	3500

**10.9.** Экономист Петров, полагая, что цена на автомобиль уменьшится относительно его доходов, решил отложить покупку автомобиля на год. За этот год в действительности цена автомобиля выросла на 120%, доходы Петрова — на 200%, инфляция составила 150%, а накопленную на автомобиль сумму в начале года Петров поместил в банк под 120% годовых. Выиграл Петров или проиграл в результате своего решения?

**10.10.** Какой процент от суммы расходов на покупки платит покупатель при 7%-ном налоге на продажи, когда к цене в магазине прибавляется 7% и полученная сумма образует продажную цену?

**10.11.** Российский подоходный налог на доходы 1993 года можно грубо представить в виде следующей шкалы:



Мы надеемся, что вы знаете правила исчисления подоходного налога. Далее в нашей задаче искусственно предполагается, что те, у кого доход составляет 1 млн. руб., делают покупки товаров и услуг, облагающихся налогом на добавленную стоимость, на сумму 900 тыс. руб. в год. НДС в 1993 году брался в размере 20%, что давало 16,7% от суммы покупок. Граждане с доходом 21 млн. руб. делали таких покупок только на 50% общего дохо-

да. На интервале доходов от 1 млн. до 21 млн. руб. процент суммы покупок, облагающихся НДС, от дохода менялся линейно. Найдите в данном интервале отрезок доходов, в котором сумма налогов работает как регрессивный налог на доход.

**10.12.** Банк «Столичный» в апреле 1994 года предлагал следующие условия размещения депозитов:

Срок размещения	1 мес.	2 мес.	3 мес.
Доходность (% годовых)	125	140	156

Определите наиболее выгодную стратегию вложения средств на 3 месяца, если снимать деньги со вклада чаще, чем раз в месяц, не представляется возможным.

**10.13.** Постройте «лук Лоренца» по следующим данным:

Семья	Количество человек	Доходы (долл. в год)	Расходы (долл. в год)
Ивановых	3	5000	4500
Семенова	1	2000	1800
Павловых	4	8000	7500
Кузьминых	5	9000	7200
Фроловых	2	6000	5000
<b>Итого:</b>	<b>15</b>	<b>30 000</b>	<b>26 000</b>

**10.14.** Определите наиболее выгодное вложение свободных средств на три месяца в 1994 году семьи, которая доверяет только двум близлежащим финансовым учреждениям — банку «Приличный» и компании «Надежная». Банк предлагает населению депозитные сертификаты сроком минимум на один месяц с процентом годовых, равным 200, а также срочные вклады на срок не менее 3 месяцев при 240% годовых. Компания же предлагает трастовый договор из расчета 15% ежемесячно.

**10.15.** Вычислите коэффициент Джини на основании следующих статистических данных:

% получаемых совокупных доходов	20	50
% домашних хозяйств	40	70

**10.16.** Допустим, общий суммарный доход двух людей ограничен величиной  $S$ . Верно ли, что суммарная полезность после распределения дохода между ними будет максимальна при равенстве доходов?

**10.17.** Владелец автомобиля решил его продать, но решил подождать в надежде, что цены на автомобили поднимутся. Цена подержанного автомобиля измеряется в процентах от цены нового. Каков рациональный период ожидания, если предполагать, что цена поднимется на 40%, а инфляция составит 200% в год?

## ГЛАВА 11

**МЕЖДУНАРОДНАЯ ЭКОНОМИКА****Теория: Абсолютные и  
сравнительные преимущества**

Предположим, что Эколандия и Экомания тратят на производство риса и гвоздей рабочее время в следующих соотношениях:

Страны	Затраты рабочего времени в часах на:	
	рис (центнер)	гвозди (центнер)
Эколандия	40	20
Экомания	60	80

*Вопрос 1.* Можно ли все затраты выразить в часах рабочего времени?

Да, если нет лучшего измерителя в данном конкретном случае. Затраты на добычу, переработку или использование сырья можно в конечном итоге перевести в часы рабочего времени. Аналогично в часы переводятся затраты и на капитальные ресурсы. Тем более, что затраты труда измеряются в часах напрямую. Да и предпринимательство как фактор производства тоже может быть переведено в часы. Конечно, это затраты разного труда и в разное время. Но в качестве первого приближения можно ввести коэффициенты пересчета труда одного качества в труд другого качества. Маркс говорил о пересчете часа сложного труда в часы простого. По крайней мере, для изучения данной концепции экономической теории ничего страшного в такого рода измерителе затрат нет. Тем более, что здесь все равно, в каких единицах и как произведены измерения.

**Вопрос 2.** Имеет ли Эколандия абсолютное преимущество над Экоманией в производстве и риса, и гвоздей?

Да, так как ресурсов и на выращивание риса, и на производство гвоздей Эколандия тратит меньше (40 часов против 60 и 20 против 80).

**Вопрос 3.** Что можно сказать о сравнительных преимуществах?

Эколандия имеет сравнительное преимущество в производстве гвоздей, так как за 1 час она производит 5 кг гвоздей, пожертвовав возможным производством риса:  $100 \text{ кг}/40 = 2,5 \text{ кг}$  риса.

Тогда как для производства тех же 5 кг гвоздей Экомания тратит 4 часа:  $(100 \text{ кг}/80 \text{ час.}) \cdot 4 \text{ часа} = 5 \text{ кг}$  и, соответственно, жертвует возможностью за эти 4 часа произвести

$$(100 \text{ кг}/60 \text{ час.}) \cdot 4 \text{ часа} = 6,67 \text{ кг риса.}$$

Таким образом, альтернативная стоимость 1 кг гвоздей для Эколандии составляет при собственном производстве 0,5 кг риса, а для Экомании — 1,33 кг риса.

Экомания, наоборот, имеет сравнительное преимущество в производстве риса. Для того чтобы показать это, достаточно «перевернуть» указанные пропорции:

$$\text{Эколандия: } 1 \text{ кг риса} = \frac{1}{1,34} \text{ кг гвоздей} = 0,75 \text{ кг гвоздей;}$$

$$\text{Экомания: } 1 \text{ кг риса} = \frac{1}{0,5} \text{ кг гвоздей} = 2 \text{ кг гвоздей.}$$

**Вопрос 4.** Кому выгодна пропорция обмена:

$$1 \text{ ц риса} = 1,5 \text{ ц гвоздей?}$$

Эколандия будет торговать гвоздями, а Экомания рисом.

Эколандия затратит на 1,5 ц гвоздей 30 часов и получит 1 ц риса, который она собственными силами может произвести только за 40 часов. Экономия, равная  $40 - 30 = 10$  часам, делает эту сделку выгодной для Эколандии.

Экомания затратит на 1 ц риса 60 часов, но получит 1,5 ц гвоздей, которые «стоят для нее во внутренних ценах» 120 часов. Прибавка весьма существенна:  $120 - 60 = 60$  часов.

Таким образом, торговля увеличивает богатство обеих стран.

**Вопрос 5.** Допустим, обе страны имеют по 1200 часов рабочего времени. Постройте кривые производственных возможностей до и после обмена:

Товар	Эколандия		Экомания	
Гвозди	60 ц	0	0	15 ц
Рис	0	30 ц	20 ц	0

Это максимальные собственные возможности. Продав 30 ц гвоздей, Эколандия приобретет 20 ц риса. Направив остальные ресурсы на производство риса, она еще получит 15 ц риса. Всего 35 центнеров вместо возможных 30 ц за счет собственных возможностей. Расширение возможностей за счет торговли выражается в 5 ц риса.

Получив 30 ц гвоздей за 20 ц риса, Экомания расширила свои производственные возможности по гвоздям в 2 раза: с 15 до 30 ц.

**Новые возможности, возникшие исключительно за счет обмена, таковы:**

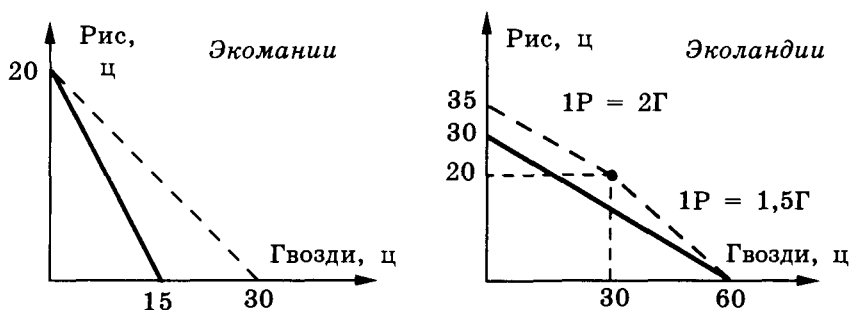


Рис. 11.1. Изменение кривых производственных возможностей в результате торговли

## Задачи с решениями

**11.А.** Цена потребительской корзины в России выросла в рублях на 20%. За это же время рубль подешевел с 3500 руб./долл.

до 4000 руб./долл. Стоимость идентичной потребительской корзины в США поднялась на 2%. Вырос или снизился уровень жизни в России по отношению к уровню жизни в США судя по этим данным?

*Решение:*

Стоимость данной потребительской корзины в России, выраженная в долларах, выросла на 5% ( $1,2/(4000/3500) = 1,05$ ). Поэтому уровень жизни, если не учитывать других факторов, снизился относительно американского на  $1 - 1,02/1,05 = 0,0285$ , или на 2,85%.

**11.Б.** Определите паритет доллара к рублю, если в потребительскую корзину входят три продукта *A*, *B* и *C* в количествах 5, 25 и 40, а цены даны в таблице:

Цена	<i>A</i>	<i>B</i>	<i>C</i>
в дукатах	3	1	0,5
в эскудо	9000	3200	2000

*Решение:*

На потребительскую корзину

— в долларах нужно:  $3 \cdot 5 + 1 \cdot 25 + 0,5 \cdot 40 = 60$ ;

— в рублях нужно:  $9000 \cdot 5 + 3200 \cdot 25 + 2000 \cdot 40 = 205\ 000$ .

Паритет: за один доллар —  $3416,66$  рублей =  $205\ 000/60$ .

**11.В.** Определите, какая страна имеет абсолютные преимущества, а какая — сравнительные преимущества?

Производственные возможности, тыс. т	Экомания	Эколандия
Кукуруза	2000	1500
Пшеница	1000	500

*Ответ:* В этом случае не хватает данных для ответа на вопрос об абсолютном преимуществе ни по кукурузе, ни по пшенице, так как нет никаких данных о затратах. Сравнительные

преимущества по представленной информации можно определить. Экомания имеет сравнительное преимущество в производстве пшеницы над Эколандией. Соответственно, Эколандия имеет сравнительное преимущество в производстве кукурузы над Экоманией.

**11.Г.** Возможности России позволяют производить 64 млн. т картофеля либо 16 млн. т пшеницы, а Украина может вырастить 18 млн. т пшеницы против 36 млн. т картофеля при полном использовании площадей под одну культуру. Посевные площади в России и на Украине условно считаются однородными. Если курс карбованца к рублю составляет 30 : 1, а Россия предлагает картофель по 500 руб. за килограмм, то какой диапазон внутренних цен на украинскую пшеницу делает обмен выгодным для Украины и России?

*Решение:* Взаимовыгодные цены, выраженные через альтернативные стоимости, таковы:  $2K < 1П < 4K$ . 1 кг картофеля в переводе на карбованцы стоит 15 тыс. карб. Следовательно, в интервале цен на пшеницу от 30 тыс. карб. до 60 тыс. карб. торговля будет взаимовыгодной.

**11.Д.** Найдите выгоду, измеряемую часами рабочего времени, каждой страны от обмена 1 т пшеницы на 1,4 т риса между Эколандией и Экоманией с учетом следующих затрат на производство риса и пшеницы:

Страны	Затраты в часах на 1т	
	Рис	Пшеница
Эколандия	24	30
Экомания	15	10

Что можно сказать о сравнительных и абсолютных преимуществах?

*Решение:*

Экомания имеет абсолютное преимущество и по рису, и по пшенице, но сравнительное преимущество только в производстве пшеницы. Для производства 1 кг пшеницы Экомания жерт-



вует производством 0,67 кг риса, что можно записать так:  $1П = 0,67P$ , а в Эколандии соотношение иное:  $1П = 1,25P$ . Поэтому Эколандия имеет сравнительное преимущество в производстве риса.

При обмене 1 т пшеницы из Экомании на 1,4 т риса, произведенного в Эколандии, Экомания имеет выгоду от того, что на 1 т пшеницы она затрачивает 10 часов, а на 1,4 т производства риса собственными силами:  $15 \cdot 1,4 = 21$  час. Следовательно, выгода Экомании в часах составит:  $21 - 10 = 11$  часов. Эколандия же оказывается в проигрыше:  $30 \cdot 1 - 24 \cdot 1,4 = -3,6$  часа.

**11.Е.** В международной практике одной из форм помощи нуждающимся странам являются беспроцентные займы. Размер помощи задается долей, которую нужно уплатить по эффективной процентной ставке. Эта доля в финансовых расчетах получила название грант-элемента. Какова безвозмездная помощь (грант-элемент) в % при предоставлении беспроцентного трехлетнего займа по сравнению с обычными условиями долгосрочного кредитования: 7,5% годовых, выплачиваемых ежегодно?

*Решение:*

За три года наберит  $7,5 \cdot 3 = 22,5\%$ , но правильнее это рассматривать как ренту. За год возвращать нужно 107,5%, а при беспроцентном займе — 100%. Следовательно:

$$\left(1 - \frac{100}{107,5}\right) \cdot 100\% = APR = \text{грант-элемент } (G).$$

$G = 0,0697$ , или приблизительно 7%.

## **Задачи для самостоятельного решения**

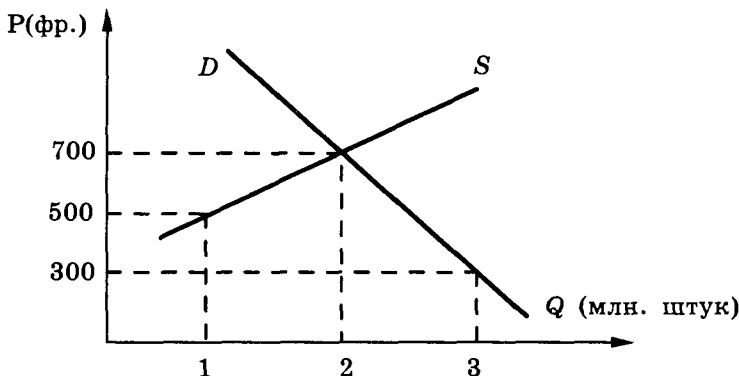
---

**11.1.** Возможное падение курса доллара относительно иены приводит к валютным рискам американских фирм, импортирующих японские товары. Определите потери американской фирмы, импортирующей японские автомобили, если она заключила контракт на покупку автомобилей на сумму 60 млн. долл. при текущем курсе 120 иен за доллар с оплатой через 100 дней, а за это время курс упал до 110 иен за доллар.

**11.2.** В международной практике одной из форм помощи нуждающимся странам являются беспроцентные займы. Размер помощи задается долей, которую нужно было бы уплатить по рыночной процентной ставке. Эта доля, выраженная в процентах годовых, в финансовых расчетах получила название грант-элемента. Какова безвозмездная помощь (грант-элемент) в % при предоставлении беспроцентного 3-летнего займа по сравнению с обычными условиями долгосрочного кредитования: процент годовых — 7,5%, выплачиваемый ежегодно?

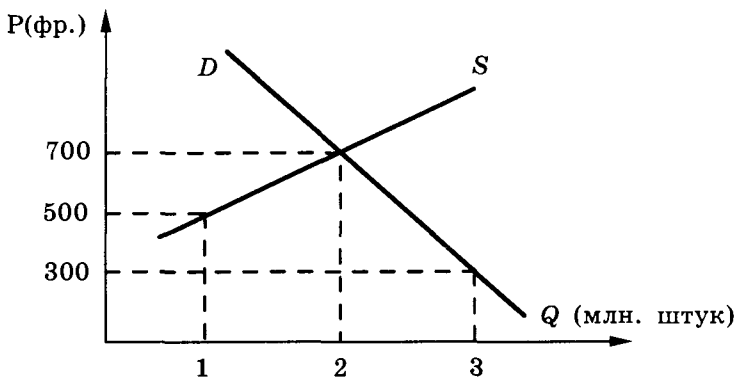
**11.3.** Допустим, МВФ планирует предоставление льготного кредита некоторой развивающейся стране под 3% годовых при рыночном курсе ссудного процента, равном 8%. Определите грант-элемент.

**11.4.** Ситуация на французском рынке магнитофонов со стандартными характеристиками изображена на следующем графике:



Французское правительство ввело импортную пошлину по 100 франков на каждый магнитофон. Изобразите на графике новую ситуацию на рынке, основываясь на расчетах, как можно более точно.

**\*11.5.** Ситуация на французском рынке магнитофонов со стандартными характеристиками изображена на следующем графике:



Предположим, что экономика страны открыта для международной торговли и французский рынок быстро насыщается корейскими магнитофонами по цене 500 франков. Через некоторое время после насыщения французское правительство ввело пошлину на ввоз в размере 100 франков на каждый магнитофон. Изобразите на графике, основываясь на расчетах:

а) ситуацию после насыщения рынка дешевыми корейскими магнитофонами;

б) положение на рынке после введения импортной пошлины.

**11.6.** Производственные возможности России и Украины в производстве пшеницы и картофеля заданы в млн. т (60, 240) и (40, 80) соответственно. Постройте графики производственных возможностей в условиях свободы торговли при соотношении обмена  $1\Pi = 3\text{К}$ .

**11.7.** Брестская и Львовская области торгуют друг с другом за рубли. Они производят на определенных площадях пшеницу и кукурузу. Производители могут засеивать пшеницей и кукурузой имеющиеся площади в любой пропорции. В целом урожайность

обеих культур во Львовской области выше. Сельскохозяйственные площади однородны в каждой из областей. Производственные возможности хорошо описываются максимально возможными объемами производства (в тыс. т):

Сельскохозяйственные культуры	ОБЛАСТИ	
	Львовская	Брестская
Кукуруза	2000	1500
Пшеница	1000	500

Ожидаемые цены на рынке СНГ: 20 тыс. руб. за тонну кукурузы и 50 тыс. руб. за тонну пшеницы. Рациональна ли специализация в этих условиях? Если «нет», то почему? Если «да», то какое использование посевных площадей дает наибольший эффект? Постройте кривую общих производственных возможностей.

**11.8.** Допустим, в условиях предыдущей задачи изменились только цены:

15 тыс. руб. за тонну кукурузы и

50 тыс. руб. за тонну пшеницы.

Как в этом случае изменятся ответы на вопросы?

**11.9.** Предположим, в условиях задачи 11.8 Львовская и Брестская области как соседи предпочитают удовлетворять изменившиеся собственные потребности (900 тыс. т пшеницы и 1500 тыс. т кукурузы), торгуя друг с другом. Как изменится характер специализации?

**11.10.** В условиях задачи 11.10 поменялись общие потребности двух областей: 1,2 млн. т пшеницы и 1 млн. т кукурузы. Как наилучшим образом их удовлетворить?

**11.11.** Определите, при каких соотношениях цен на кукурузу и пшеницу в условии задачи 11.8 будет выгодна та или иная форма специализации.

**11.12.** Львовская и Брестская области вынуждены прибегнуть к бартерной торговле при тех же производственных возможностях (см. задачу 11.8).

## Внутренние потребности областей (в тыс. тонн)

Потребности	ОБЛАСТИ	
	Львовская	Брестская
Кукуруза	1000	600
Пшеница	500	300

а) Могут ли области удовлетворить свои потребности только за счет своих внутренних резервов? Какой процент своих площадей они должны будут использовать для этого в лучшем случае?

б) Каков совокупный эффект от специализации?

**11.13.** Альтернативной стоимостью производства 1 т кукурузы в США является производство 0,2 т пшеницы при максимальном производстве пшеницы 100 млн. т. Для Канады альтернативная стоимость производства 1 т пшеницы составляет 2 т кукурузы при максимально возможном производстве кукурузы в 50 млн. т.

а) Может ли Канада обеспечить себя 60 млн. т кукурузы с помощью торговли?

б) Каковы производственные возможности США в производстве пшеницы, расширенные с помощью торговли с Канадой?

**11.14.** На далеком острове два соседних государства Экомания и Эколандия имеют разные производственные возможности в производстве картофеля, пшеницы и кукурузы, описываемые максимальными урожаями при полном использовании однородных в каждой стране площадей только под одну культуру (в тыс. т):

Производственные возможности	Картофель	Кукуруза	Пшеница
Экомания	2000	500	200
Эколандия	1800	1200	300

а) Зафиксируйте в Экомании производство картофеля на уровне  $K$  и постройте кривую общих производственных возможностей в плоскости «пшеница — кукуруза».

б) Каков оптимальный объем выпускаемой продукции в каждой из стран в стоимостном выражении при ценах 50 эко за 1 т картофеля, 120 эко — кукурузы, 300 эко — пшеницы?

в) При тех же ценах определите, каков экспортный потенциал каждой страны после удовлетворения внутренних потребностей (в тыс. т):

Потребности	Картофель	Кукуруза	Пшеница
Экомания	1000	100	50
Эколандия	600	300	100

г) Каков общий экспортный потенциал при полной интеграции между странами в эко?

д) Каков объем торговли в этом случае сельхозпродукцией между странами? Определите экспорт, импорт и экспортно-импортное сальдо для каждой страны по операциям с соседом.

**11.15.** Предположим, что в России один трактор может быть произведен за 500 рабочих часов, а на производство 1 т пшеницы уходит 50 часов. На Украине производство трактора обходится в 600 часов, а пшеницы — в 30 часов.

а) Какова в каждой из стран альтернативная стоимость производства тракторов, выраженная через пшеницу, и, наоборот, сколько стоит производство 1 т пшеницы в автомобилях? Какая страна обладает сравнительным преимуществом в производстве тракторов? Пшеницы?

б) Допустим, Россия и Украина придерживаются примерно одной технологии производства пшеницы, которая требует одного трактора для производства 60 т пшеницы. Как изменятся альтернативные стоимости пшеницы и тракторов в России и на Украине?

**11.16.** В дополнение к условиям предыдущей задачи вводим третий продукт — видеомэгниетофоны. В России затраты на производство видеомэгниетофона составляют 100 часов рабочего времени, а на Украине — 90. Известно, что Россия располагает ресурсом — 1100 млн. рабочих часов в год, а Украина — 450 млн. человеко-часов.

Причем заданы потребности:

Товары	Россия	Украина
Тракторы	0,5 млн. шт.	0,2 млн. шт.
Пшеница	10 млн. т	5 млн. т
Видеомагнитофоны	3,5 млн. шт.	2 млн. шт.

а) Может ли каждая из стран удовлетворить собственные потребности своими силами?

б) Принесет ли пользу России предприниматель, обменивающий российские видеомагнитофоны на украинскую пшеницу? Какова максимальная польза для России и Украины от такого обмена? Нет ли между ними противоречий, а именно: стратегия, дающая максимум пользы одной стороне, не приносит полного удовлетворения другой, и наоборот? Какова «цена» равновыгодного обмена?

в) Предложите наилучший для Украины вариант обмена, на который Россия может согласиться.

г) Какой наибольший выигрыш от обмена (в млн. чел.-ч) может иметь Россия?

д) Какова область компромисса между двумя странами при торговле без каких-либо ограничений?

**11.17.** Ниже представлены таблицы производственных возможностей Марокко и Испании:

## Марокко

## Испания

Продукт	Варианты				Продукт	Варианты			
	А	В	С	Д		А	В	С	Д
Апельсины (тыс. т)	30	24	18	0	Апельсины (тыс. т)	10	4	6	0
Пшеница (тыс. т.)	0	6	12	30	Пшеница (тыс. т.)	0	12	8	20

Предположим, что оптимальной структурой потребления для Марокко является вариант (24, 6), а для Испании — (4, 12). Вступая в торговые отношения, страны обмениваются продуктами в соотношении:  $1A = 1,5П$ . Подсчитайте выигрыш от специализации и торговли для каждой страны.

**11.18.** Стоимость одной и той же потребительской корзины в Экомании и Эколандии составляет 1200 дукатов и 90 крон соответственно. ВВП Экомании составляет 30% от ВВП Эколандии в пересчете по официальному курсу валют: за 1 крону дают 20 дукатов. ВВП Эколандии составляет 180 млн. крон, а население в 2 раза больше, чем в Экомании. Определите соотношение производительности труда на душу населения в этих странах.

**11.19.** Вы располагаете следующей информацией относительно параметров производства в Бирме и остальном мире:

Производители	Выпуск тканей на единицу затрат	Производство риса на единицу затрат
Бирма	75	100
Остальной мир	150	150

Предлагается исходить из допущений в духе Рикардо: эти два товара являются единственными, соотношение затраты/выпуск остается постоянным при любом объеме производства риса и тканей, все рынки являются конкурентными.

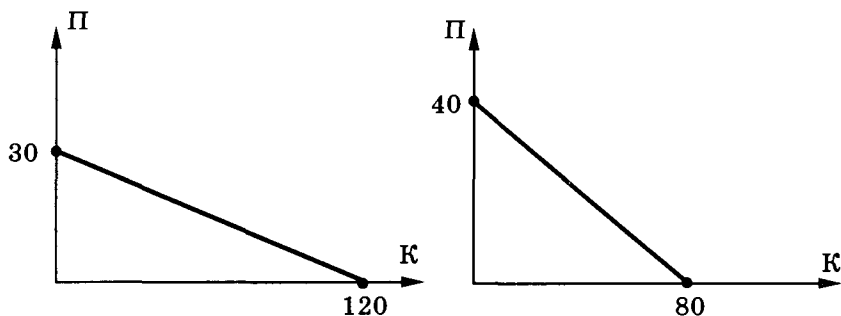
а) Имеет ли Бирма абсолютное преимущество в производстве риса? А тканей?

б) Имеет ли Бирма сравнительное преимущество в производстве риса? А тканей?

в) В каких пределах установятся «условия торговли» (соотношение мировых цен на рис и ткани) в обстановке свободной торговли между Бирмой и остальным миром?

**11.20.** На графиках изображены кривые производственных возможностей России и Украины для двух сельскохозяйственных культур: пшеницы и картофеля.





Производственные возможности за счет внутренних ресурсов (данные условные), млн. т

Постройте новые кривые производственных возможностей с учетом безубыточной торговли между двумя странами. Эти кривые можно было бы назвать кривыми возможного потребления.

**11.21.** Допустим, российский экспортер заключил контракт на поставку за границу нефтепродуктов на 20 млн. долл. За время, прошедшее до момента оплаты, доллар подорожал с 3000 до 3300 руб. за доллар. Определите, как это скажется на экономическом положении экспортера, экспортирующего нефтепродукты, приобретаемые внутри страны по твердым ценам.

## ГЛАВА 12

# ГОСУДАРСТВО И ЭКОНОМИКА

### Теория: Косвенные налоги: выгоды и потери

Введение акцизного налога на какой-либо товар приводит к увеличению доходов государства, к уменьшению выручки и прибыли производителей, к убыткам покупателей и, удивительно, но факт, к потерям, которые не компенсируются выгодами кого-либо. В теории эти последние потери получили название *Dead weight losses* («мертвые потери», потери всего общества). Рассмотрим следующую модель, поясняющую суть дела (рис. 12-1).

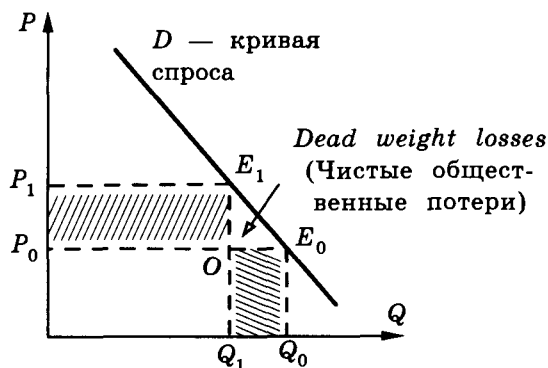


Рис. 12-1

Допустим, до введения налога равновесие  $E_0$  характеризовалось продажей  $Q_1$  товаров по цене  $P_0$ , а после введения налога цена повысилась до  $P_1$ , величина спроса (продаж) упала до  $Q_1$ . Пусть государство присваивает в виде налога разницу цен  $P_1 - P_0$ .

Тогда государство получит в качестве суммы налога величину  $Q_1 \cdot (P_1 - P_0)$ , равную площади прямоугольника  $P_1E_1OP_0$ . Производители потеряют  $P_0 \cdot (Q_0 - Q_1)$ , или сумму, равную площади прямоугольника  $Q_1Q_0E_0O$ . При продаже по цене  $P_0$  выгоды покупателей оцениваются площадью под кривой  $D$ , но над отрезком  $P_0E_0$ . Таким образом, если  $D$  — прямая, то общая выгода покупателей при переходе от цены  $P_0$  к цене  $P_1$  уменьшится на сумму, эквивалентную площади трапеции  $P_0P_1E_1E_0$ . В результате «мертвые потери» будут представлены треугольником  $E_1OE_0$ .

Чем больше налог, тем больше потери всего общества. Причем удвоение налога ведет к существенно бóльшим потерям.

Эти общие потери относят к примерам несостоятельности государственной политики, так называемым ошибкам правительства (*government failure*). Сторонники невмешательства государства в экономическую жизнь так формулируют возникающий парадокс: «Может ли государство исправить ошибки рынка (*market failure*), допуская собственные ошибки (*government failure*)?»

## Теория: Кейнсианский крест

Одна из главных целей макроэкономики заключается в том, чтобы объяснить, почему объем ВВП не всегда совпадает со своим потенциальным уровнем, какова связь инфляции и безработицы. Современные макроэкономические инструменты государственной политики берут свое начало из модели совокупного спроса, разработанной, пожалуй, наиболее выдающимся экономистом XX века англичанином Джоном Мейнардом Кейнсом и опубликованной в его главном труде — «Общая теория занятости, процента и денег» (1936 г.).

Совокупный спрос — сумма, которую люди желают заплатить за товары и услуги, для каждого уровня совокупного дохода.

$$\begin{array}{rcll}
 \text{Совокупный} & = & \text{Потребительский} & + & \text{Инвестиционный} \\
 \text{спрос} & & \text{спрос} & & \text{спрос} \\
 (AD) & = & (C) & + & (I)
 \end{array}$$

Кроме этого соотношения, можно предположить прямую зависимость совокупного спроса от дохода:

$$AD = I_0 + c \cdot Y,$$

где  $I_0$  — сумма расходов на потребление и инвестиций фирм, которая не зависит от доходов потребителей ( $Y$ ) Кейнс называл это автономным потреблением;

$c$  — доля дохода, расходуемого на потребление, Кейнс называл ее предельной склонностью к потреблению.

Рынок находится в равновесии, если при данном уровне цен величина предлагаемого выпуска продукции равна совокупному спросу (рис. 12-2).

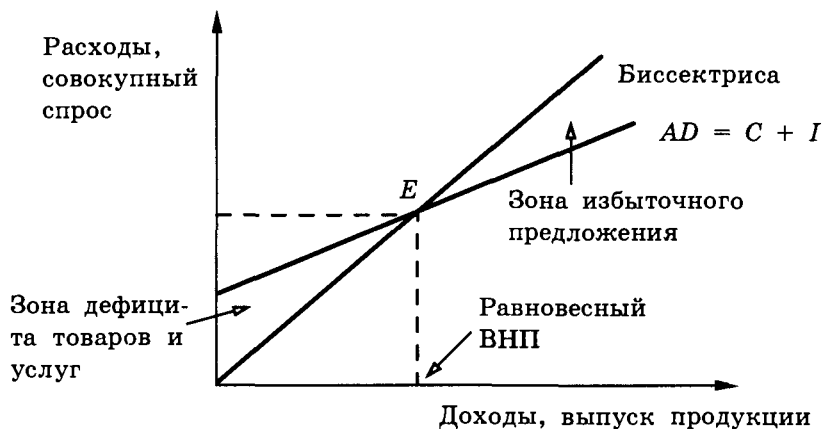


Рис. 12-2. Кейнсианский крест

Читателю предлагается самостоятельно показать механизм, с помощью которого экономика стремится к равновесию в точке  $E$ . Алгебраически модель Кейнса выглядит так:

1)  $C = c \cdot Y$ , где  $c$  — предельная склонность к потреблению, показывающая, какую часть совокупного дохода  $Y$  потребители собираются потратить.

2)  $I = I_0$  — уровень инвестиций предполагается постоянным и не зависящим от дохода.

Отсюда в точке равновесия  $Y = I_0 / (1 - c)$ .

Таким образом, равновесный уровень доходов ( $Y$ ) определяют два фактора:

\* чем выше уровень планируемых инвестиционных *расходов*  $I_0$ , тем больше равновесный доход, или фактический ВВП;

\* чем выше предельная склонность к потреблению ( $c$ ), тем выше равновесный доход.

Множитель  $1/(1 - c)$  назван мультипликатором Кейнса. Его экономический смысл заключается в том, что единичное увеличение инвестиций повлечет за собой увеличение ВВП в  $1/(1 - c)$  раза. Например, если  $c = 0,8$ , то ВВП увеличится на 1,25 млрд. долл. при росте инвестиций на 1 млрд. долл.

Наличие равновесия еще не означает полного использования ресурсов, в том числе и трудовых. Для сокращения безработицы и роста выпуска продукции Кейнс рекомендует увеличить инвестиции (см. рис. 12-3).

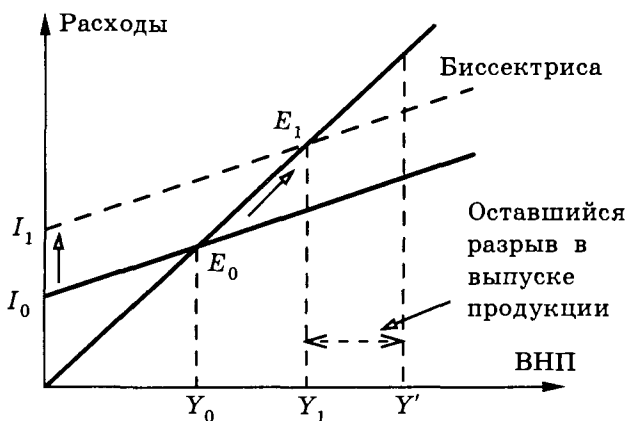


Рис. 12-3. Увеличение фактического выпуска продукции ( $Y_0 \rightarrow Y_1$ ) за счет роста инвестиций ( $I_0 \rightarrow I_1$ ) и потенциальный выпуск продукции (ВВП)  $Y'$

## Теория: Статистика на макроуровне: ВВП и другие

Валовой национальный продукт (ВВП), национальный доход и другие статистические показатели США, например за 1980 год, считаются так:

- 1) ВВП — методом потока расходов:

$$\text{ВВП} = C + I + G + NX,$$

где  $C$  — расходы на личное потребление;

$I$  — валовой объем внутренних частных инвестиций;

$G$  — государственные закупки товаров и услуг;

$NX$  — чистый экспорт, то есть экспорт минус импорт.

$$\text{ВВП} = 1732,6 + 437,0 + 530,3 + 32,1 = 2732,0 \text{ млрд. долл.}$$

- 2) Чистый национальный продукт (ЧНП) равен ВВП за вычетом амортизационных отчислений:

$$\text{ЧНП} = \text{ВВП} - \text{амортизационные отчисления};$$

$$\text{ЧНП} = 2732,0 - 303,8 = 2428,1 \text{ млрд. долл.}$$

- 3) Национальный доход (НД) — это ЧНП за вычетом косвенных налогов на предприятия:

$$\text{НД} = \text{ЧНП} - \text{косвенные налоги на предприятия};$$

$$\text{НД} = 2428,1 - 224,6 = 2203,5 \text{ млрд. долл.}$$

- 4) Совокупный личный доход (ЛД) образуется при вычитании из национального дохода взносов на социальное обеспечение, налогов с доходов корпораций, нераспределенных прибылей корпораций, но плюс трансфертные платежи:

$$\text{ЛД} = 2203,5 - 216,5 - 84,8 - 37,7 + 394,0 = 2258,5 \text{ млрд. долл.}$$

- 5) Располагаемый доход (РД), или доход после уплаты налогов, равен личному доходу минус налоги на личный доход:

$$\text{РД} = 2258,5 - 340,5 = 1918,0 \text{ млрд. долл.}$$

Для получения сопоставимых данных все показатели выражают в базовых ценах. Для этого периодически раз в 10–15 лет выбирают один год, данные которого выверяются и служат ориентиром. В США ближайший такой базовый год — 1982 год.

Реальный ВВП 1980 года выражается в ценах 1982 года путем деления ВВП в текущих ценах на дефлятор. В течение этого периода инфляция в США была высокой:

1980 год — 13,5%, 1981 год — 10,3%, 1982 год — 6,2%.

Попробуйте посчитать реальный ВВП самостоятельно, и у вас должно получиться примерно 3187,1 млрд. долл. 1982 года. Аналогично пересчитываются и остальные показатели.

## Задачи с решениями

**12.А.** Допустим, функции спроса и предложения холодильников «Север» составляют  $Q_d = 400 - P$  и  $Q_s = 2 \cdot P - 260$  в тыс. шт., где  $P$  — цена в тыс. руб.

К чему приведет введение налога на продажи в размере 12,5% от цены?

*Решение:*

До введения налога равновесная цена составляла 220 тыс. руб., а равновесное количество — 180 тыс. шт. После введения налога в распоряжении производителя остается  $7/8$  цены, что уменьшает предложение:  $Q_s = 2 \cdot (7/8) \cdot P - 260$ . Поэтому новая цена равновесия равна 240 тыс. руб., а объем продаж — 160 тыс. шт. При этом общая выручка уменьшилась с 39,6 до 38,4 млрд. руб., а выручка, оставшаяся в распоряжении производителя, сократилась с 39,6 до 33,6 млрд. руб.

**12.Б.** Функции спроса и предложения телефонов «Телеком» составляют  $Q_d = 200 - P$  и  $Q_s = 2 \cdot P - 90$  в тыс. шт., где  $P$  — цена в тыс. руб. К чему приведет введение налога на добавленную стоимость в размере 20% от величины добавленной стоимости, если доля добавленной стоимости в цене составляет 30%?

*Решение:*

Налог 20% на добавленную стоимость составляет  $1/6$  часть от добавленной стоимости, то есть в данном случае 5% от цены. Поэтому равновесная цена увеличится с 96,67 до 100 тыс. руб., а равновесное количество уменьшится с 103,33 до 100 тыс. шт.,

что увеличит общую выручку с 9,998 до 10 млрд. руб., но чистая выручка после вычета налога составит всего 9,5 млрд. руб.

**12.В.** Валовой национальный продукт Эколандии составил в 1992 г. 500 млрд. долл. Можно ли определить ВВП за 1993 г. в неизменных ценах, по которым рассчитывался ВВП 1992 г., на основании следующих данных: инфляция в 1993 г. составила 24%; выросли в текущих ценах конца 1993 г. (в млрд. долл.):

- а) частные инвестиции — на 40;
- б) процент — на 11;
- в) закупки правительства — на 5;
- г) косвенные налоги на бизнес — на 20;
- д) амортизация — на 8;
- е) прибыль корпораций — на 20;
- ж) рентные платежи — на 11;
- з) зарплата — на 50.

Экспорт упал на 5%;

импорт сократился на 5%;

доля чистого экспорта в ВВП составляла в 1992 г. 10%;

ставка процента центрального банка увеличилась в 1,2 раза.

### *Решение:*

Исходные данные позволяют определить ВВП методом потока доходов, а для применения метода потока расходов не хватает крупнейшей статьи — «Личные потребительские расходы».

$$\text{ВВП} = \text{Амортизация} + \text{Косвенные налоги на бизнес} + \\ + \text{Зарплата} + \text{Процент} + \text{Рентные платежи} + \text{Прибыль}$$

По каждой статье есть данные об увеличении, соответственно запишем их:

$$\text{ВВП (1992)} = 500;$$

$$\text{ВВП (1993)} = \text{ВВП (1992)} + \text{прирост по статьям};$$

$$\text{ВВП (1993)} = 500 + 8 + 20 + 50 + 11 + 11 + 20 = 620.$$

Но это номинальный ВВП, а реальный ВВП (в ценах 1992 г.)

$$\text{равен } \frac{620}{1,24} = 500, \text{ или реальный ВВП не изменился.}$$



## Задачи для самостоятельного решения

**12.1.** Проанализируйте теоретическую ситуацию: допустим, функции спроса и предложения составляют  $Q_d = 100 - P$  и  $Q_s = 2 \cdot P - 50$  в тыс. шт. при том, что цена  $P$  задана в долларах. К чему приведет введение 10%-ного налога на продажи?

**12.2.** При спросе, меняющемся в зависимости от цены,  $Q_d = 110 - P$  и функции предложения  $Q_s = 2 \cdot P - 50$  в тысячах штук к чему приведет введение 20%-ного налога на добавленную стоимость (НДС)?

**12.3.** Для стимулирования спроса на рынке совершенной конкуренции правительство установило дотации потребителям в виде талонов. Покупатель, предъявляя талон ценой в  $T$  руб. (она указана на талоне) при покупке, фактически приобретает товар по цене  $P - T$ , то есть на  $T$  руб. дешевле. Спрос и предложение описываются функциями:

$$Q_d = A - a \cdot P \text{ и } Q_s = b \cdot P - B,$$

где  $P$  — цена, а коэффициенты  $a$ ,  $b$ ,  $A$ ,  $B$  известны.

а) Если талоны предоставляются всем желающим, то какова должна быть цена на талоне, чтобы увеличить потребление на 10%?

б) Сколько талонов нужно для этого выпустить?

**12.4.** Правительство решило пойти навстречу производителям, затраты производства которых не покрывали доходов при следующих условиях:

- функция спроса:  $Q_d = 200 - 2 \cdot P$  (тыс. шт.);
- функция предложения:  $Q_s = 3 \cdot P - 100$  (тыс. шт.);
- фиксированные затраты:  $F = 3000$  (млн. руб.);
- переменные затраты на единицу продукции: 30 (тыс. руб.).

а) Определите убытки производителей.

б) Правительство установило цену на 40% выше. Что произошло?

в) Правительство спохватилось и решило ввести дотации потребителям в размере 10 тыс. руб. на каждую покупку. Хватит ли этого для поддержания производителей?

г) Какой должна быть дотация для вывода производителей на безубыточный уровень?

д) Теперь государство поставило следующую задачу: сколько нужно взять налогов с производителя, чтобы покрыть дотации потребителей и обеспечить безубыточное производство? Можно ли дотации обеспечить за счет налогов?

е) Определите наиболее дешевый способ (для правительства) спасения предприятия от банкротства.

**12.5.** Каким должен быть потоварный налог  $T$ , чтобы цена поднялась на  $i$  процентов при функциях спроса и предложения:

$$Q_d = A - a \cdot P \text{ и } Q_s = b \cdot P - B?$$

**12.6.** Определите абсолютный и относительный размер потерь Российского правительства (так называемый грант-элемент) при выдаче льготных кредитов в сумме 100 млрд. руб., даваемых в среднем на год (по схеме  $APR$ ) под 60% годовых при рыночной процентной ставке, равной 240%.

**12.7.** Издатель выпустил 10 тыс. книг. Себестоимость одной книги составила 60 руб., а доля покупных материалов и услуг сторонних организаций достигла 50% себестоимости. По какой цене издатель должен продавать книги, чтобы оставшаяся у него часть прибыли была не меньше 340 тыс. руб., если налог на прибыль составляет 32%, НДС — 20%, а от других налогов он освобожден?

**12.8.** Царь Эколандии собирает ежегодно налогов на 10 тыс. злотых. Тем не менее, когда 1 января дочка собралась замуж, ему не хватило 30 тыс. злотых для оплаты приданого. Расчетливый банкир предоставил царю эти деньги в обмен на откуп налогов сроком на 5 лет. Какую прибыль получит банкир через 5 лет, если ссудный процент равен 10? Оцените среднегодовую прибыль в процентах.

**12.9.** В 1994 году в России доходы юридических лиц от операций на финансовом рынке облагались налогами следующим образом:

\* по процентным векселям, акциям и депозитным сертификатам — 15% у источника возникновения дохода;

\* по депозитам и дисконтным векселям — 35% не у источника возникновения дохода;

\* доходы по государственным ценным бумагам налогом не облагались.

а) Какие государственные ценные бумаги вы знаете?

б) Что такое «у источника возникновения дохода»?

в) Какова причина введения указанных налогов? Почему они берутся с юридических лиц, а не с физических?

г) Чем отличаются процентные векселя от дисконтных?

д) При каком соотношении числа дней ( $n$ ) и процента ( $100 \cdot i$ ) процентный вексель выгоднее, эквивалентен и убыточнее для банкира при действовавших в 1994 году налоговых ставках?

**12.10.** Можно ли оценить среднегодовую инфляцию в США за период с 1973 по 1985 год, если среднегодовой темп прироста ВВП в текущих ценах составил 9,8%, тогда как темп прироста реального ВВП за этот же период был равен 2,8%?

**12.11.** Оцените среднегодовую инфляцию в Экомании, если за 4 года цены выросли в 16 раз.

**12.12.** Доля потребительских товаров и услуг составляет 80% от ВВП, а цены на них за год выросли в 1,5 раза. Инвестиционные товары и услуги, составляющие 20% ВВП, подорожали в среднем на 25%. Скорость обращения денег замедлилась на 5% в связи с увеличением спроса на наличные. Как изменилась денежная масса в обращении при значительном экономическом росте на 90%?

**12.13.** Среднегодовой темп инфляции в нашей стране последние тридцать лет рос: в 1968–1987 годах он составил 4%, в 1988 году — 10%, в 1989 — 12%, в 1990 — 19%, в 1991 — 100%, в 1992 — 2500% и в 1993 — 900%.

а) По отношению к каким годам можно определить индекс цен 1993 года? Можно ли определить дефлятор ВВП в 1993 году по отношению к 1990 году?

б) Определите, во сколько раз выросли цены и упала покупательная способность рубля в конце 1993 года по отношению к началу 1968 года.

в) Чем объяснялась инфляция в далеких 1970-х годах, во времена жесткого контроля над ценами и зарплатой?

**12.14.** Рассмотрите данные таблицы и укажите налоговые ставки:

Доход, тыс. руб.	Доля населения, владеющая таки- ми доходами на душу, %	Ставка налога, %	Налоговая ставка	
			предельная	средняя
от 50 до 100	20	5		
от 100 до 150	40	10		
от 150 до 200	30	15		
от 200 до 300	10	20		

Каким является данный налог: прогрессивным или регрессивным?

**12.15.** Валовой национальный продукт Эколандии составил в 1992 году 500 млрд. эки. Можно ли определить ВВП за 1993 год в неизменных ценах, на основании которых рассчитывался ВВП 1992 года, исходя из следующих данных:

- инфляция в 1993 году составила 24%;
- выросли в текущих ценах конца 1993 года:
  - а) частные инвестиции на 40 млрд. эки;
  - б) процент на 11 млрд. эки;
  - в) закупки правительства на 5 млрд. эки;
  - г) косвенные налоги на бизнес на 20 млрд. эки;
  - д) амортизация на 8 млрд. эки;
  - е) прибыль корпораций на 20 млрд. эки;
  - ж) рентные платежи на 11 млрд. эки;
  - з) зарплата на 50 млрд. эки;
- экспорт упал на 5%;
- импорт сократился на 5%;

— доля чистого экспорта в ВВП составляла в 1992 году 10%;  
 — ставка процента центрального банка увеличилась в 1,2  
 раза?

**12.16.** Потребительская корзина подорожала на 40%, а ВВП в текущих ценах вырос на 75%. Найдите темп роста экономики.

**12.17.** Рассмотрите выгоды и потери от введения или увеличения акцизного потоварного налога в случае, если цена ограничивается не только спросом, но и предложением. Анализ выполните по аналогии с моделью, рассмотренной в экономической лаборатории «Косвенные налоги: выгоды и потери» (см. рис. 12-4).

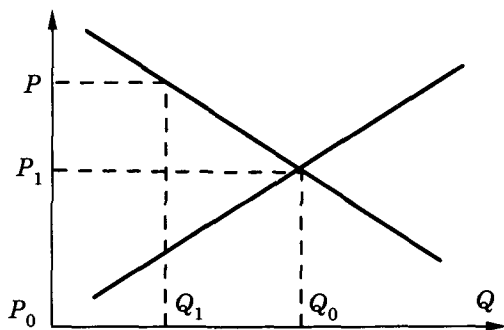


Рис. 12-4

**12.18.** Функции спроса и предложения стиральных машин «Эврика» составляют  $Q_d = 300 - 2 \cdot P$  и  $Q_s = 3 \cdot P - 170$  в тыс. шт., где  $P$  — цена в тыс. руб. К чему приведет введение налога на продажи в размере 10% от цены?

**12.19.** Функции спроса и предложения принтеров «Стар» составляют  $Q_d = 700 - P$  и  $Q_s = 2 \cdot P - 281$  в тыс. шт., где  $P$  — цена в долларах. К чему приведет введение налога на добавленную стоимость в размере 20% от величины добавленной стоимости, если доля добавленной стоимости в цене составляет 18%?

**12.20.** Функции спроса и предложения телефонов «Телеком» составляют  $Q_d = 400 - 3 \cdot P$  и  $Q_s = 2 \cdot P - 100$  в тыс. шт., где  $P$  — цена в тыс. руб. Налог на прибыль берется в размере 38%, постоянные издержки составляют 3 млрд. руб., а переменные — 50 тыс. руб. на один телефон. Определите массу налога на прибыль.

**12.21.** Функции спроса и предложения утюгов «Жар-птица» составляют  $Q_d = 300 - 2 \cdot P$  и  $Q_s = 2 \cdot P - 100$  в тыс. шт., где  $P$  — цена в тыс. руб. Доля добавленной стоимости в цене составляет 60%. Налог на прибыль берется в размере 38%, налог на добавленную стоимость — в размере 20%, постоянные издержки составляют 2 млрд. руб., а переменные — 40 тыс. руб. на один телефон. Определите чистую прибыль, если сначала вычитается налог на добавленную стоимость, а затем с оставшейся прибыли берется налог.

**12.22.** Вычислите валовой национальный продукт методом потока доходов, если известны следующие данные в целом по народному хозяйству, в трлн. руб.: амортизация — 10, косвенные налоги на бизнес — 3, зарплата — 15, частные инвестиции — 8, процентный доход — 2, рентные платежи — 4, прибыль — 7.

**12.23.** Вычислите валовой национальный продукт методом потока доходов, если известны следующие данные в целом по народному хозяйству, в трлн. руб.: амортизация — 15, экспорт — 2, косвенные налоги на бизнес — 13, зарплата — 25, государственные инвестиции — 5, процентный доход — 2, рентные платежи — 4, прибыль — 16, импорт — 3.

**12.24.** Вычислите валовой национальный продукт, если известны следующие данные в целом по народному хозяйству, в трлн. руб.: амортизация — 15, экспорт — 2, косвенные налоги на бизнес — 13, государственные расходы — 23, процентный доход — 2, рентные платежи — 4, частные инвестиции — 9, прибыль — 16, импорт — 3, конечное потребление — 52.

**12.25.** Оцените среднегодовую инфляцию, если за 4 года цены выросли в 16 раз.

**12.26.** Доля потребительских товаров и услуг составляет 80% от ВВП, а цены на них за год выросли в 1,5 раза. Инвестиционные товары и услуги, составляющие 20% ВВП, подорожали в среднем на 25%. Скорость обращения денег замедлилась на 5% в связи с увеличением спроса на наличные деньги. Как изменилась денежная масса в обращении при значительном экономическом росте на 90%?

**12.27.** Потребительская корзина подорожала на 40%, цены на инвестиционные товары и услуги выросли в 1,5 раза, а ВВП в текущих ценах вырос на 50%. Оцените темп роста экономики, если известно, что объем производства предметов потребления относится к объему производства средств производства как 3 : 1.

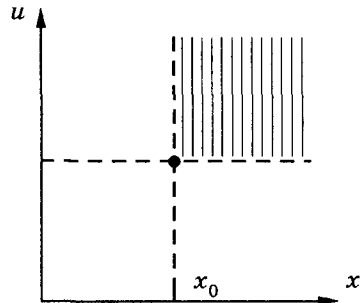
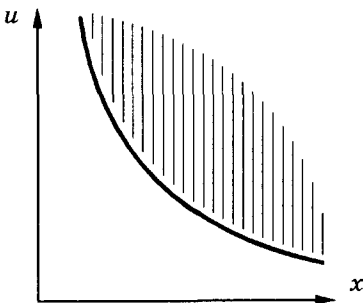
# ОТВЕТЫ

## ГЛАВА 1

1. 10% 2. 17%, или 93,6 штук 3. 30% 4. 20% 5. 6% 6. 30%  
 7. 9,09% 8. В 1,25 раза 9. Производительность труда увеличилась на 30%  
 10. Нет, нельзя 11. Производительность труда в Экомании выше примерно на 14,6%

## ГЛАВА 2

1. Полезность 21-го товара больше 0,5, но меньше 1  
 2. 1,5 литра сока плюс 2,5 литра минеральной  
 3.



Заштрихованы области, в которых  $u > \bar{u}$

7.  $\Delta x/\Delta y = 2$  и  $\Delta x/\Delta y = 3$  для двух интервалов, задаваемых тремя точками

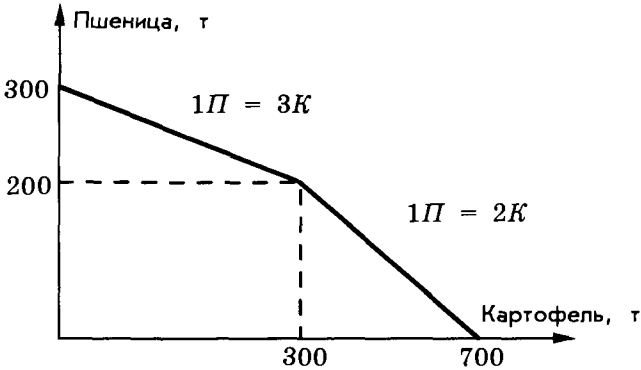
$$8. \max \left\{ u_1 \left( x + \frac{\Delta M}{P} \right) - u_1(x); \Delta M \right\}.$$

9. Будет потрачено 9700 руб и куплена одна единица товара А, 4 единицы товара В и 3 — товара С



ГЛАВА 3

1.



2а. Альтернативная стоимость производства еще 1 т картофеля зависит от уровня его производства. Если его производится 75 т, то это 0,2 т пшеницы, а при уровне производства 150 т она выше — 1 т пшеницы.

2б. При выращивании 50 т пшеницы выращивается 150 т картофеля. Если же отказаться от 50 т пшеницы, то производство картофеля достигнет 200 т. Таким образом, альтернативная стоимость (цена выбора) 50 т пшеницы равна 50 т картофеля.

4. Указанные точки не могут принадлежать какой-либо выпуклой кривой и поэтому не могут лежать на одной кривой производственных возможностей. Объясняется это соотношением координат точек В и D:

$$b_1 > d_1 \quad (8 > 5),$$

но

$$b_2 > d_2 \quad (13 > 12)$$

6. Минимальный выпуск масла равен 110 т, а максимальный — 120

## ГЛАВА 4

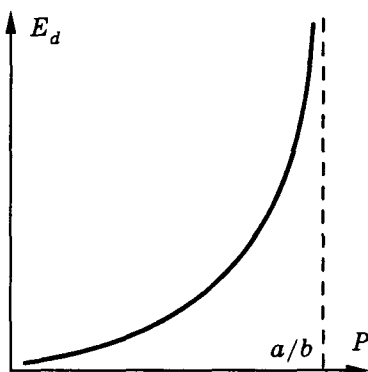
5. При разных значениях цены следует суммировать указанные частные функции спроса.

Цена	Спрос
$P > 10$	0
$8 < P \leq 10$	$Q(1) = 50 - 5P$
$5 < P \leq 8$	$Q(1) + Q(3) = 82 - 9P$
$P \leq 5$	$Q(1) + Q(2) + Q(3) = 122 - 17P$

7. Эластичность спроса  $E_d$  при линейной функции спроса  $Q_d = a - b \cdot P$  равна

$$E_d = \frac{b \cdot P}{a - b \cdot P}$$

и от нуля при  $P = 0$  растет до бесконечности при  $P = a/b$



11. Равновесная цена газа при цене нефти 8 долл за баррель составляет 2 долл за куб фунт Эластичность предложения в точке

равновесия составляет 0,2, а эластичность спроса равна 0,5 Поэтому выручка за газ снизится при снижении его цены на 3 процента Перекрестная эластичность газа по цене нефти в точке равновесия равна 1,5

22. Шкала спроса выглядит так.

Цена, тыс. руб.	$P \leq 160$	$160 < P \leq 180$	$P > 180$
Величина спроса	3	1	0

Максимум выручки достигается так

а) при оптовой цене 140 тыс руб путем установления розничной цены на уровне 160 тыс руб

$$(160 - 140) \cdot 3 = 60 \text{ тыс руб ,}$$

б) при оптовой цене 160 тыс руб необходимо повысить розничную цену до 180 тыс руб ,

в) при оптовой цене 150 тыс руб выручка одинакова и при розничной цене 160 тыс руб , и при цене 180 тыс руб

23. а) Шкала спроса

Цена, тыс. руб.	12	13	14	14,5	15	15,5
Величина спроса	20	15	12	7	5	1

Шкала предложения:

Цена, тыс. руб.	13,5	14,0	14,5	15,0
Величина предложения	5	15	25	30

б) Цена равновесия в данном случае это  $P_o = 14$ ,

$$Q_o = \min (12, 15) = 12$$

в) Если на рынок не выйдут покупатели  $B$  и  $D$  то шкала спроса будет иметь вид

Цена, тыс. руб.	12	14	15	15,5
Величина спроса	15	10	5	1

$$P_0 = 14 \quad Q_0 = 10$$

г) Приобретения покупателей

Покупатель	$A$	$B$	$C$	$D$	$E$	$F$
Число товаров	0	0	5	2	4	1

д) и кто сколько продал

Покупатель	$t$	$x$	$y$	$z$
Число товаров	5	10	0	0

е) Выигрыши

\* покупателя  $C$   $5 \cdot (14 - 14) = 0$

\* продавца  $t$   $(14 - 13,5) \cdot 5 = 2,5$

ж) Общий неудовлетворенный спрос равен  $20 - 12 = 8$

Избыточное предложение  $30 - 12 = 18$

(количество нереализованных товаров)

з) Общая выгода продавцов —  $t$  и  $x$  — такова

$$(14 - 14) \cdot 10 + (14 - 13,5) \cdot 5 = 2,5$$

Общая выгода покупателей

$$(14 - 14) \cdot 5 + (14,5 - 14) \cdot 2 + (15 - 14) \cdot 4 + (15,5 - 14) \cdot 1 = 5,5.$$

## ГЛАВА 5

1. Уровень цен снизился на 5,3%
2.  $\left[ \frac{1}{0,85} - 1 \right] \cdot 100\% = + 18\%$ .
3. Производительность труда выросла на **20%**.
4. **114 (млн. т).**

7. *Базисно-взвешенные индексы*

Индекс цен 62,69

Индекс количества 0,5867

*Текуще-взвешенные индексы*

Индекс цен 70,48

Индекс количества 0,6596

**Общий индекс цен = 66,47, или 6647%**

**Общий индекс объема = 0,6220 или 62,20%**

26. 56 9%

28. На основании уравнения Фишера можно сделать следующие выводы

было

$$M \cdot V_0 = P \cdot Q$$

$$V_0 = \frac{P \cdot Q}{M}$$

стало

$$1,05M \cdot V_1 = 1,4P \cdot 0,9Q$$

$$V_1 = \frac{P \cdot Q}{M} \cdot \frac{1,4 \cdot 0,9}{1,05} = 1,2V_0$$

То есть скорость обращения денег увеличилась на **20%**.

## ГЛАВА 6

2. Пусть  $P_1$  — цена при обычном учете векселей, а  $P_2$  — цена векселя по формуле математического дисконтирования при одних и тех же  $n$ ,  $d$  и  $S$

$$P_1 = S \cdot \left[ 1 - \frac{n \cdot d}{360} \right] \text{ и } P_2 = \frac{S}{\left[ 1 + \frac{n \cdot d}{360} \right]}$$

Нужно сравнить две величины.

$$S \cdot \left[ 1 - \frac{n \cdot d}{360} \right] \text{ и } \frac{S}{\left[ 1 + \frac{n \cdot d}{360} \right]}.$$

Получаем  $S \cdot \left[ 1 - \frac{n \cdot d}{360} \right]^2 < S$ , значит,  $P_1 < P_2$  всегда, а поскольку банкир вексель покупает, то обычный учет для него выгоднее

3.  $\left[ \frac{60}{55} - 1 \right] \cdot 100\% = 9,09\%$

4. 8,695%

5. 26,25%, применяя схему сложных процентов

6. 34,22%

7. 1,1 млн руб

8. (1) Математическое дисконтирование

$$P_1 \cdot \left[ 1 + \frac{n \cdot d}{360} \right] = 90, \text{ откуда } P_1 \cdot \left[ 1 + \frac{30}{360} \cdot 2,4 \right] = P_1 \cdot 1,2 = 90$$

Получаем  $P_1 = 75$ , а дисконт  $D_1 = 90 - 75 = 15$

(2) Обычный или банковский учет векселей составит

$$P_2 = S \cdot \left[ 1 - \frac{n \cdot d}{360} \right] = 90 \cdot \left[ 1 - \frac{30}{360} \right] \cdot 2,1 = 90 \cdot (1 - 0,175) = 74,25, \text{ а дисконт } D_2 = 15,75$$

Следовательно, услуги первого банка выгоднее

9. 15,38%

10.

(1) Предлагаемый кредитный договор оценивается так

$$S = 10 \text{ млн руб} \cdot \left[ 1 + \sum_{j=1}^m n_j \cdot t_j \right] =$$

$$= 10 \cdot (1 + 0,06 + 0,5 \cdot 0,065 + 0,5 \cdot 0,07 + 0,5 \cdot 0,075)$$

Следовательно, сумма процента 1,65 млн руб

(2) 5% на обычных условиях дают следующую сумму процента

$$(1,05)^2 \cdot 1,025 = 1,13,$$

или сумма процента 1,3 млн руб

Следовательно, второй вариант выгоднее

11. Реальная сумма, полученная в кредит, равна  
 $1,5 - 0,25 = 1,25$  млн руб

Процент (номинальный) за полгода составит

$$\frac{0,25}{1,25} \cdot 100\% = 20\%,$$

а инфляция

$$[(1,01)^6 - 1] \cdot 100\% = 6,15\%.$$

Следовательно, реальный процент  $i_p = \left[ \frac{1,20}{1,0615} - 1 \right] \cdot 100\% = 13\%$

за полгода, или, по правилу сложного процента, реальная эффективная ставка процента составит  $(1,13 \cdot 1,13 - 1) \cdot 100\% = 27,7\%$

12. Для заемщика выгоднее первый вариант — на 4,84% основного капитала (в будущих ценах при индексировании сегодняшних сумм).

13. По обычному банковскому способу кредит стоит дешевле на 0,62%

14. 163,6%

15. 107,36%

16. Первый вариант банкиру выгоднее на 70,32% годовых

17. 10,48%

18. 12%

19. – 16,67%

20. 38,89%

21. 12,1 млн руб

22. 4243,26 долл.

23. 97 561 долл

24. Вариант «а» выгоднее на 0,55%

25. 20%.

26. 6655 долл

27. 2 млн руб

28. 126,4%

29. 10 млн руб
30. 15%
31. 16,36 млн руб , 15,25 млн руб , 11,615 млн руб
32. 432 тыс руб
33.  $APR = 333\%$
34. 900 млн руб
35. 40%
36. 6 7%
37. 654%
38. 22,25%
39. 9,65%
40. 25%

41. Ответ достигается решением уравнения эквивалентности процентных ставок при использовании математического дисконтирования

$$308 \cdot (1 + t \cdot 0,1)^{-1} = 102 \cdot \left(1 + \frac{72}{360} \cdot 0,1\right)^{-1} + 206 \cdot \left(1 + \frac{108}{360} \cdot 0,1\right)^{-1},$$

где  $t = 96$  дней — искомая отсрочка

42. 7 лет и 3 месяца
43. 1793 тыс руб
44. Примерно на 0 25% годовых
45. Да, с 6,24% до 6,25% в пересчете на эффективную ставку процента
47. 70%
48. Никогда
49. Примерно 7 лет



**ГЛАВА 7**

1. Уровень жизни вырос на 4,76%
2. Потери от инфляции составляют 5,4%
3. 305,85 тыс руб в ценах на конец ноября
4. Надо нанять 6 рабочих, а шкала спроса на труд такова

W, тыс руб	$0W \leq 157,5$	$157,5 < W \leq 200$	$200 \leq W < 267$	$267 \leq W$
Q	6	4	3	0

5.  $2,1 < W < 2,3$  то есть от 2,1 долл /час до 2,3 долл /час
6. Платя «вчерную», предприниматель «экономит» 37,85% расходов на оплату труда
7. Шкала спроса

Q		6	5	4	3	0
W, DM/неделя	от	0	9	41	85	115
	до	9	41	85	115	—

8. а) 179289,5 руб    б) 165474 руб
9. 12371225 руб
10. Примерно 15%
11. Шкала предложения

Q час в день		0	8	12	20	28	32
W, долл /час	от	0	2,50	5	6	12,51	18,76
	до	2,49	5	6	12,51	18,75	—

12. 10%
13. 4%

14. 1,9%
15. 4,2%
16. Безработица увеличилась на 50 человек в пересчете на год

## ГЛАВА 8

1. 3 шт
2.  $b^2/4 \cdot a^2$
5. 30,07 млн руб
6. 2,2 млн руб и 13,804 млн руб
8. 40 млн руб
10. 8 млн руб
13. Одинаковую наибольшую прибыль приносят затраты труда на уровне 4 и 5 единиц, диапазон цен — от 5/4 до 15/11 долл

## ГЛАВА 9

1. В посевную надо нанять 2 работников, а для уборки урожая — 3
4. а) 250 000 руб , б) примерно 235 650 руб , в) с поправкой на риск можно ориентироваться на цену облигации, равную 212 085 руб
6. Кусочно-линейная кривая производственных возможностей определяется следующими точками

Пшеница	9900	6900	4400	0
Кукуруза	0	9000	14 000	22 000

8. Примерно 23,6%
14. Выручка покрывает только 50% издержек, то есть убытки составят 50% от издержек

## ГЛАВА 11

1. 5,(45) млн долл

2. 6,97% годовых

3. 4,63%

4. Равновесная цена — 767 франков, равновесный объем продаж — 11/6 млн шт

13. а) Да Например, засеяв всю площадь пшеницей и получив 25 млн т, Канада может обменять с выгодой для обеих стран свою пшеницу на  $25 \cdot 4 = 100$  млн т кукурузы, б) 115 млн т

14. б) 100 тыс эко в Экомании и 144 тыс эко в Эколандии

17. Запасы в 2 тыс т апельсинов в Марокко и 2 тыс т пшеницы в Испании и есть выигрыш от специализации и торговли

## ГЛАВА 12

1. Цена увеличится с 50 до 53,22 долл , а объем продаж сократится с 50 до 46,78 тыс шт

2. Прежнее равновесие будет восстановлено цена — 50 долл , а объем продаж — 50 тыс шт

4. а) 600 млн руб , б) убытки увеличились до 1232 млн руб , в) убытки сократились до 192 млн руб , г) потоварная дотация должна составить 11,(7) тыс руб

6. 52,94%

7 126 руб

8. Прибыль за 5 лет составит 12735,7 злотых, или 26,35%

10. Инфляция составила в среднем 6,8%

11. 100%

12. Денежная масса увеличилась в 2,9 раза

## СОДЕРЖАНИЕ

<b>ПРЕДИСЛОВИЕ</b>	<b>3</b>
<b>Глава 1.</b>	
<b>ПРОИЗВОДИТЕЛЬНОСТЬ ТРУДА</b>	<b>4</b>
Задачи с решениями	4
Задачи для самостоятельного решения	6
<b>Глава 2.</b>	
<b>ТЕОРИЯ ПОЛЕЗНОСТИ И ВЫБОР ПОТРЕБИТЕЛЕЙ</b>	<b>9</b>
Задачи с решениями	9
Задачи для самостоятельного решения	12
<b>Глава 3.</b>	
<b>АЛЬТЕРНАТИВНАЯ СТОИМОСТЬ. КРИВАЯ ПРОИЗВОДСТВЕННЫХ ВОЗМОЖНОСТЕЙ</b>	<b>15</b>
Задачи с решениями	15
Задачи для самостоятельного решения	16
<b>Глава 4</b>	
<b>СПРОС И ПРЕДЛОЖЕНИЕ</b>	<b>19</b>
Задачи с решениями	19
Задачи для самостоятельного решения	22
<b>Глава 5.</b>	
<b>ДЕНЬГИ И ИНФЛЯЦИЯ. ИНДЕКСЫ</b>	<b>33</b>
Теория <i>Индексы</i>	33
Задачи с решениями	36
Задачи для самостоятельного решения	37
<b>Глава 6</b>	
<b>БАНКИ И БАНКОВСКАЯ СИСТЕМА</b>	<b>43</b>
Теория <i>Сравнение условий кредитов</i>	43
Задачи с решениями	45
Задачи для самостоятельного решения	47

<b>Глава 7</b>	
<b>РЫНОК ТРУДА</b>	<b>55</b>
Задачи с решениями	55
Задачи для самостоятельного решения	55
<b>Глава 8</b>	
<b>ТЕОРИЯ ПРОИЗВОДСТВА И РЫНОЧНАЯ СТРУКТУРА</b>	<b>61</b>
Теория <i>Издержки и прибыль</i>	61
Теория <i>Анализ производства</i>	65
Теория <i>Рынки и цены</i>	68
Задачи с решениями	70
Задачи для самостоятельного решения	75
<b>Глава 9.</b>	
<b>РЫНКИ КАПИТАЛА И ЗЕМЛИ</b>	<b>86</b>
Задачи с решениями	86
Задачи для самостоятельного решения	87
<b>Глава 10.</b>	
<b>СЕМЬЯ В МИРЕ ЭКОНОМИКИ</b>	<b>94</b>
Задачи с решениями	94
Задачи для самостоятельного решения	95
<b>Глава 11.</b>	
<b>МЕЖДУНАРОДНАЯ ЭКОНОМИКА</b>	<b>100</b>
Теория <i>Абсолютные и сравнительные преимущества</i>	100
Задачи с решениями	102
Задачи для самостоятельного решения	105
<b>Глава 12.</b>	
<b>ГОСУДАРСТВО И ЭКОНОМИКА</b>	<b>114</b>
Теория <i>Косвенные налоги выгоды и потери</i>	114
Теория <i>Кейнсианский крест</i>	115
Теория <i>Статистика на макроуровне ВВП и другие</i>	118
Задачи с решениями	119
Задачи для самостоятельного решения	121
<b>ОТВЕТЫ</b>	<b>128</b>

**В издательстве “ВИТА-ПРЕСС”  
вы можете приобрести следующие издания:**

*Липсиц И. В.* “Удивительные приключения в стране Экономика”. Факультативный курс. — 5–6 кл.

*Замек М. Я.* “32 урока по экономике”. Методическое пособие к факультативному курсу по экономике. 5–6 кл.

*Вигдорчик Е. А. и др.* “Элементарная математика в экономике и бизнесе”. Пособие для преподавателя математики с включением экономико-математических заданий.

*Липсиц И. В.* “Экономика”. Часть I. Федеральный комплект учебников. 9 кл.

*Липсиц И. В.* “Экономика”. Часть II. Федеральный комплект учебников. 10 кл.

*Савицкая Е. В.* “Уроки экономики в школе”. 9 кл. Методическое пособие к учебнику И. В. Липсица. ч. 1.

*Мицкевич А. А.* “Экономика в задачах и тестах”. Пособие для учителя к учебникам 9–10 кл.

*Макарова О. Ю., Раев В. А.* “Сборник тестов по экономике” Раздаточный материал для проверки знаний. 9–10 кл.

*Макарова О. Ю., Раев В. А.* “Тесты по экономике” Пособие для учителя. 9-10 кл.

*Любимов Л. Л. и др.* “Основы экономических знаний”. Федеральный комплект учебников. 10–11 кл.

*Абчук В. А.* “Основы предпринимательства”. Учебное пособие для учащихся старших классов. Серия “Экономика для школ России”.

*Абчук В. А.* “250 занимательных задач по менеджменту и маркетингу”. 9-11 кл.

*Левита Р. Я.* “История экономических учений”. Пособие для учащихся 10–11 кл.

*Липсиц И. В.* “Введение в экономику и бизнес”. Учебник для учащихся средних и специальных учебных заведений неэкономических специальностей.

*Коршунова Н. И. и др.* “Математика в экономике” Пособие для учащихся 10–11 кл.

---

В издательстве “Вита-Пресс” готовится к выпуску в 1998 году 3-е издание задачника **А.А.Мицкевича “Сборник заданий по экономике”**, структура которого соответствует стандарту образовательной области “Экономика”.

---

НАШ АДРЕС: 107140, МОСКВА,  
УЛ. ГАВРИКОВА, 7/9.  
ТЕЛ. 264-83-00  
ТЕЛ./ФАКС 264-17-96

*Мицкевич Андрей Алексеевич*

## СБОРНИК ЗАДАНИЙ ПО ЭКОНОМИКЕ

Редактор *Э А Шершинева*  
Обложка художника *И П Смирнова*  
Корректор *В В Гурьянова*  
Компьютерная верстка *И В Ломакиной*

Лицензия ЛР № 064367 от 26.12.95. Сдано в набор 15.04.97  
Подписано в печать 05.03.98. Формат 60 × 90<sub>16</sub>. Бумага офсетная.  
Гарнитура Школьная. Уст. печ. т. 90.  
Уч.-изд. т. 85. Доп. тираж I 25000 экз. Заказ 1702.

Издательство «Вита-Пресс»  
107140, Москва ул. Гаврикова 7/9  
тел. 264-83-00, тел./факс 264 17 96

Отпечатано с оригинал-макета  
в ОАО «Можайский полиграфический комбинат»  
143200 г. Можайск ул. Мира 93